

**ŠKOLSKO NATJECANJE IZ POVIJESTI**

**3. SKUPINA: 18. i 19. stoljeće**

**ŠKOLSKA GODINA: 2013. / 2014.**

**Četvrtak, 6. veljače 2014.**

**13:00 – 14:00 sati**

**ZAPORKA:** \_\_\_\_\_

**OIB:** \_\_\_\_\_

**BROJ BODOVA:**

<b>40</b>	
-----------	--

**POSTOTAK RIJEŠENOSTI ISPITA:** \_\_\_\_\_

**ČLANOVI PROSUDBENOG POVJERENSTVA:**

1. \_\_\_\_\_

2. \_\_\_\_\_

3. \_\_\_\_\_

---

**(MJESTO I NADNEVAK)**

**NAPUTCI:**

1. Imate 60 minuta za rješavanje ispita.
2. Odgovore u ispit u upisujete na za to predviđena mjesta. Ispred svake skupine zadataka nalazi se uputa za njihovo rješavanje. Pozorno ju pročitajte.
3. Ispit pišite plavom ili crnom kemijskom olovkom. Pišite čitko.
4. Osobna imena i prezimena te geografska imena pišite izvorno.
5. Jednom napisane odgovore nije dopušteno prepravljati.
6. Možete koristiti list za koncept tijekom rješavanja ispita. List za koncept predviđen je kao pomoćni list i on se neće bodovati. U omotnici zajedno s ispitom predajete i list za koncept.
7. Želimo Vam mnogo uspjeha!

I. U zadatcima koji slijede samo je jedan odgovor točan. Zaokružite slovo ispred točnoga odgovora.

1. Kako se zove povijesni događaj, prikazan na slici, a obilježava se kao francuski nacionalni praznik?

1	
---	--



- A. Bitka kod Valmyja
- B. Pobuna u Vendéeji
- C. Pad Bastille
- D. Pohod na Versailles

2. Koja je od navedenih institucija proglasila uspostavu Prve Republike u Francuskoj?

1	
---	--

- A. Narodni konvent
- B. Narodna skupština
- C. Ustavotvorna skupština
- D. Zakonodavna skupština

3. U kojem je gradu osnovan *Političko- kameralni studij* 1769. godine?

1	
---	--

- A. u Osijeku
- B. u Požegi
- C. u Varaždinu
- D. u Zagrebu

4. Kojoj je državi pripao prostor Neuma nakon mira u Požarevcu?

1	
---	--

- A. Dubrovačkoj Republici
- B. Habsburškoj Monarhiji
- C. Mletačkoj Republici
- D. Osmanskom Carstvu

**5. Koju je luku s Karlovcem povezivala cesta Jozefina?**

1	
---	--

- A. Bakar
- B. Kraljevicu
- C. Rijeku
- D. Senj

**6. Koja je poljoprivredna kultura postala glavna žitarica za prehranu stanovništva i stoke u 18. stoljeću na hrvatskom prostoru?**

1	
---	--

- A. ječam
- B. kukuruz
- C. pšenica
- D. raž


**7. U kojem je gradu bilo sjedište mletačkog providura za Istru?**

1	
---	--

- A. u Kopru
- B. u Poreču
- C. u Puli
- D. u Rovinju

**8. Tko je prosvjetitelj na slici, a zalagao za trodiobu vlasti; na zakonodavnu, izvršnu i sudsku?**

1	
---	--



- A. Charles de S. Montesquie
- B. Denis Diderot
- C. Francois M. Voltaire
- D. Jean J. Rousseau

**II. U sljedećim zadatcima povežite međusobno srodne pojmove upisivanjem slova na praznu crtu iza broja. Dva od ponuđenih pojmova nemaju svoj adekvatan par i nigdje se ne pripisuju.**

**9. Pridružite državama njihove uglednike.**

3	
---	--

- |                                     |                                  |
|-------------------------------------|----------------------------------|
| 1. _____ Francuska                  | A. Klemens Wenzel von Metternich |
| 2. _____ Poljska                    | B. William Pitt Stariji          |
| 3. _____ Rusija                     | C. Wenzel Anton Kaunitz          |
| 4. _____ Sjedinjene Američke Države | D. Thomas Jefferson              |
| 5. _____ Velika Britanija           | E. August Poniatowski            |
|                                     | F. Grigorij Potemkin             |
|                                     | G. Charles Maurice Talleyrand    |

**10. Pridružite osobama područje njihova djelovanja.**

3	
---	--

- |                                |                  |
|--------------------------------|------------------|
| 1. _____ Baltazar Adam Krčelić | A. književnost   |
| 2. _____ Luka Sorkočević       | B. povijest      |
| 3. _____ Ljudevit Mitterpacher | C. poljoprivreda |
| 4. _____ Matija Antun Relković | D. medicina      |
| 5. _____ Tripo Kokolja         | E. glazba        |
|                                | F. slikarstvo    |
|                                | G. novinstvo     |

**11. Pridružite Napoleonovim bitkama godine.**

3	
---	--

- |                               |          |
|-------------------------------|----------|
| 1. _____ bitka kod Jene       | A. 1805. |
| 2. _____ bitka kod Leipziga   | B. 1806. |
| 3. _____ bitka kod Trafalgara | C. 1807. |
| 4. _____ bitka kod Wagrama    | D. 1809. |
| 5. _____ bitka kod Waterlooa  | E. 1813. |
|                               | F. 1814. |
|                               | G. 1815. |

**III. U sljedećim zadacima odgovorite na pitanje kratkim odgovorom, riječju ili brojem. Odgovor upišite na praznu crtu.**

**12. Kako se u Osmanskom Carstvu nazivaju zapovjednici utvrde?**

1	
---	--

---

**13. Koja je dinastija došla na vlast u Francuskoj nakon konačnog poraza Napoleona I.?**

1	
---	--

---

**14. Tko je bio vlasnik zemlje u Vojnoj krajini?**

1	
---	--

---

**15. Koje je godine Mletačka Republika priznala Dubrovačku Republiku?**

1	
---	--

---

**16. Koji je stroj usavršio James Watt?**

1	
---	--

---

**17. Kako se naziva dokument koji uređuje odnose između feudalaca i kmetova, na hrvatskim prostorima?**

1	
---	--

---

**18. Koja je manufaktura osnovana u Zadru 1730. godine?**

1	
---	--

---

**IV. U sljedećim zadatcima kronološki poredajte navedene činjenice, događaje, procese ili osobe, upisivanjem rednih brojeva od 1. do 5. na praznu crtu iza slova, tako da 1. označava najstariji, a 5. najmlađi.**

**19. Poredajte kronološki navedene ratove.**

2	
---	--

- A. \_\_\_\_\_ rat za habsburško nasljeđe
- B. \_\_\_\_\_ rat za nezavisnost SAD-a
- C. \_\_\_\_\_ rat za poljsku krunu
- D. \_\_\_\_\_ rat za španjolsku baštinu
- E. \_\_\_\_\_ sedmogodišnji rat

**20. Poredajte kronološki navedene događaje.**

2	
---	--

- A. \_\_\_\_\_ ukinuto je Hrvatsko kraljevsko vijeće
- B. \_\_\_\_\_ provedena je izborna reforma u Dubrovniku
- C. \_\_\_\_\_ otvorena je Kraljevska akademija
- D. \_\_\_\_\_ uvedena je podjela na deset okružja
- E. \_\_\_\_\_ Trst i Rijeka postale su slobodne luke

**21. Poredajte kronološki navedene mirovne sporazume.**

2	
---	--

- A. \_\_\_\_\_ mir u Beogradu
- B. \_\_\_\_\_ mir u Campoformiju
- C. \_\_\_\_\_ mir u Požarevcu
- D. \_\_\_\_\_ mir u Srijemskim Karlovcima
- E. \_\_\_\_\_ mir u Svištovu

- V. U sljedećim zadacima pažljivo pročitaite povijesne izvore i kratko odgovorite na postavljena pitanja.

**22. Pažno pročitaite ulomak iz izvornoga povijesnoga teksta i odgovorite na pitanja.**

*„Narodna skupština priznaje i pod zaštitom i prisutnosti Vrhovnog bića obznaujuje ova prava čovjeka i građanina:*

*Čl. 1 Ljudi se rađaju i ostaju slobodni i jednaki u pravima. Društvene se razlike mogu temeljiti samo na općoj koristi.*

*Čl. 2 Cilj je svakoga državnog udruživanja zaštita prirodnih i neotuđivih prava čovjeka. Ta su prava: sloboda, vlasništvo, sigurnost i otpor protiv ugnjetavanja...”*

- A. Kako se naziva dokument iz kojeg je navedeni tekst?

1	
---	--

- B. Koje je godine usvojen dokument iz kojeg je navedeni tekst ?

1	
---	--

- C. Kako se naziva institucija koja je izdala taj dokument?

1	
---	--

**23. Pažno pročitaite ulomak iz izvornoga povijesnoga teksta i odgovorite na pitanja.**

*„Kada Turke cilo otiraste,  
Slavoniju opet posidoste,  
sve odonda ona se upravlja  
i na novi običaj postavlja“*

- A. Tko je, imenom i prezimenom, autor ovih stihova?

1	
---	--

- B. Kako se naziva djelo u kojem se nalaze ovi stihovi?

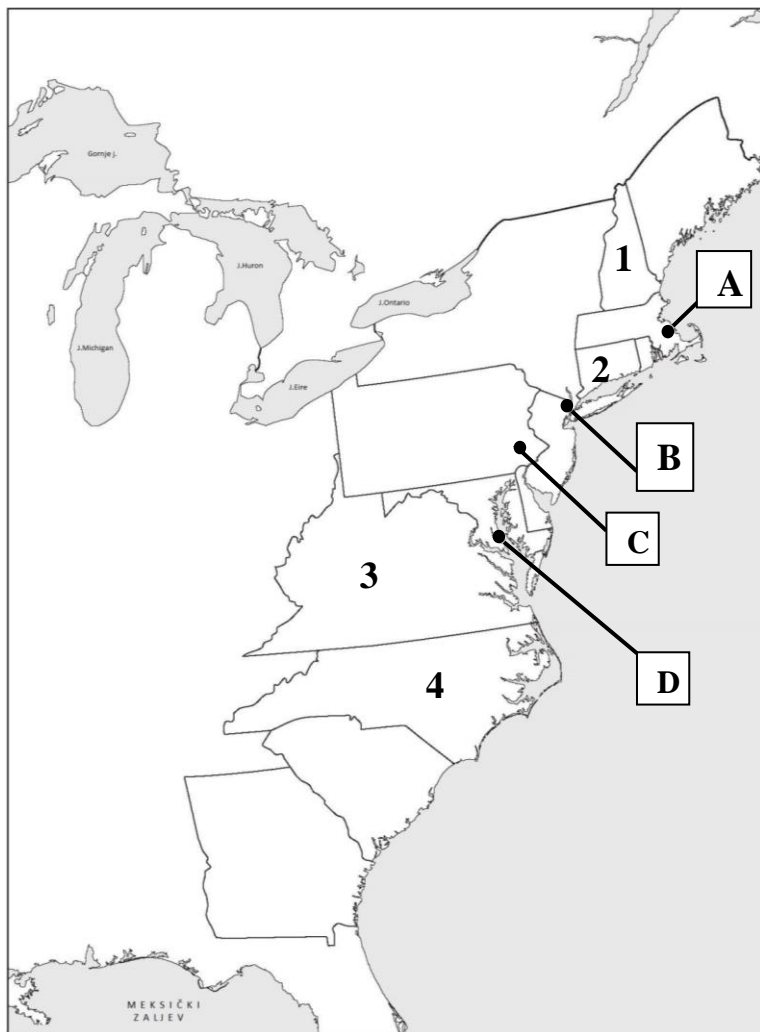
1	
---	--

- C. Koje je godine prvi put objavljeno to djelo?

1	
---	--

VI. U sljedećim zadatcima proučite slijepe karte i odgovorite na postavljena pitanja

24. Pozorno proučite slijepu kartu vezanu uz postanak Sjedinjenih Američkih Država i odgovorite na postavljena pitanja.



A. Kojim je brojem na slijepoj karti označena prva britanska kolonija na atlantskoj obali Sjeverne Amerike?

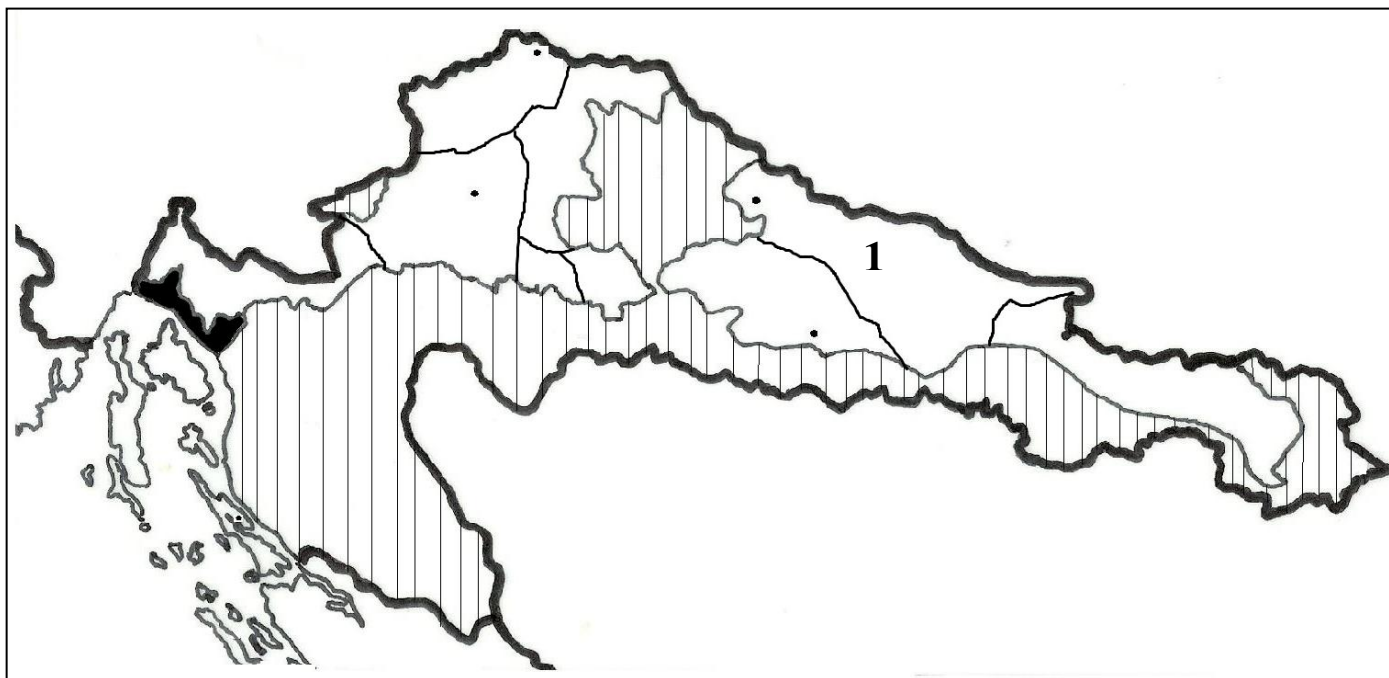
1	
---	--

B. Kojim je slovom na slijepoj karti označen grad u kojem je prihvaćena Deklaracija neovisnosti?

1	
---	--



25. Pozorno proučite slijepu kartu vezanu uz upravnu podjelu Marije Terezije i odgovorite na postavljena pitanja.



A. Kako se naziva županija označena brojem 1 na slijepoj karti?

1	
---	--

---

B. Kako se naziva područje označeno okomitim crtama na slijepoj karti?

1	
---	--

---