

DRŽAVNO NATJECANJE IZ POVIJESTI

2. SKUPINA:

ŠKOLSKA GODINA: 2014. / 2015.

14. travnja 2015.

10:00 – 11:00 sati

ZAPORKA: _____

OIB: _____

BROJ BODOVA:

50	
----	--

POSTOTAK RIJEŠENOSTI ISPITA: _____

ČLANOVI PROSUDBENOG POVJERENSTVA:

1. _____

2. _____

3. _____

(MJESTO I NADNEVAK)

NAPUTCI:

1. Imate 60 minuta za rješavanje ispita.
2. Odgovore u ispitu upisujete na za to predviđena mjesta. Ispred svake skupine zadataka nalazi se uputa za njihovo rješavanje. Pozorno ju pročitajte.
3. Ispit pišite plavom ili crnom kemijskom olovkom. Pišite čitko. Nečitki odgovori bodovat će se s 0 bodova.
4. Osobna imena i prezimena te geografska imena pišite izvorno prema udžbenicima odobrenim od MZOS-a u šk.g. 2014./2015.
5. Jednom napisane odgovore nije dopušteno prepravljati.
6. Možete koristiti list za koncept tijekom rješavanja ispita. List za koncept predviđen je kao pomoćni list i on se neće bodovati. U omotnici zajedno s ispitom predajete i list za koncept.
7. Želimo Vam mnogo uspjeha!

I. U zadacima koji slijede samo je jedan odgovor točan.

Zaokružite slovo ispred točnoga odgovora.

1. Kako se nazivaju vođe hajdučkih četa pod osmanskom vlašću?

- a) Jataci
- b) Harambaše
- c) Dizdari
- d) Uskoci

1	
---	--

2. Kada je izgrađen most prikazan na slici?



- a) Prva polovica 15. stoljeća
- b) Druga polovica 15. stoljeća
- c) Prva polovica 16. stoljeća
- d) Druga polovica 16. stoljeća

1	
---	--

3. Koji je grad bio središte Zlatne Horde?

- a) Kijev
- b) Tabriz
- c) Saraj
- d) Moskva

1	
---	--

4. Što čini najvažniji element husitskog "zida"?

- a) Kamen
- b) Kola
- c) Koplja
- d) Konjica

1	
---	--

5. Tko vlada Engleskom u vrijeme poraza "nepobjedive armade"?

- a) Henrik VIII.
- b) Elizabeta I.
- c) Jakov I.
- d) Jakov II.

1	
---	--

6. Koja je bitka neposredno prethodila sklapanju Vašvarskog mira?

- a) Bitka kod Gorjana
- b) Bitka kod Kaniže
- c) Bitka kod Slankamena
- d) Bitka kod Sv. Gotharda (Mogersdorfa)

1	
---	--

7. Na koji je vremenski rok biran dubrovački knez?

- a) Jedan mjesec
- b) Šest mjeseci
- c) Jednu godinu
- d) Dvije godine

1	
---	--

8. Kome je Stjepan Držislav ostavio vlast u nasljedstvo?

- a) Krešimiru II.
- b) Krešimiru III.
- c) Gojslavu
- d) Svetoslavu Suronji

1	
---	--

9. Kakav je zemljoradnički odnos opisan u sljedećem tekstu?

... Radoslav Greckogna uze u zakup i primi na obrađivanje od Nikole Kasoctija, spomenutog konzula, čitav njegov obrađeni vinograd, koji je imao u Spiljanima pokraj vinograda Prodenova. Ujedno obeća, da će na istom mjestu uz te loze u sljedećih šest godina obraditi osam vretena zemlje istog Nikole, ako ne bude opravdane ili od Boga poslone zapreke. ... da će dobro i savjesno težiti i obrađivati u skladu s običajima i valjanom navikom grada Trogira, naime jedanput u godini obrezati i dvaput okopati i očistiti od kamenja i svakoga korova.

- a) Naturalna renta
- b) Dimnica
- c) Kmetstvo
- d) Težaština

1	
---	--

II. U sljedećim zadacima povežite međusobno srodne sadržaje. Upišite slovo iz desnog stupca na odgovarajuću crtu ispred navoda u lijevom stupcu. Tri slova (sadržaja) su višak.

3	
---	--

10. Pojmu pridruži definiciju:

- | | |
|-----------------------|--------------------------------|
| ___ Kompaktat | a) Katoličko krupno plemstvo |
| ___ Landfryd/Lantfrit | b) Vojno-politički savez/zdrug |
| ___ Utrakvisti | c) Chebski sudac |
| | d) Poljska vojska |
| | e) Dogovor husita i katolika |
| | f) Husiti |

11. Građevinama pridruži nazive:







3	
---	--

- a) Nehaj
- b) Sisačka utvrda
- c) Veliki Tabor
- d) Kula svetog Nikole
- e) Minčeta
- f) Klis

III. U sljedećim zadacima odgovorite na pitanja kratkim odgovorima.

12. Koji umjetnik nosi nadimak "Michelangelo minijature"?

1	
---	--

13. Koju povijesnu osobu vežemo za sljedeće događaje: bitka kod Malešava, opsada Pribyslave, bitka kod Sudomera, obrana Vitkova?

1	
---	--

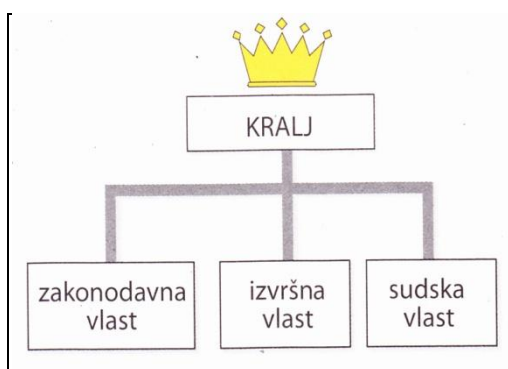
14. Koji je češki grad u 15. stoljeću bio najveće katoličko uporište i mjesto u kojem je 1468. godine pokrenuta tiskara?

1	
---	--

15. Tko je početkom 15. stoljeća nosio titulu *splitskog hercega*?

1	
---	--

16. Koji je oblik državnog uređenja prikazan na shemi?



1	
---	--

17. Koji povijesni izvor svjedoči o ubojstvu Gojzlava i prisezi hrvatskog vladara Petra Krešimira?

18. Koji je predmet, bitan za pomorska istraživanja, prikazan na slici?

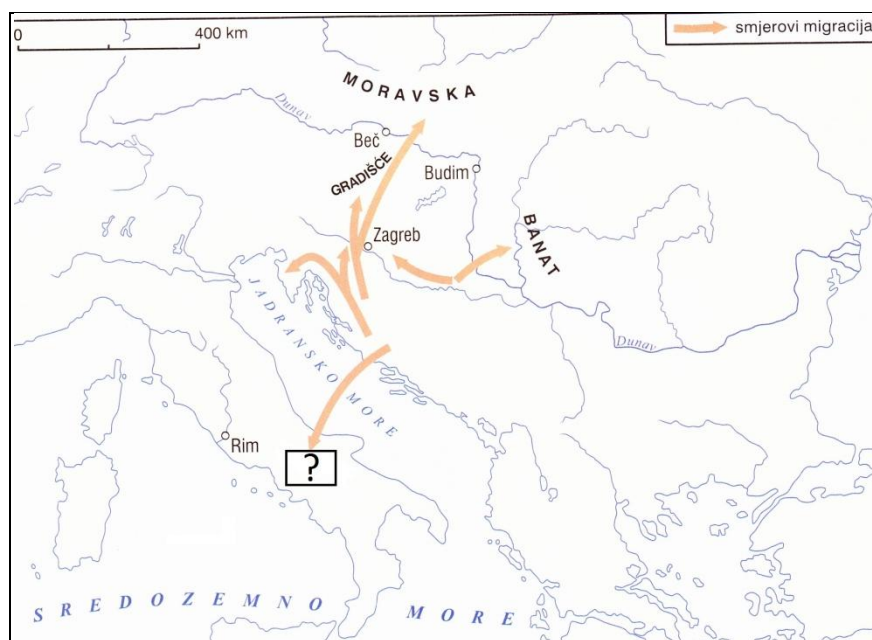


1	
---	--

19. Tko se odrekao Hrvatske, Slavonije i Dalmacije mirom u Velikom Varadinu?

1	
---	--

20. U kojoj pokrajini, označenoj upitnikom, završava naznačeni smjer migracije?



1	
---	--

IV. U sljedećim zadatcima poredajte kronološki navedene sadržaje. Upišite redne brojeve od 1 (najstariji) do 4 (najmlađi) na praznu crtu ispred navoda u lijevom stupcu.

21. Kronološki poredaj pravne dokumente:

2	
---	--

- ___ Poljički statut
- ___ Felicijanova isprava/povelja
- ___ Vinodolski zakon
- ___ Korčulanski statut

22. Kronološki poredaj događaje u povijesti Češke:

2	
---	--

- ___ Olomučki sporazum
- ___ Bitka kod Lipana
- ___ Kutnohorski konfesijski mirovni sporazum
- ___ Kutnohorsky dekret

23. Kronološki poredaj događaja:

2	
---	--

- ___ Provala Mađara u Panonsku nizinu
- ___ Normani formiraju državu na Siciliji
- ___ Rusija stječe crkvenu neovisnost o Bizantu
- ___ Utemeljena biskupija u Poznanu

V. U sljedećim zadacima samo je jedan kronološki niz točan.

24. Zaokruži niz koji označava točan kronološki slijed careva Svetog Rimskog Carstva iz dinastije Habsburg:

1	
---	--

- a) Ferdinand I. - Maksimilijan II. - Rudolf II. - Leopold I.
- b) Maksimilijan II.- Ferdinand I. - Rudolf II. - Leopold I.
- c) Rudolf II. - Leopold I. - Ferdinand I. - Maksimilijan II.
- d) Leopold I. - Rudolf II. - Maksimilijan II. - Ferdinand I.

25. Zaokruži niz koji označava točan kronološki slijed vladara Češkog kraljevstva u 15. stoljeću:

1	
---	--

- a) Ladislav Pohrobek – Žigmund Luksemburški - Jurij od Podebrada - Vaclav IV.
- b) Vaclav IV. -Žigmund Luksemburški- Ladislav Pohrobek - Jurij od Podebrada
- c) Žigmund Luksemburški - Jurij od Podebrada - Ladislav Pohrobek - Vaclav IV.
- d) Vaclav IV. - Ladislav Pohrobek - Žigmund Luksemburški- Jurij od Podebrada

VI. Sljedeće zadatke riješite uz pomoć povijesnih izvora.

26. Uz pomoć prikazanog dijela povijesnog izvora odgovori na pitanja:



3	
---	--

a) Koji je naziv ovog izvora?

b) Koja je bitka prikazana na povijesnom izvoru?

c) Koji je kralj poginuo u toj bitci?

27. Pomoću izvora odgovori na sljedeća pitanja:

... Mi spravni za borbu i obranu kraljevstva ljuto se sedmi dan podsjedanja sukobismo s neprijateljem. On je našoj navali neko vrijeme junački odolijevao, ali najposlije kišom hitaca mušketira karlovačkih potisnut naže u bijeg; a za njim u bijegu u tabor, što ga je imao s onu stranu Kupe, navalismo mi i natjerasmo ga u pomenutu rijeku Kupu. On potone s četiri bega i s cijelom gotovo vojskom. Pašino su tijelo danas izvukli i zarobljenici su ga prepoznali. ...


3	
---	--

a) Koji se paša spominje u tekstu?

b) Koji je rat uslijedio nakon opisanog događaja?

c) Tko je u opisanom događaju zapovijedao hrvatskom vojskom?

28. Pomoću izvora odgovori na sljedeća pitanja:



3	
---	--

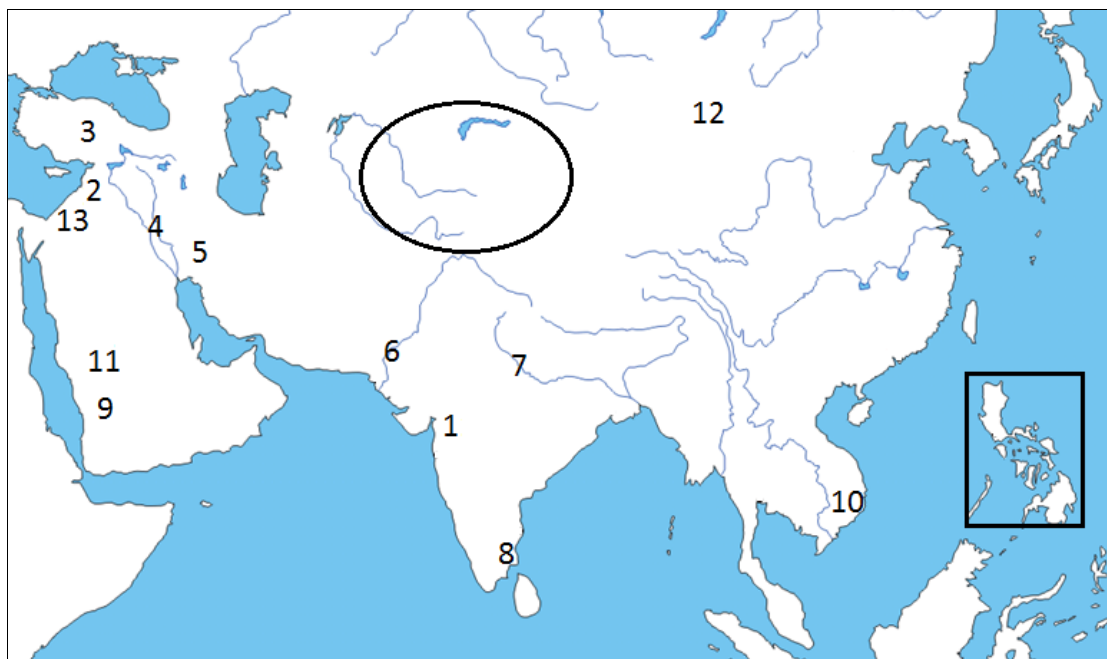
a) Koje je umjetničko djelo prikazano na slici?

b) Tko je autor prikazanog djela?

c) Koji (mirovni) ugovor povezuje supružnika naručitelja i mjesto gdje se čuva prikazano djelo?

VII. Sljedeće zadatke riješite pomoću slijepe karte.

29. Koristeći kartu odgovori na sljedeća pitanja:



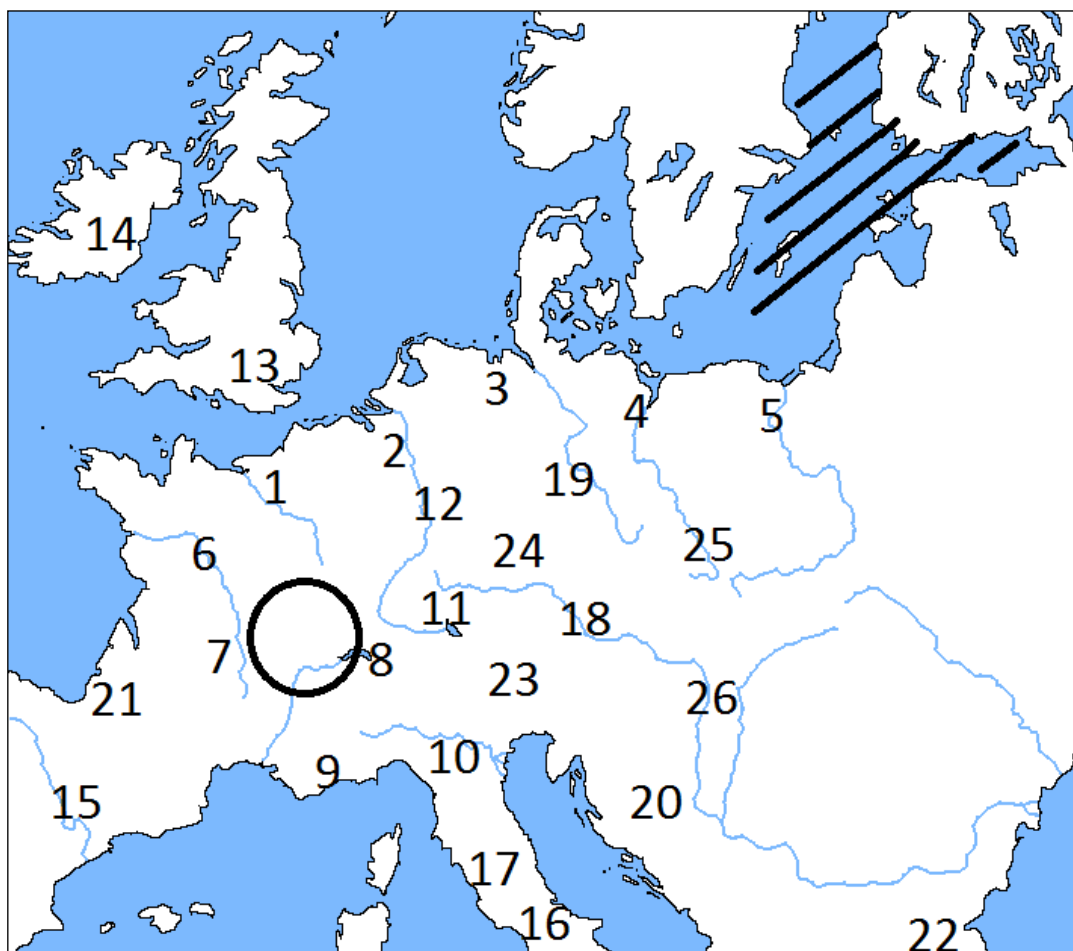
3	
---	--

- a) Kojim je brojem označeno sjedište države kojom je vladao Harun al-Rašid?

- b) Tko je vladao državom, u službi koje je plovio moreplovac, kada je otkriven prostor uokviren pravokutnikom?

- c) Koja je mongolska država s kraja 13. stoljeća zaokružena na karti?

30. Koristeći kartu odgovori na sljedeća pitanja:



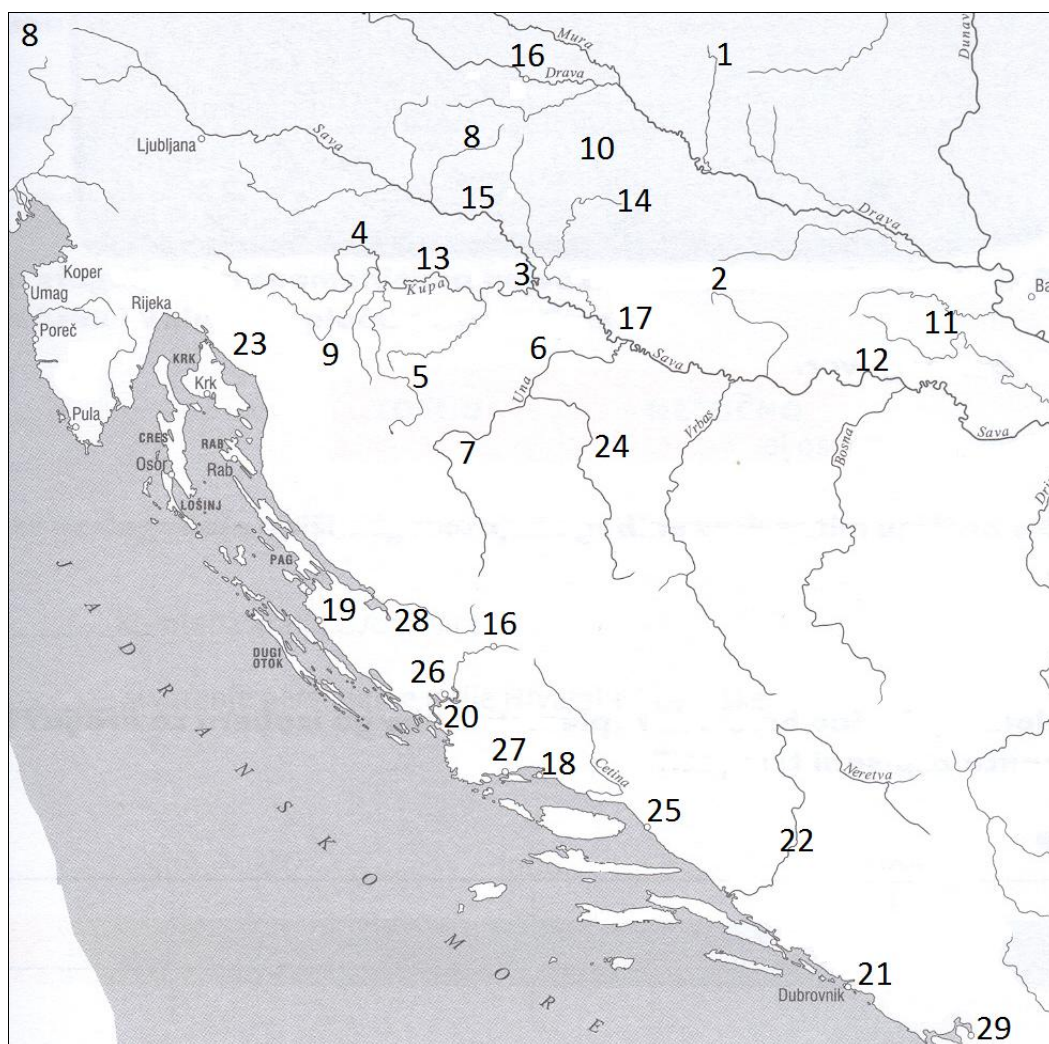
- a) Koji je vladar 1617. godine osigurao prevlast nad područjem koje je na karti označeno kosim crtama?

3	
---	--

- b) Koji je crkveni red, značajan za razvoj poljoprivrede, nastao na zaokruženom prostoru?

- c) Napiši naziv mjesta i broj kojim je na karti označeno mjesto gdje je spaljen autor djela *De ecclesia*?

31. Koristeći kartu odgovori na sljedeća pitanja:



- a) Napiši naziv i broj kojim je na karti označeno svetište kojem su hodočastili: Braslav i Ventescela, Trpimir i Petar, Branimir i Maruša?

3	
---	--

- b) Kojim je brojem na karti označen grad u kojem je 1592. godine uređen granični prijelaz između Mletačke Republike i Osmanskog Carstva?

- c) Napiši naziv i broj kojim je na karti označeno mjesto gdje je prvi put službeno na pisanom dokumentu upotrijebljen pečat s hrvatskim grbom u obliku šahovskog polja?