



24. DRŽAVNO NATJECANJE IZ GEOGRAFIJE 2017. GODINE

2. razred

1. (4) Zadatak riješi uz pomoć slijepe karte na sljedećem slajdu. Na slijepoj karti Grčke ucrtani su kvadratići označeni brojevima na mjestima antičkih gradova-država.


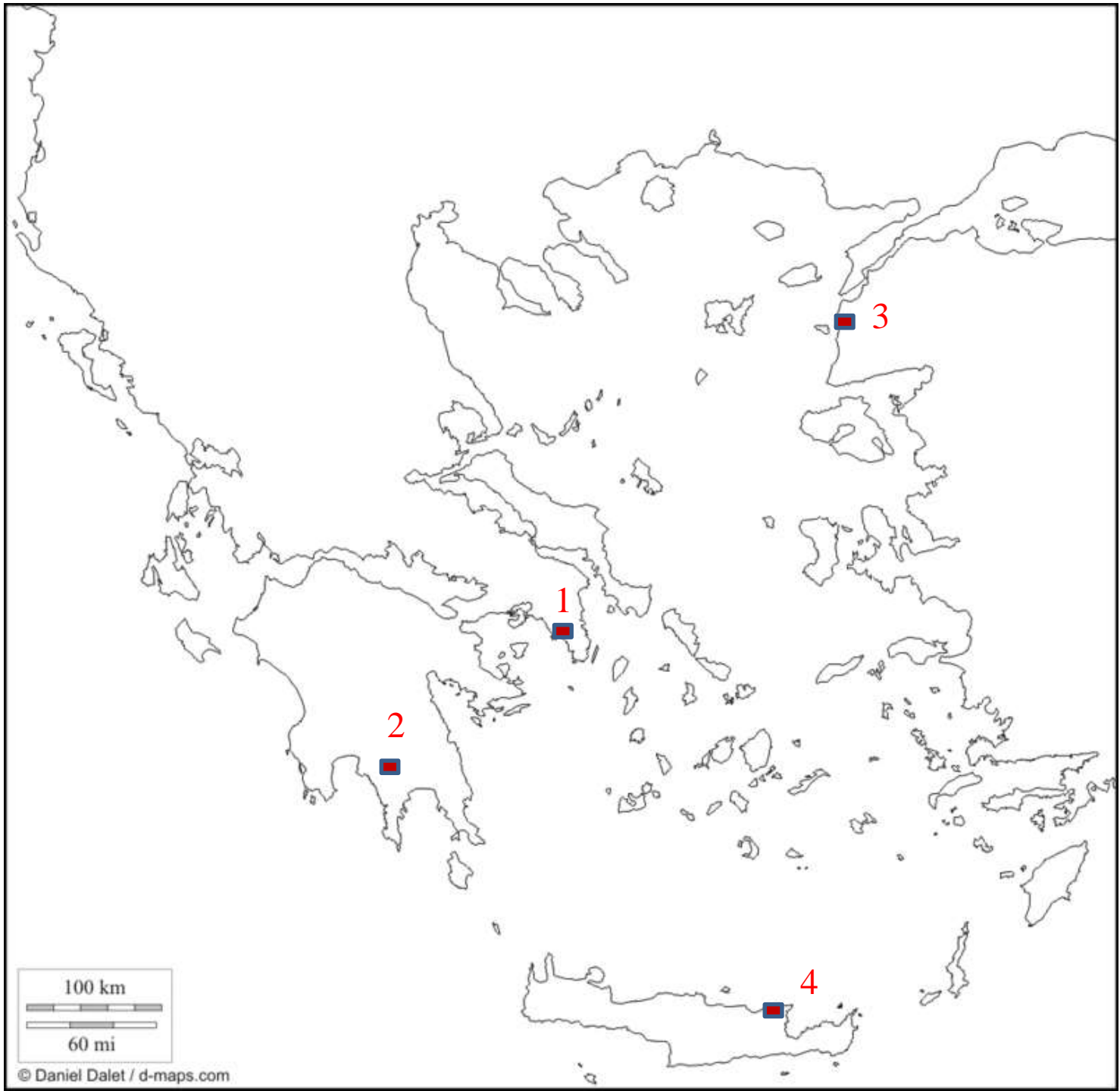
Na crte iza brojeva upiši pripadajuća imena gradova-država.

1 _____

2 _____

3 _____

4 _____



2. (4) Zadatak riješi pomoću slijepe geografske karte Azije i fotografija koje se nalaze na sljedećim slajdovima.

Na karti su brojevima od 1 do 4 označene četiri države, a na iduća četiri slajda slovima od A do D svete knjige karakteristične za neku od religija.


U drugi stupac tablice, uz odgovarajući broj, upiši ime države, u isti red u treći stupac upiši religiju koja dominira u svakoj od država i u isti red u četvrti stupac upiši ime svete knjige i slovo pripadajuće fotografije.

	Ime države	Religija	Ime svete knjige i pripadajuće slovo fotografije
1			
2			
3			
4			





B



C



Bibliotheca Indo-Buddhica No. 71

GUIDE TO TIPITAKA



Compiled by :
U KO LAY

**SRI SATGURU
PUBLICATIONS**

D

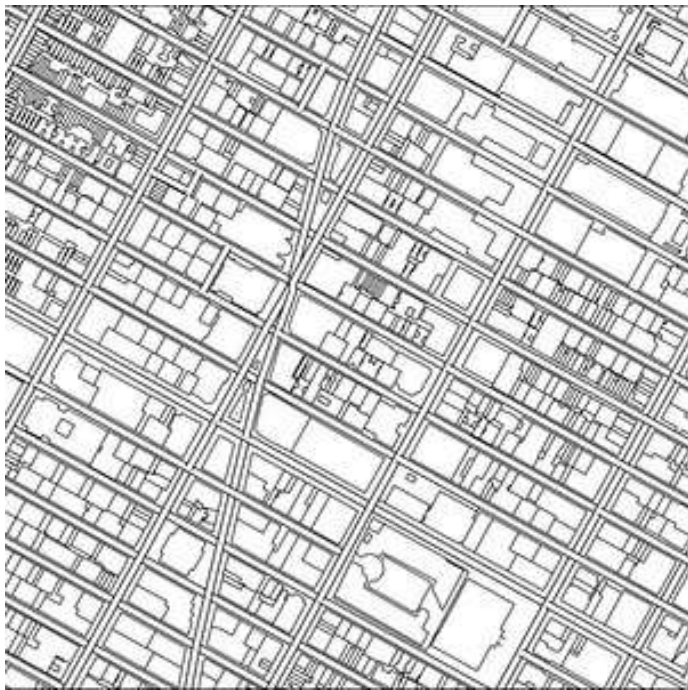
3. (4) Na sljedećem slajdu prikazani su planovi četiri milijunska grada. Svakom gradu pridruži broj plana koji ga prikazuje.

Delhi ____


London ____

New York ____

Pariz ____



1



2



3



4

4. (3) Koja je europska država vodeća u svijetu po broju turističkih dolazaka 2014. godine?

Zadatak u nastavku riješi uz pomoć sljedeća dva slajda na kojima su crveno obrubljene po tri vodeće države.

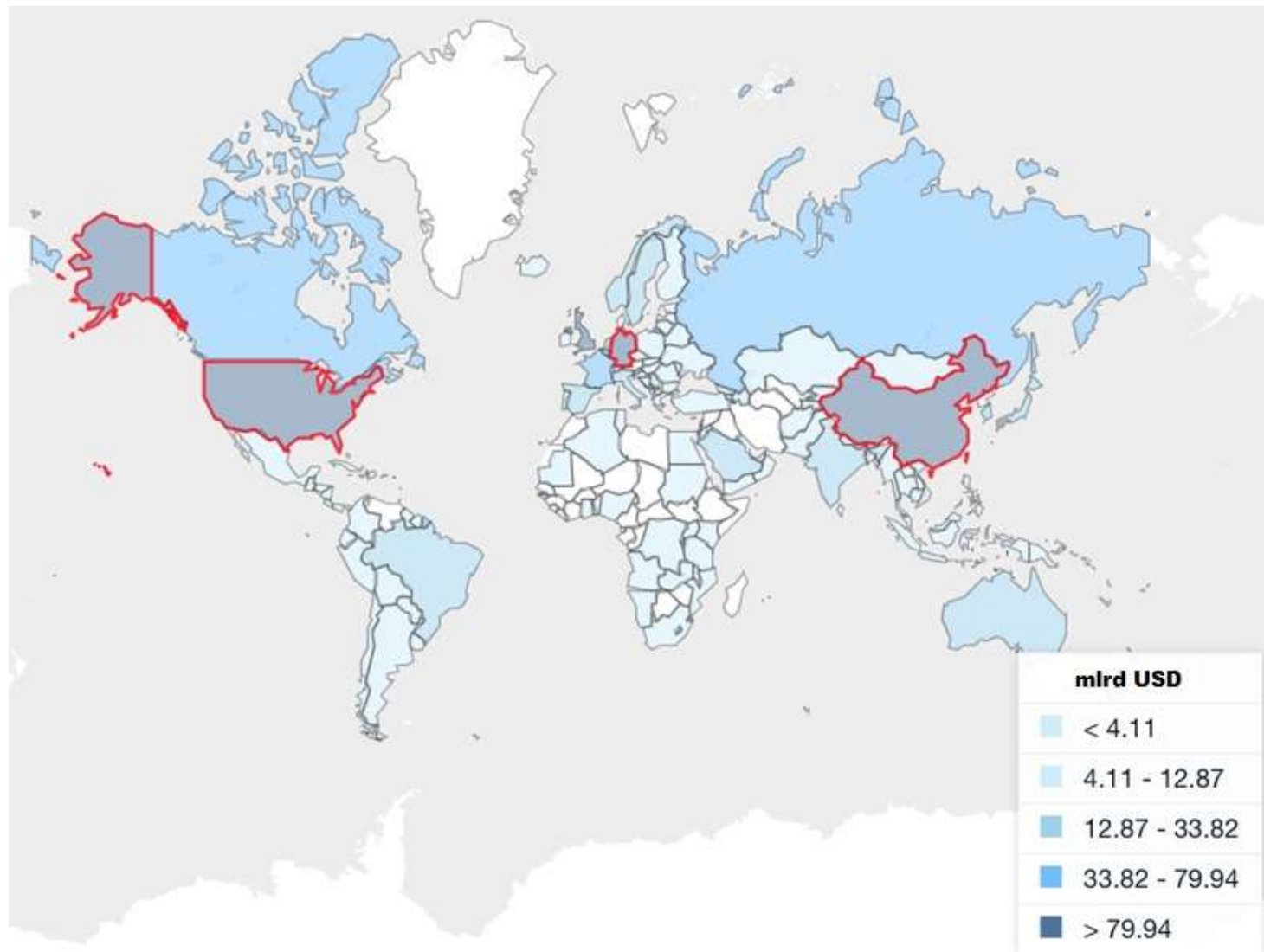
Poredaj tri vodeće države prema turističkoj potrošnji u inozemstvu u USD 2014. godine počevši s onom koja je vodeća po potrošnji.

1. _____ 2. _____ 3. _____

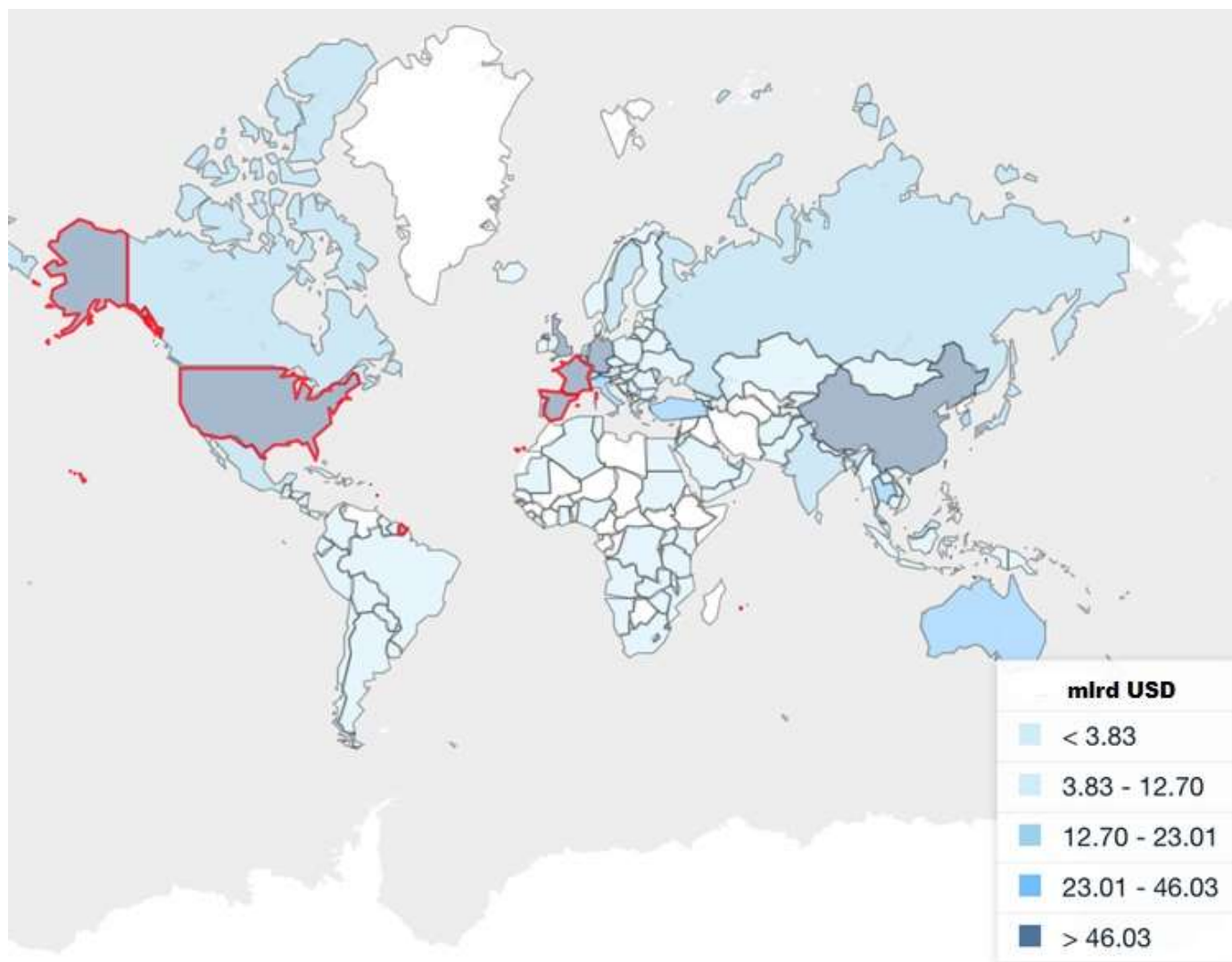
Poredaj tri vodeće države prema turističkom prihodu u USD 2014. godine počevši s onom koja je vodeća po prihodu.

1. _____ 2. _____ 3. _____

Države po turističkoj potrošnji (mlrd USD) 2014.



Države po turističkom prihodu (mlrd USD) 2014.



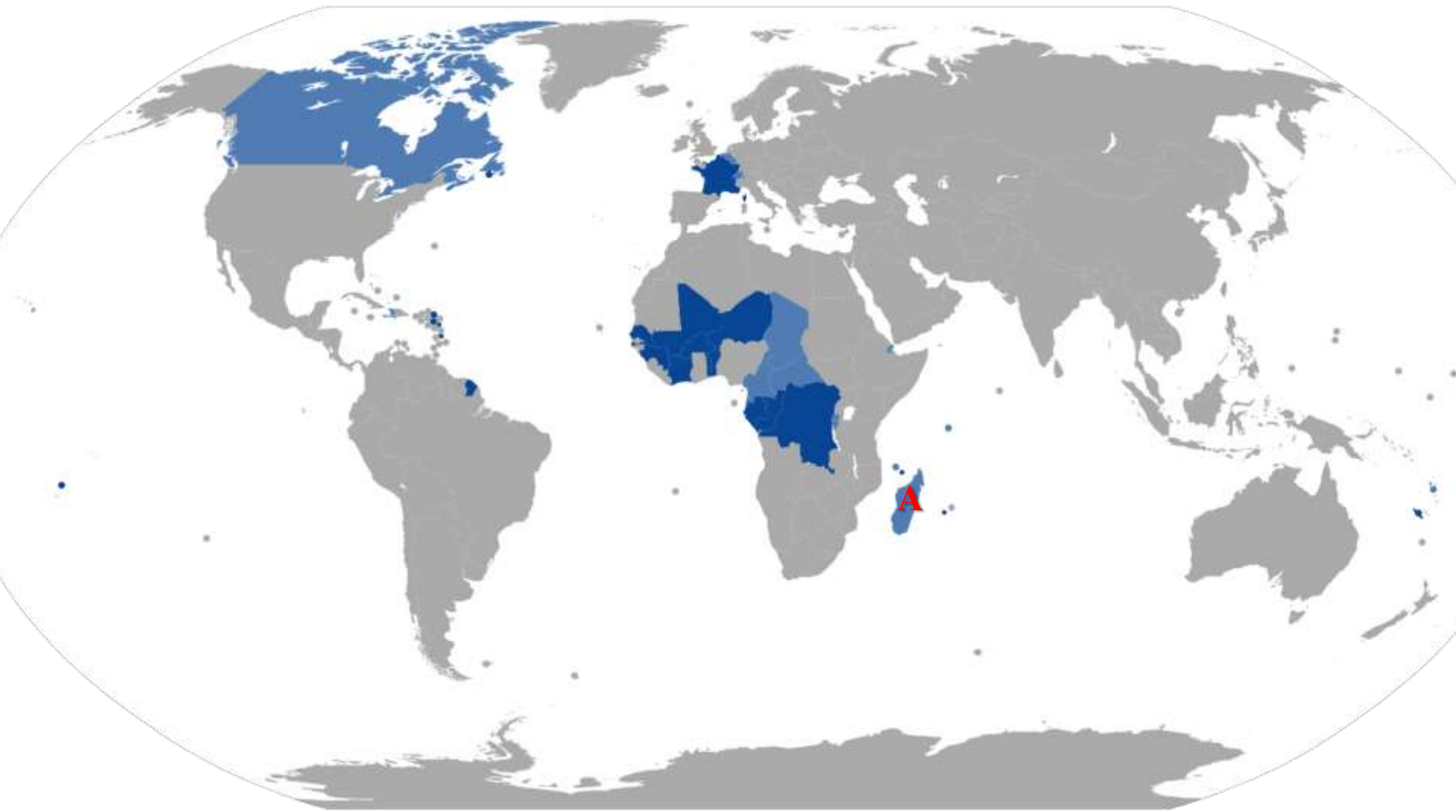
5. (3) Sljedeći slajd prikazuje kartu svijeta na kojoj su označene države u kojima je francuski jezik službeni jezik ili jedan od službenih jezika.

Dopuni rečenice točnim odgovorima.

Ime države označene slovom A je _____.

Naziv australonezijskog jezika koji je uz francuski jezik službeni jezik u označenoj državi je _____.

Nazivi jezika koji su uz francuski jezik službeni jezici u Luksemburgu su _____ i _____.

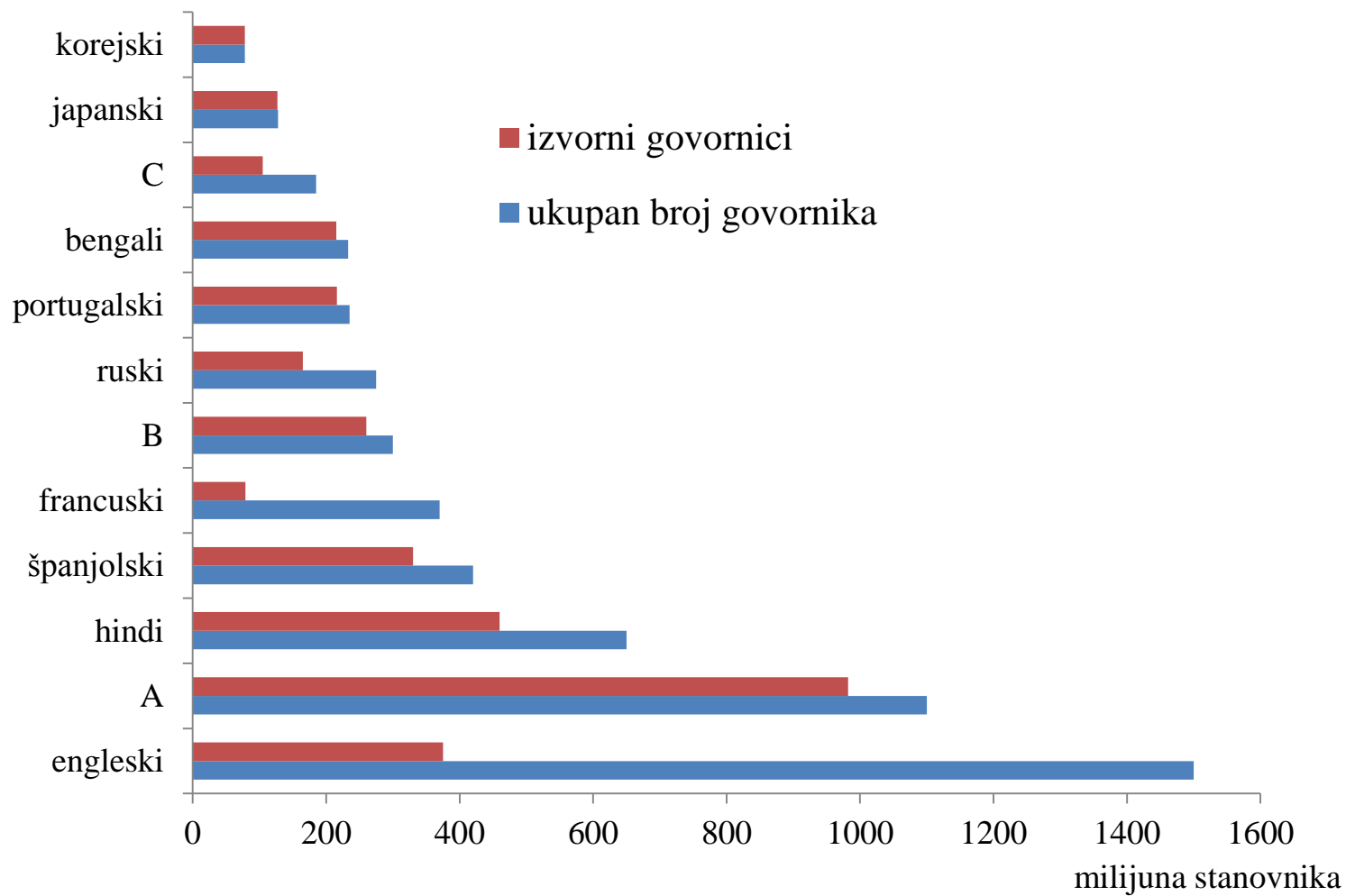


6. (3) Dijagram na sljedećem slajdu prikazuje broj izvornih govornika i ukupan broj stanovnika svijeta u milijunima koji su se služili određenim jezikom 2015. godine, a redoslijed je isti u prethodnom petogodišnjem razdoblju. Upiši nazive jezika označenih slovima A, B i C.

A _____

B _____

C _____



7. (4) Sljedeći slajd prikazuje udio stanovništva starijeg od 65 godina u Afganistanu, Brazilu, Finskoj, Francuskoj, Haitiju i Hrvatskoj u razdoblju od 1960. do 2015. godine.

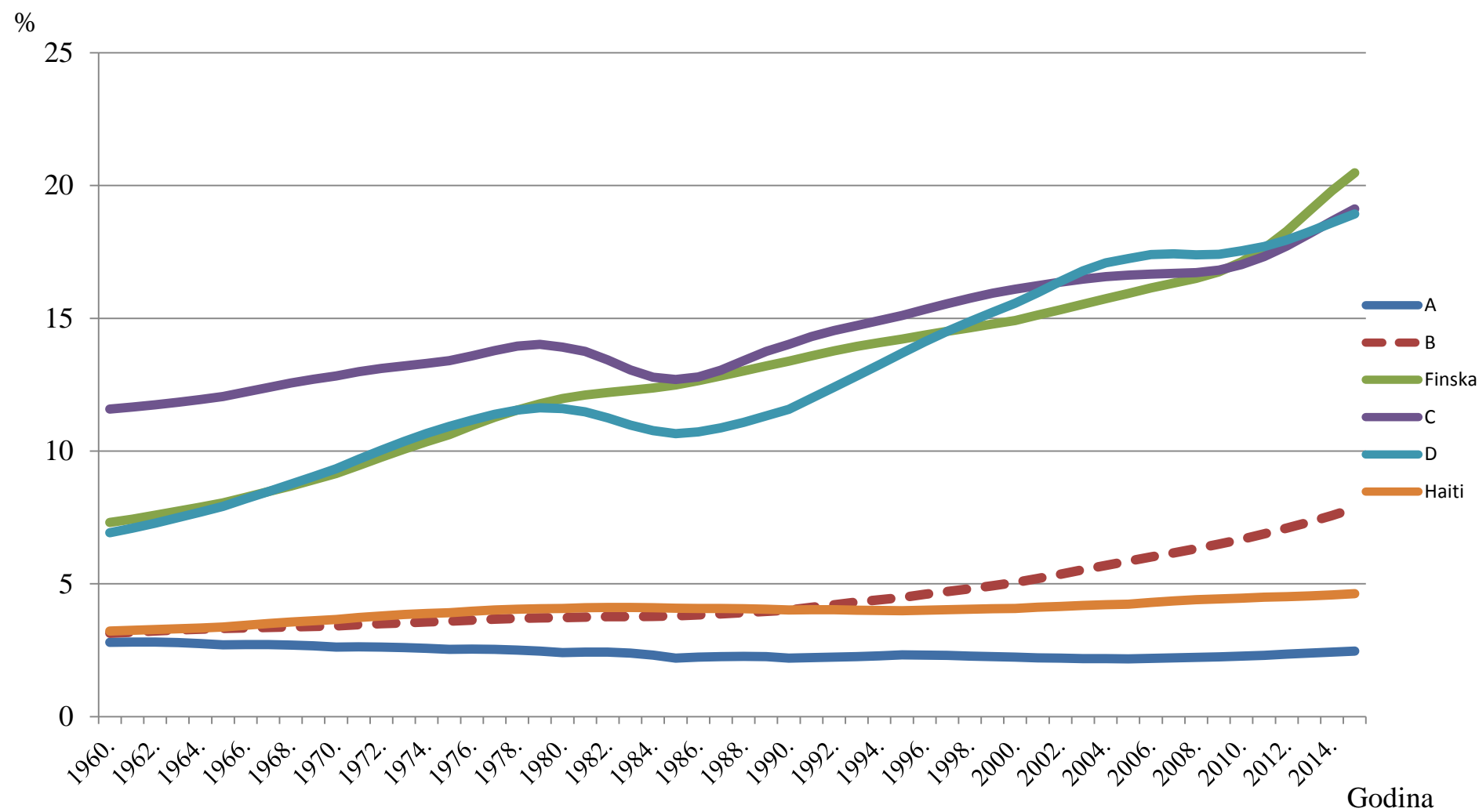
Na crte iza slova upiši pripadajuća imena država.

A _____

B _____

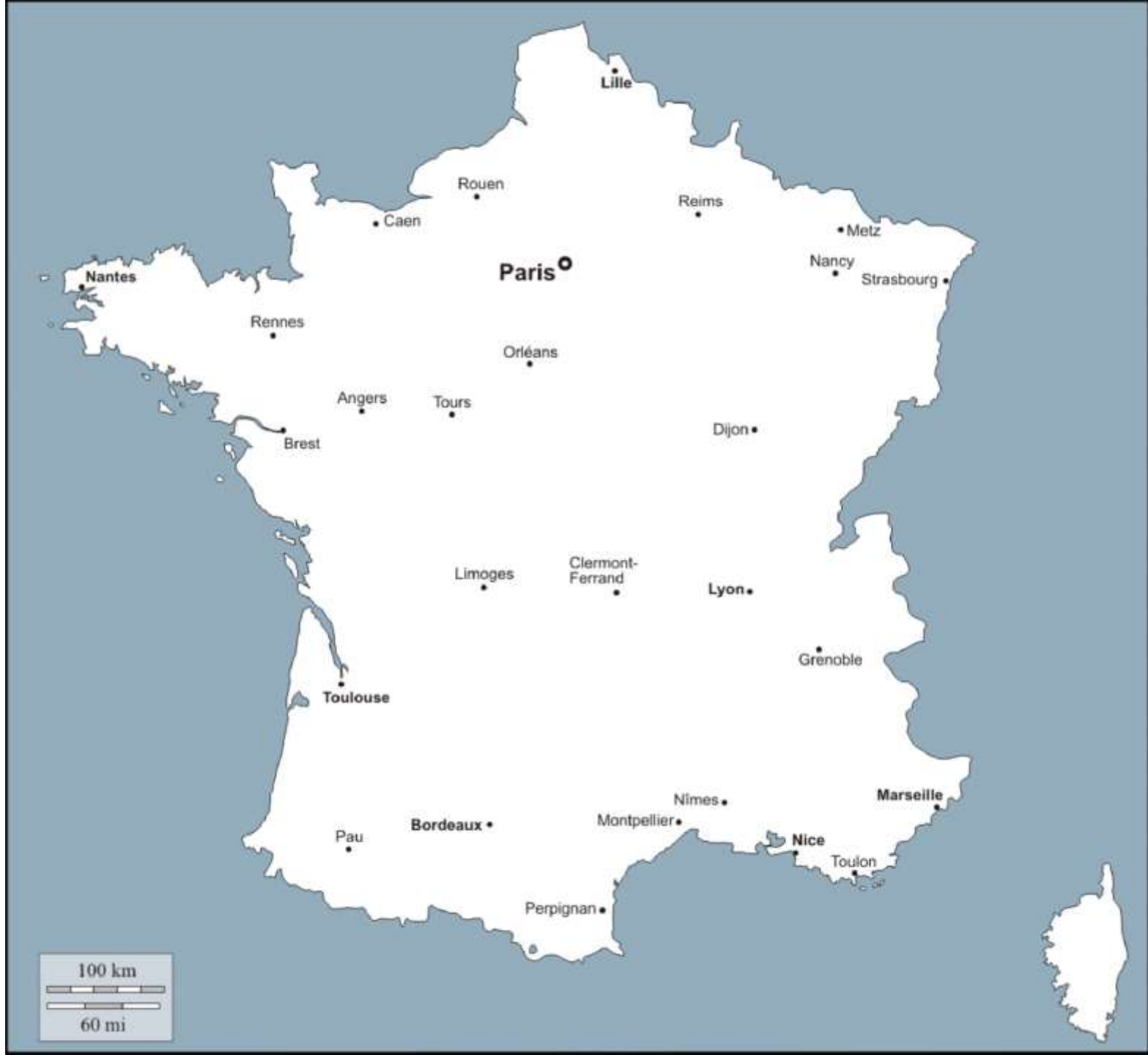
C _____

D _____



8. (3) Sljedeći slajd prikazuje kartu Francuske na kojoj su zamijenjena mjesta šest gradova. Na crte u istom redu upiši imena onih dvaju gradova kojima su zamijenjena mjesta (redoslijed upisivanja zamijenjenih gradova nije bitan).

_____	i	_____
_____	i	_____
_____	i	_____



Lille

Rouen

Reims

Metz

Nancy

Strasbourg

Paris

Rennes

Orléans

Angers

Tours

Dijon

Brest

Limoges

Clermont-Ferrand

Lyon

Grenoble

Toulouse

Marseille

Nîmes

Montpellier

Bordeaux

Pau

Nice

Toulon

Perpignan

100 km



60 mi

9. (3) Sljedeći slajdovi prikazuju svjetsku kulturnu i prirodnu baštinu. U tablicu pored imena lokaliteta svjetske prirodne i kulturne baštine u odgovarajući red upiši ime države u kojoj je lokalitet smješten i broj fotografije na kojoj je prikazan. Tri fotografije su višak.

	Ime države	Broj fotografije
Uluru-kata Tjuta		
Nacionalni park Rapa Nui		
Angkor Wat		




1



2





5



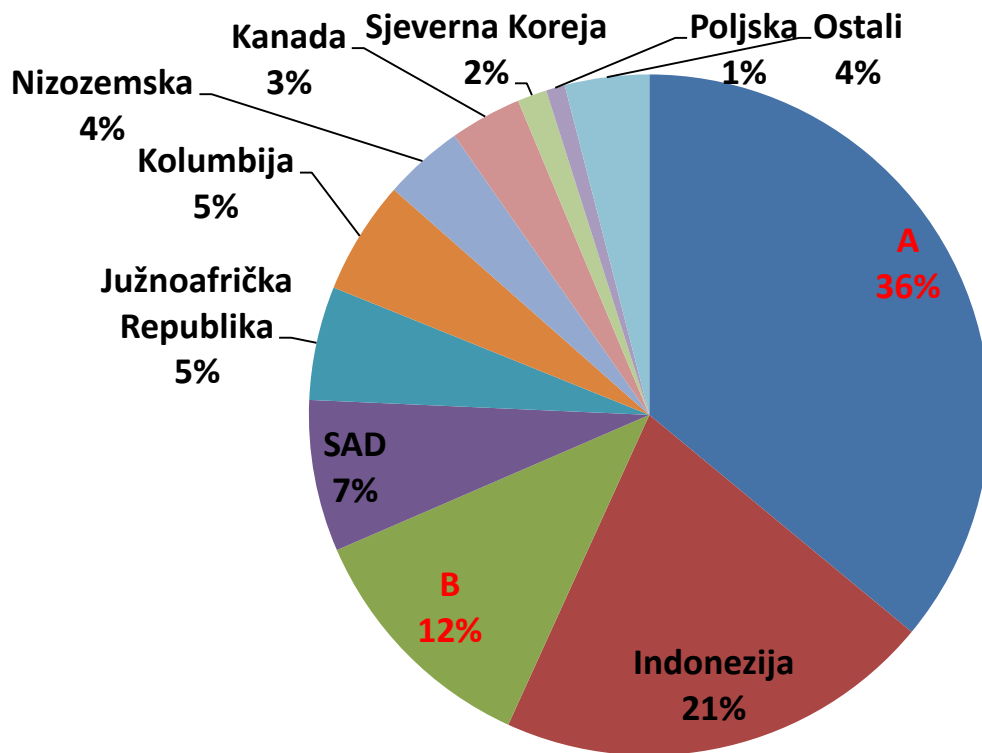


10. (2) Dijagram prikazuje vodeće države izvoznike ugljena 2015. godine.

Dopuni rečenice točnim odgovorima.

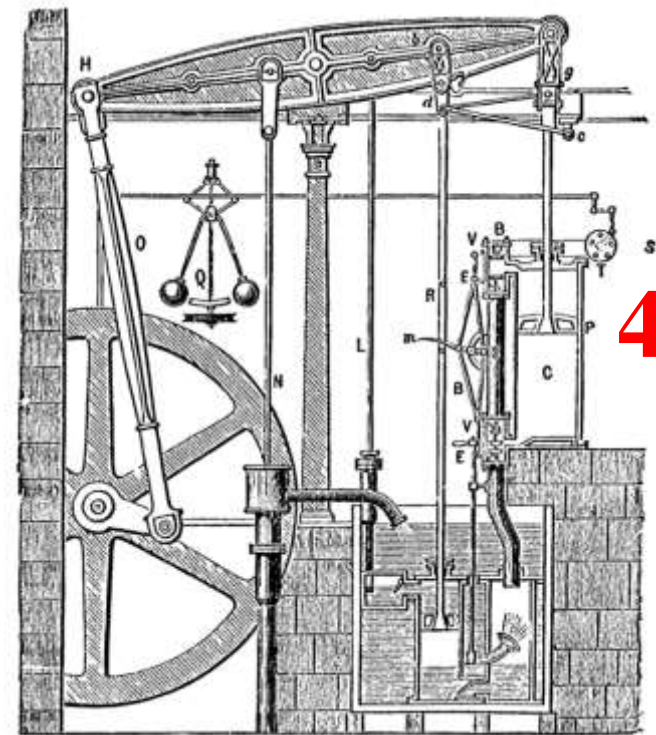

Ime države označene slovom A je _____.

Ime države označene slovom B je _____.



11. (3) Prva industrijska revolucija obilježena je brojnim izumima i patentima vezanim uz parni stroj. Na sljedećem slajdu nalaze se slike izuma ili njihovih usavršenih inačica označenih brojevima od 1 do 4. Spoji imena osoba s izumima i brojem slike koja prikazuje izum. Jedan izum se ne može povezati.

	Ime osobe	Izum	Broj slike
1	Robert Fulton		
2	George Stephenson		
3	James Watt		



12. (2) Na sljedećem slajdu prikazani su kružni dijagrami ekonomske strukture stanovništva Brazila, Hrvatske, Nepala i SAD za 2015. godinu.

Na crte iza slova upiši pripadajuća imena država.

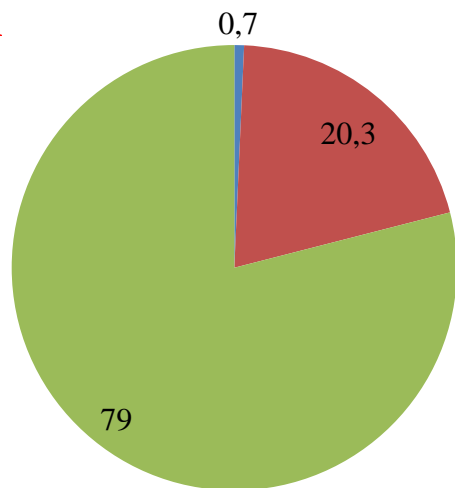
A _____

B _____

C _____

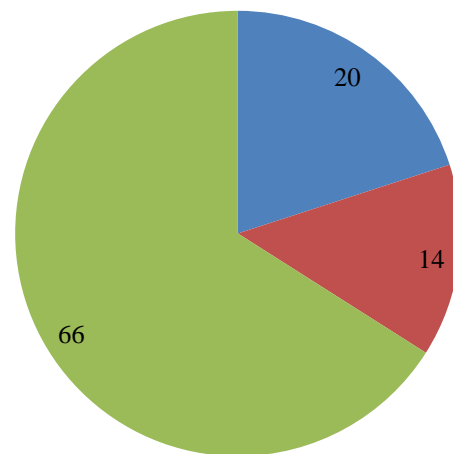
D _____

A



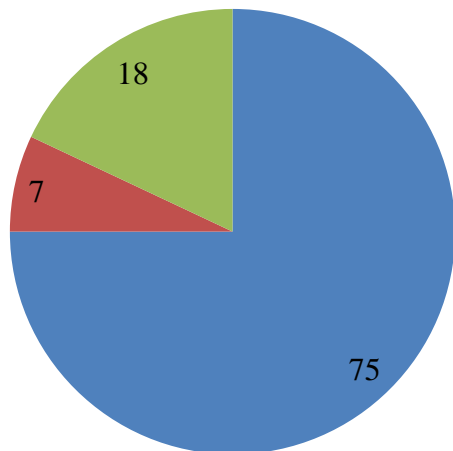
■ primarni
■ sekundarni
■ tercijarni

B



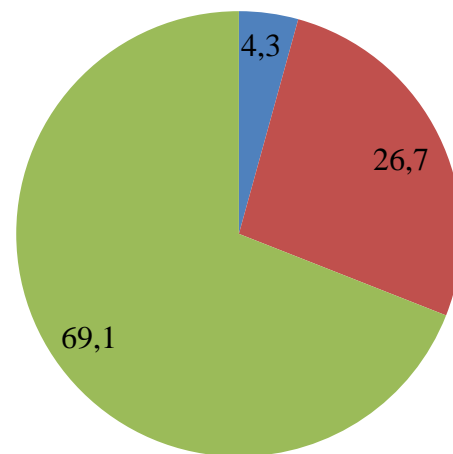
■ primarni
■ sekundarni
■ tercijarni

C



■ primarni
■ sekundarni
■ tercijarni

D



■ primarni
■ sekundarni
■ tercijarni

13. (3) Zadatak riješi uz pomoć geografske karte na sljedećem slajdu. Na crte iza brojeva upiši imena gradova označenih na priloženoj karti.

1 _____

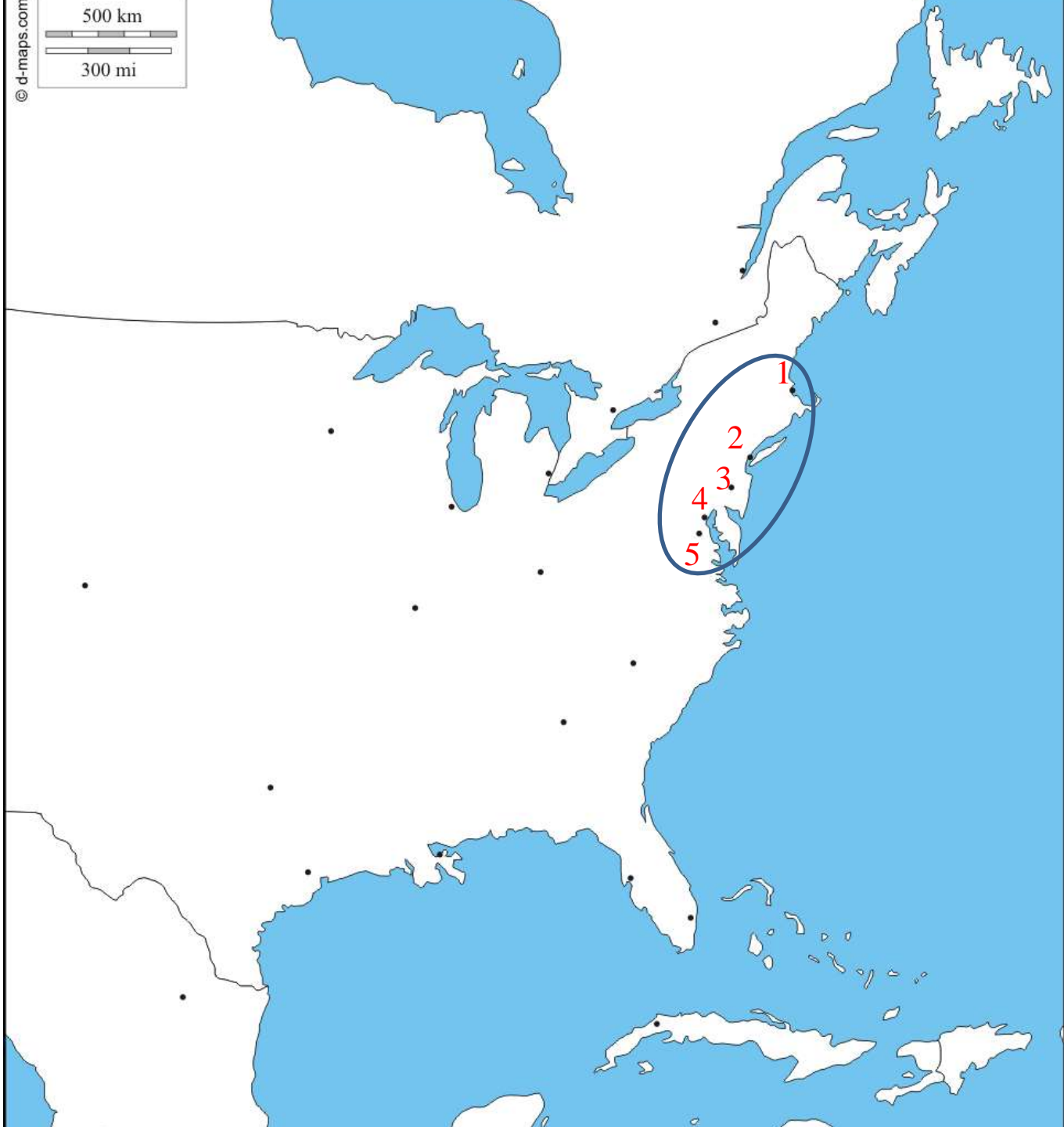
2 _____

3 _____

4 _____

5 _____

Naziv megalopolisa prikazanog na karti je _____.



14. (3) Sljedeća tri slajda prikazuju satelitske snimke tri glavna grada nekih od navedenih država: Kina, Rusija, Kanada, Indija, Sjedinjene Američke Države, Australija, Norveška, Brazil, Bahrein.

Na crtu iza broja upiši ime države čiji glavni grad je prikazan na satelitskom snimku.

1 _____

2 _____

3 _____



N26°13'59.52"

E 50°35'52.8"

1

123 m

Image © 2016 CNES / Astrium

Google Earth

2005

Datumi slika: 3/1/2017 26°13'49.35" S 50°35'45.91" I podizanje 14 m visina pogleda 580 m

S35°18'18.72"

E149°07'22.08"

2

© 2016 Google

98 m

Google Earth



N28°36'59.04"

E 77°14'42.72"

3

77 m

Image © 2016 DigitalGlobe

Google Earth



2000

Datumi slika: 17/4/2016 28°36'54.59" S 77°14'37.49" I podizanje 206 m visina pogleda 570 m

15. (1) Na temelju navedenih podataka izračunaj stopu prirodne promjene stanovništva Hrvatske 2015. godine.

Broj živorođenih = 37 503

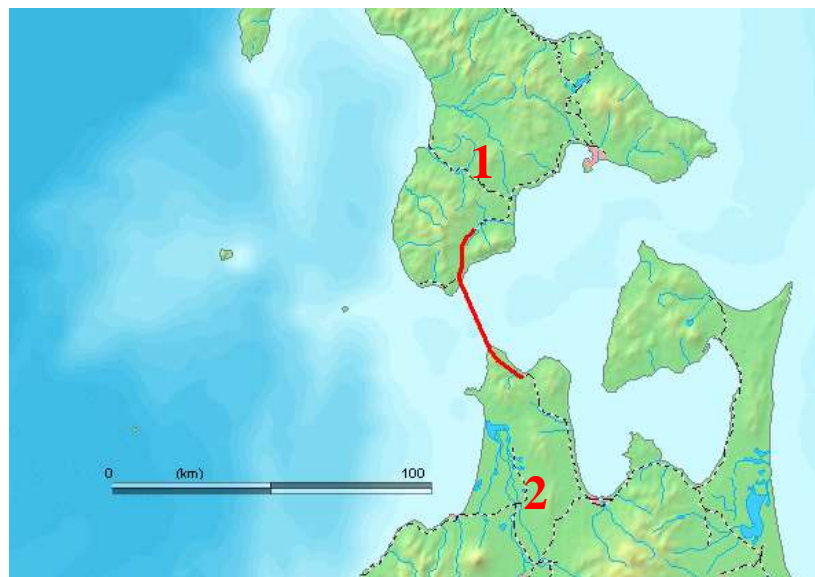
Broj umrlih = 54 205

Broj stanovnika sredinom godine = 4 203 604

Stopa prirodne promjene je iznosila (zaokruži na dvije decimala)

_____.

16. (3) Sedam najduljih željezničkih tunela u svijetu smješteno je u Aziji od čega četiri u Japanu i dva u Kini. U Europi su izgrađena tri od ukupno 10 najduljih u svijetu. Koje otoke označene brojevima 1 i 2 povezuje tunel označen crvenom linijom na karti?



1 _____
2 _____

Tunel prikazan na karti zove se _____

17. (1) Zaokruži nazive biljnih kultura koje nisu žitarice.

pšenica

riža

zob

krumpir

kukuruz

proso

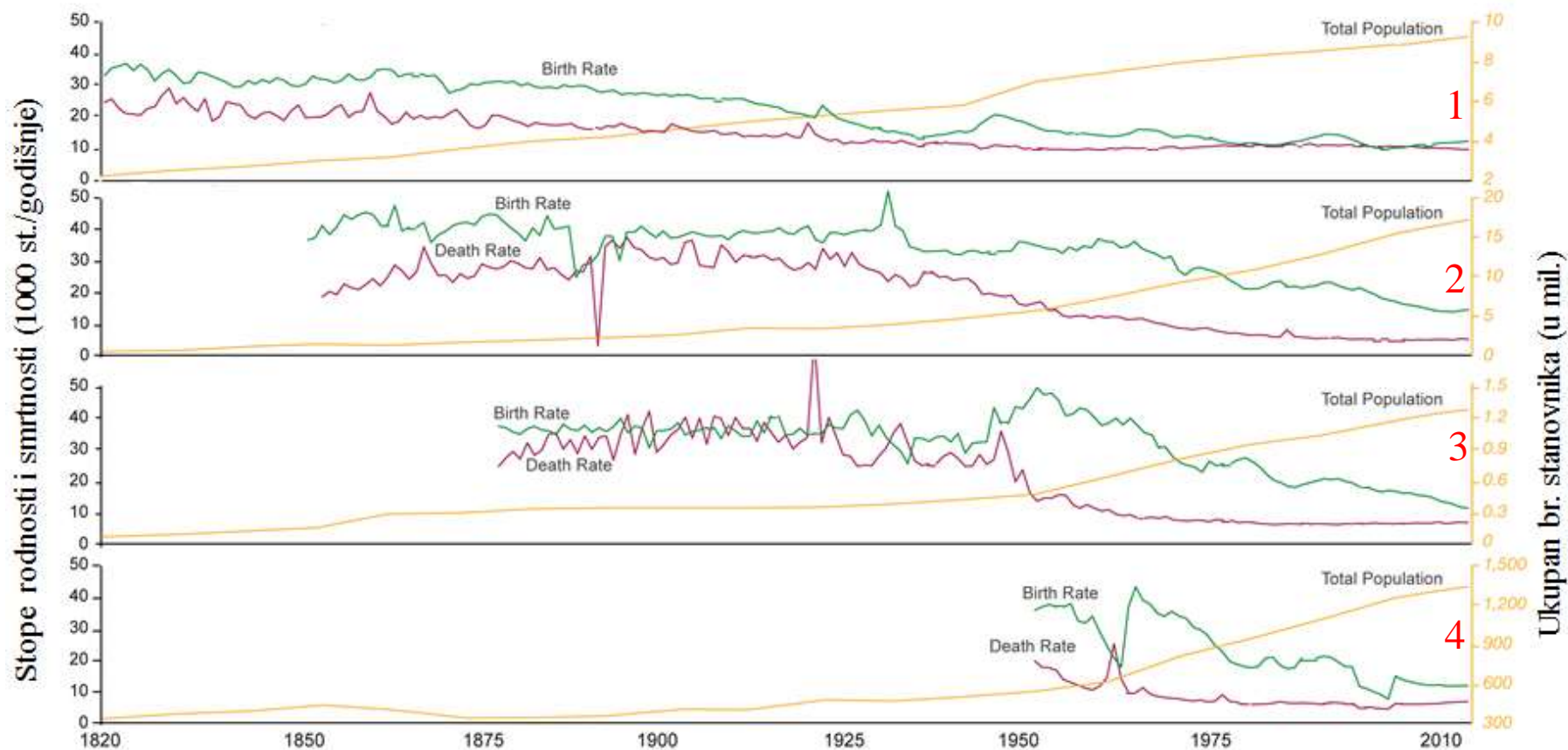
sirak

heljda

grah

18. (4) Na sljedećem slajdu je prikazan demografski razvoj četiriju država. Među šest navedenih država odaberi četiri i upiši ih na crte iza pripadajućih brojeva: Afganistan, Čile, Kina, Mauricijus, Ruska Federacija, Švedska.

1	_____
2	_____
3	_____
4	_____



Data source: The data on birth rates, death rates and the total population are taken from the International Historical Statistics, edited by Palgrave Macmillan (April 2013).

The interactive data visualisation is available at [OurWorldinData.org](https://ourworldindata.org). There you find the raw data and more visualisations on this topic. Licensed under CC-BY-SA by the author Max Roser.

19. (5) Na sljedećem slajdu prikazani su dijagrami dobno-spolne strukture stanovništva Hrvatske za 1953., 1961., 2001. i 2011. godinu. Na crte iza slova upiši pripadajuću godinu.

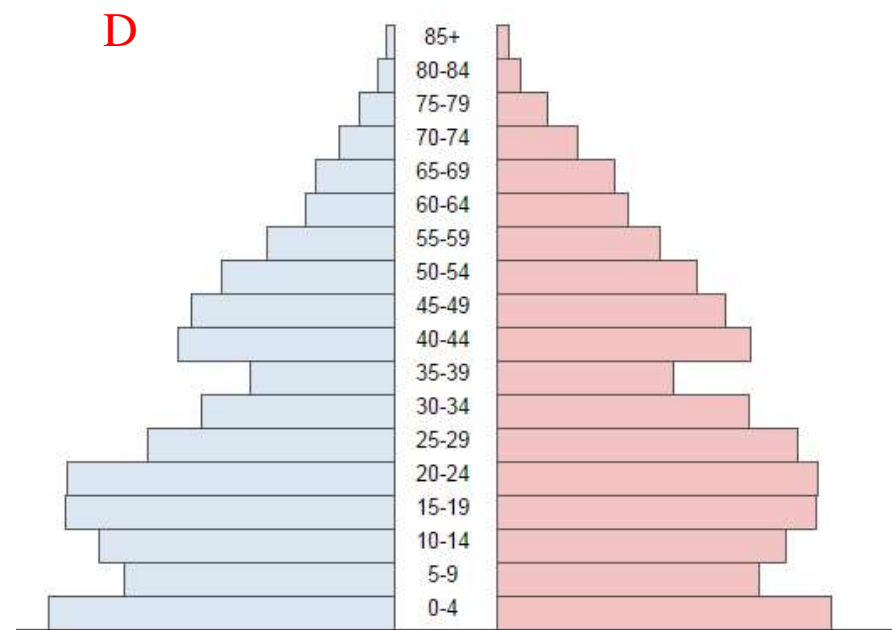
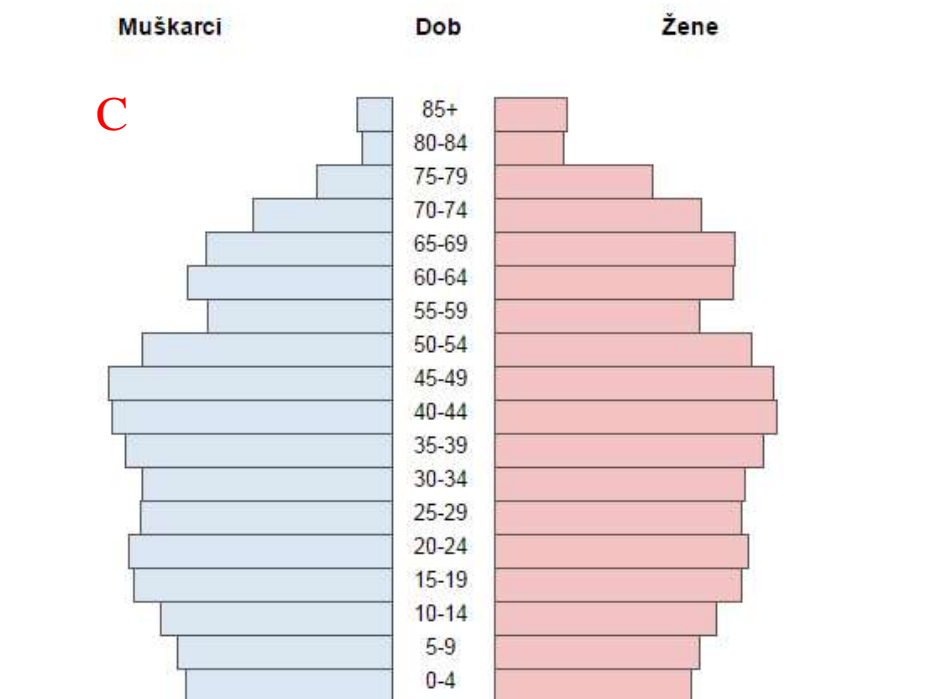
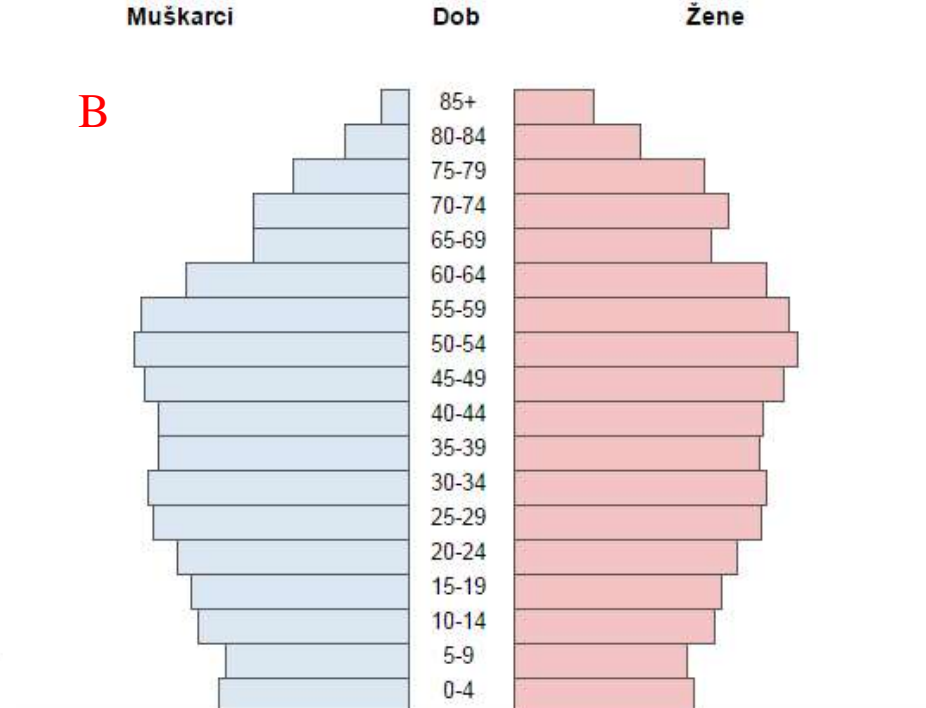
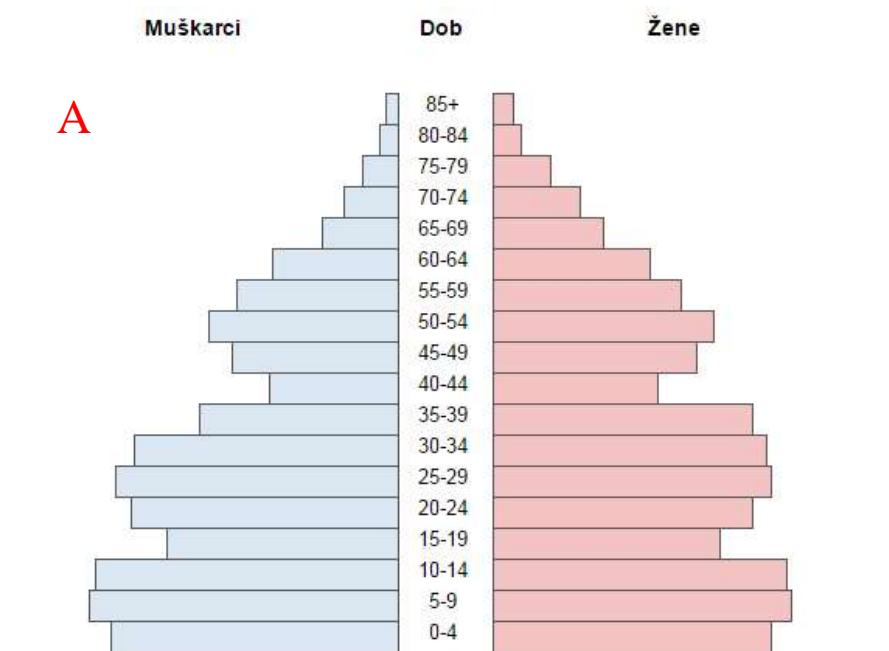
A _____ godine

B _____ godine

C _____ godine

D _____ godine

Kako se naziva pojava koja je uzrok različitoga udjela muške i ženske populacije u skupini 0 – 4 godine?_____.

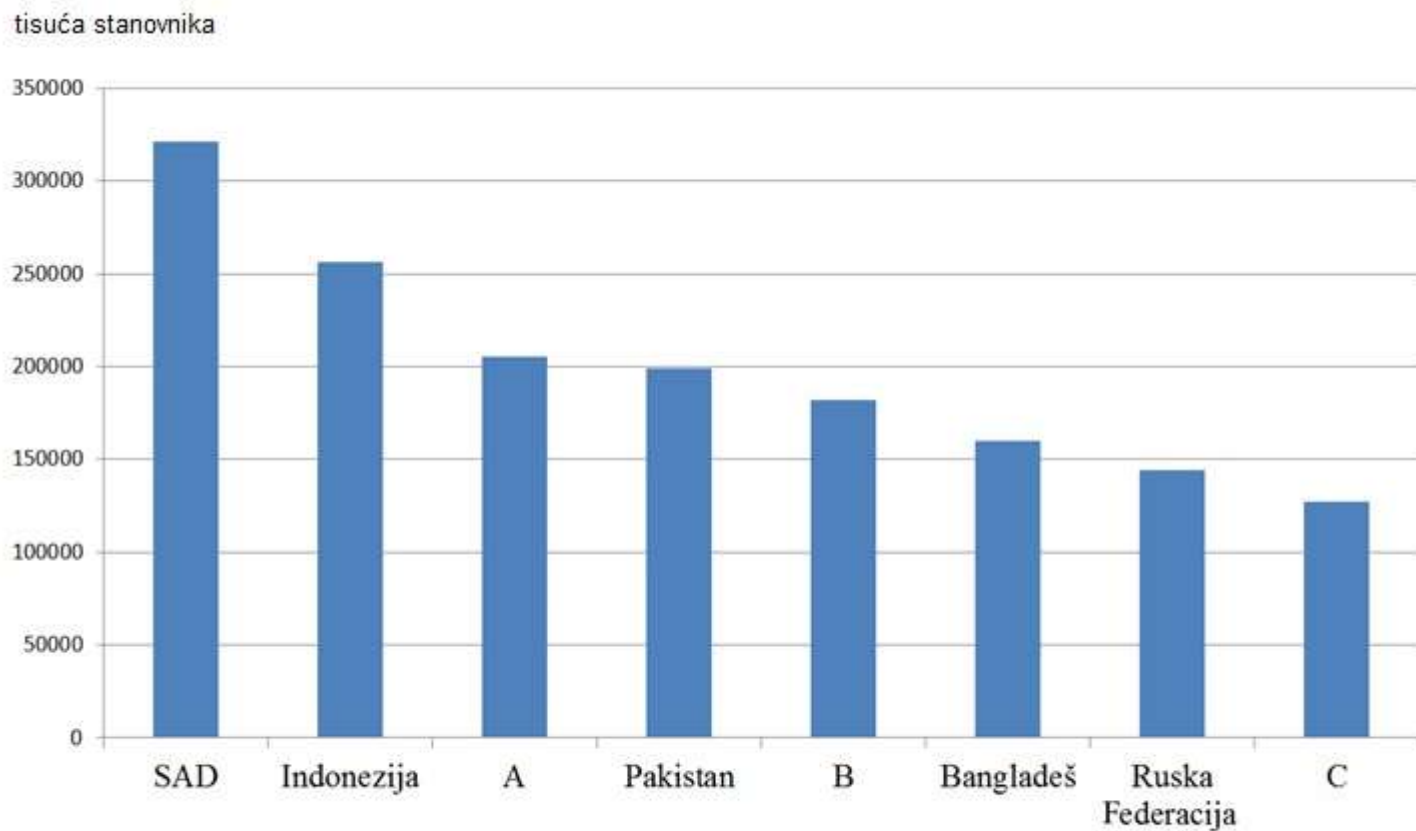


20. (3) Dijagram prikazuje 8 država svijeta koje su prema broju stanovnika 2015. godine bile rangirane od 3. do 10. mjesta i taj rang do danas nije promijenjen. Na crte iza slova upiši pripadajuće ime države.

A _____

B _____

C _____



21. (5) Na dijagramima na sljedećem slajdu prikazane su stope fertiliteta i njihova procjena za razdoblje od 1950. do 2050. godine za Afriku, Aziju, Europu, Sjevernu Ameriku te Australiju s Oceanijom.

Na crte iza slova upiši pripadajuća imena kontinenata.

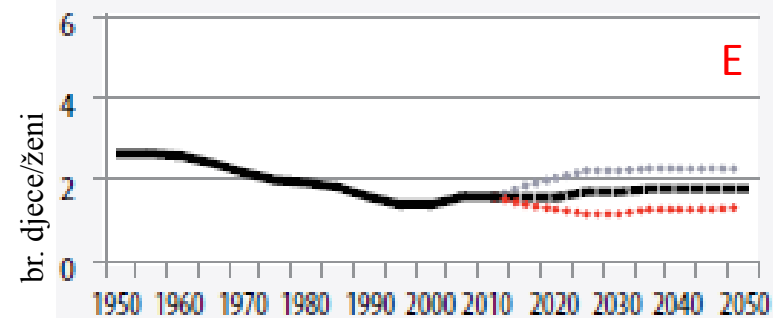
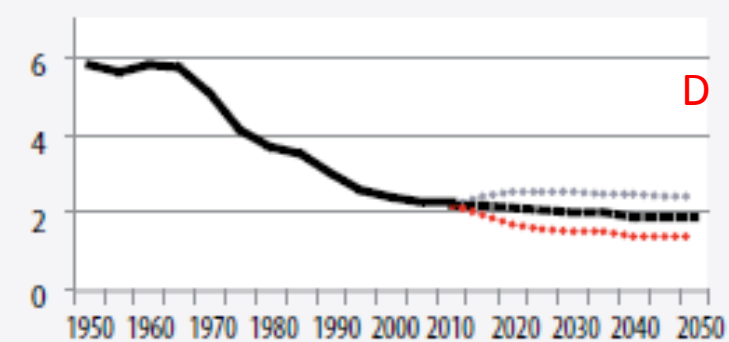
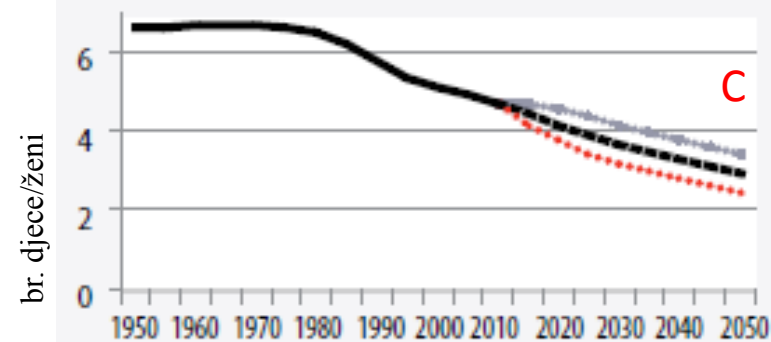
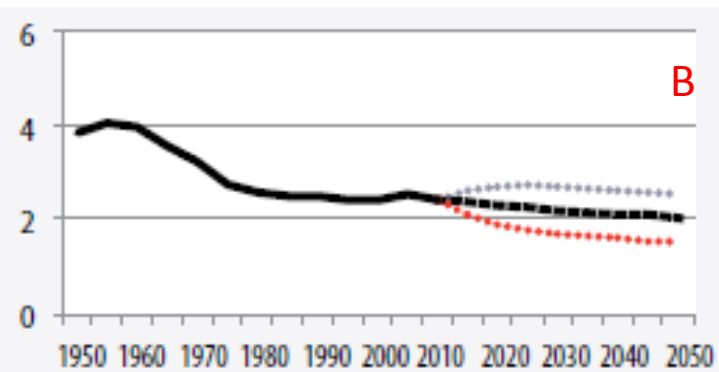
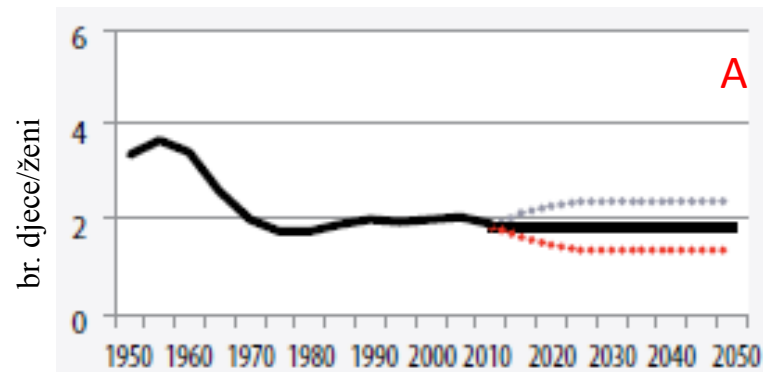
A _____

B _____

C _____

D _____

E _____



22. (4) Zadatak riješi uz pomoć fotografija koje se nalaze na sljedeća četiri slajda.

Svaka fotografija označena je brojevima od 1 do 4. U drugi stupac upiši koja poljoprivredna kultura je prikazana na svakoj od fotografija.

Spoji sliku poljoprivredne kulture s ponuđenim imenima država koje su 2015. godine imale najveću proizvodnju jedne od prikazanih poljoprivrednih kultura. Dvije države su višak.

Brazil, Indonezija, Kina, Sjedinjene Američke Države, Španjolska, Vijetnam

	Poljoprivredna kultura	Ime države
1		
2		
3		
4		



2



3



