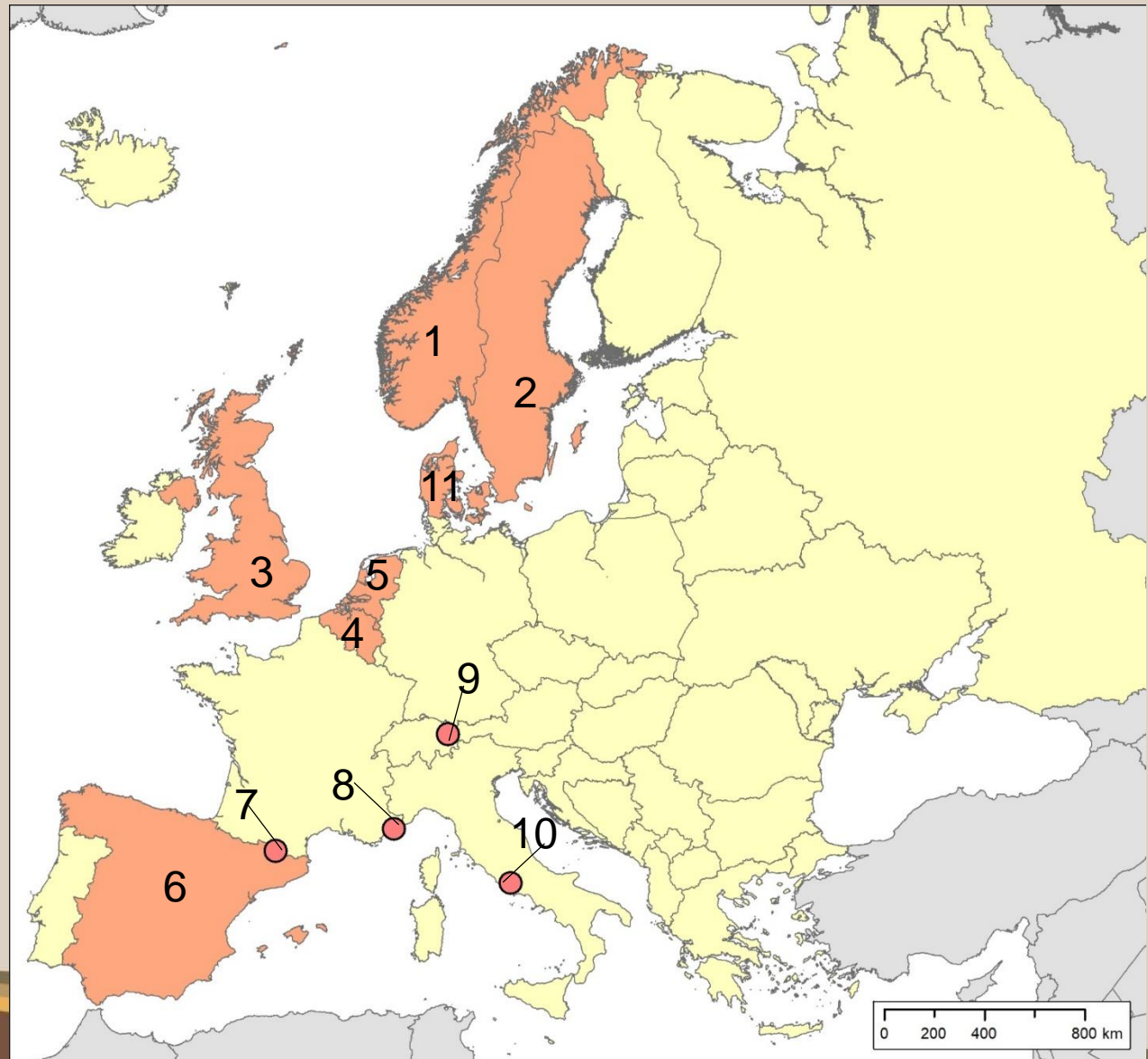




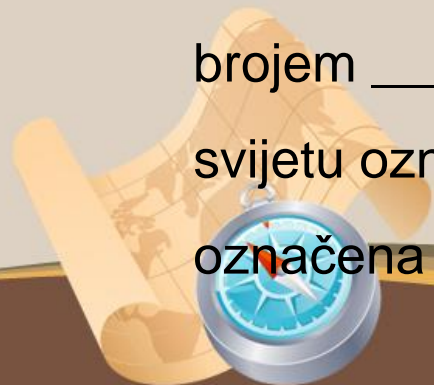
26. DRŽAVNO NATJECANJE IZ GEOGRAFIJE
TROGIR, 8. – 10. 5. 2019.
3. razred

1. (4) Na temelju priložene političke karte Europe na kojoj su europske monarhije obojene svjetlo smeđom bojom odgovori na pitanja na sljedećem slajdu.



1. (4) Dopuni rečenice upisivanjem brojčane oznake.

- a) Monarhija koja je članica skupine G7 na karti je označena brojem ____.
- b) Monarhije koje su članice EFTA-e na karti su označene brojevima ____ i ____.
- c) Monarhije koje su članice Europske unije i kojima krajem 2018. godine službena valuta nije bio euro, na karti su označene brojevima ____, ____, ____.
- d) Monarhija s najgušćom željezničkom mrežom u Europi označena je brojem ____, monarhija s najkraćom dužinom željezničke pruge na svijetu označena je brojem ____, a monarhija bez željezničke pruge označena je brojem ____.



2. (2) Na liniju unutar priložene karte upiši pokratu ekonomskog saveza koji je 2018. promijenjen u pokratu USMCA i na karti u sve države koje su danas članice toga saveza upiši znak **X**.

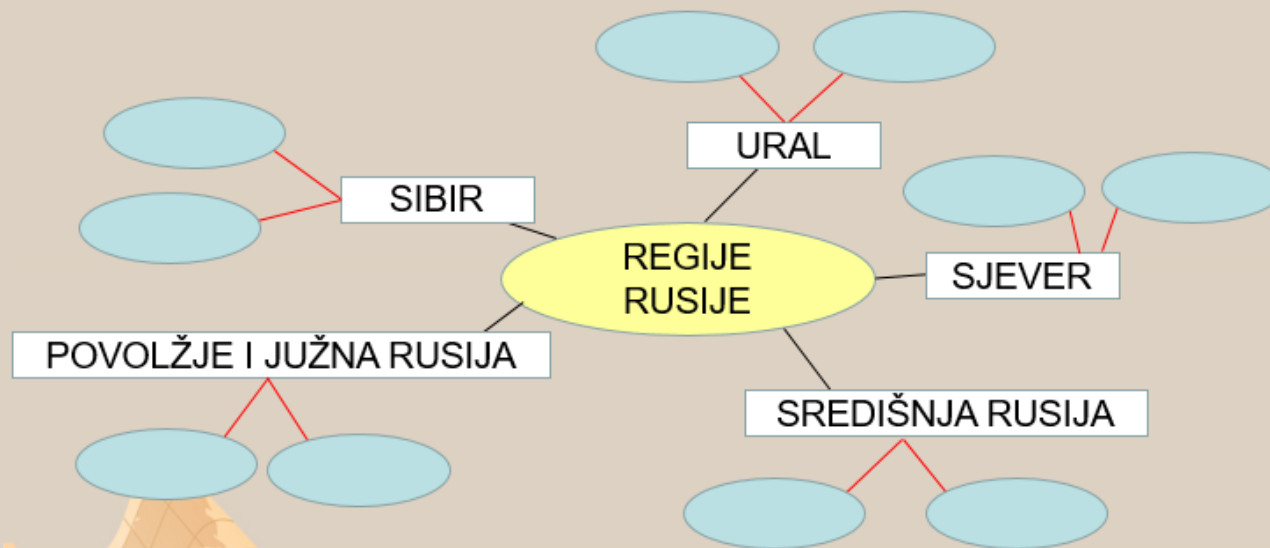


3. (3) Na prvu crtu upiši naziv bioma označenog na karti Brazila, a na drugu crtu slovo kojim je označena fotografija koja prikazuje vrstu vegetacije tog bioma. Zaokruži broj ispred naziva kulture koja se najviše uzgaja na prostoru označenog bioma.



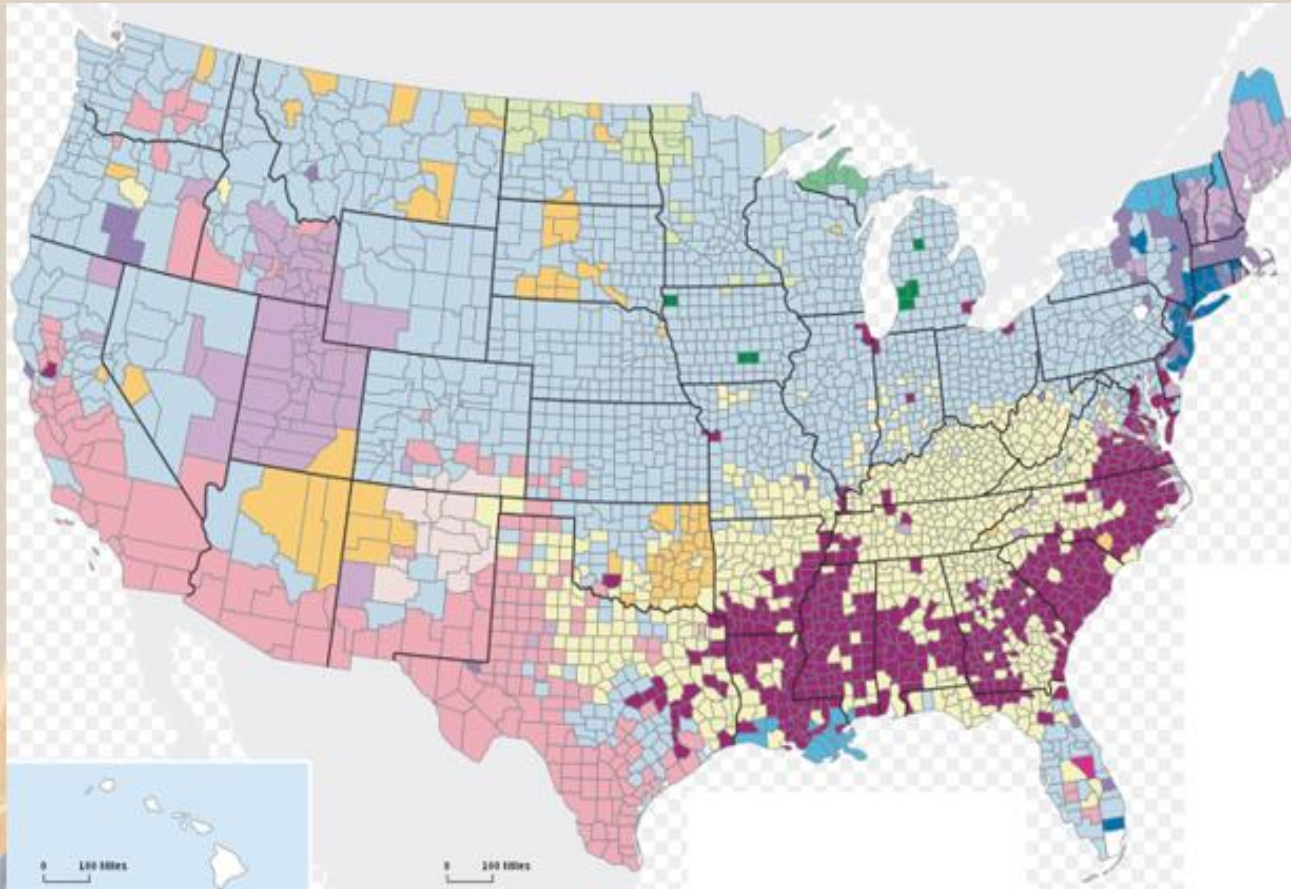
- 1) soja
- 2) voće
- 3) pšenica

4. (5) Izradi skicu ideja regija Ruske Federacije upisivanjem slova ispred navedenih tvrdnji u odgovarajuće elipse.



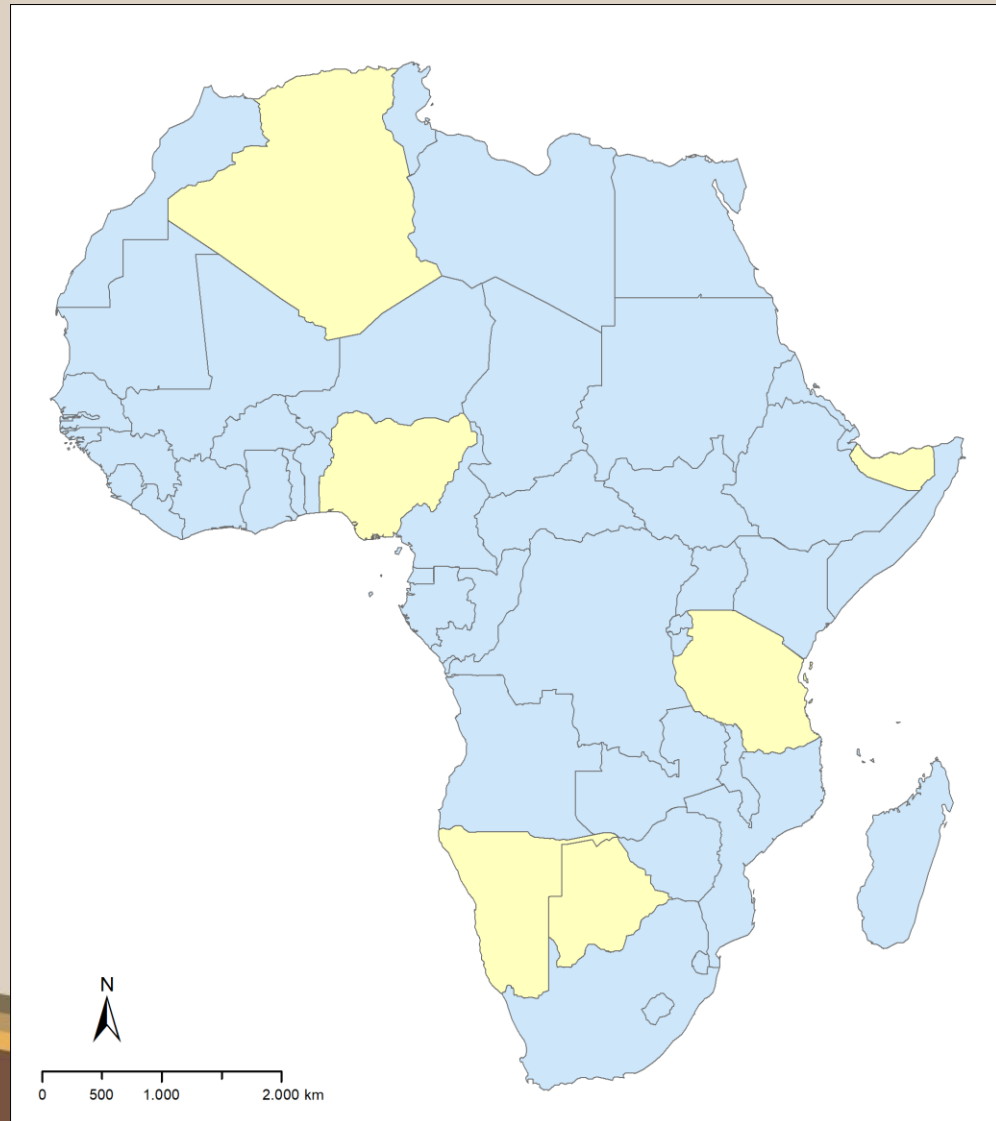
- A) Industrija prebačena u istočne regije tijekom Drugoga svjetskog rata
- B) Pečora – nafta
- C) Vorkuta – kameni ugljen
- D) Najgušće naseljeni dio Rusije
- E) Između Europe i Azije
- F) Transsibirske željezničke pruge
- G) Srednji tok Dona
- H) Kuznjecki bazen – smeđi ugljen
- I) Luka Krasnodar
- J) Moskva

5. (4) Na etničkoj karti SAD-a bojama su prikazane etničke skupine prema podrijetlu. U pravokutnike pripadajuće boje na karti upiši broj etničke skupine koja živi na određenim područjima SAD-a. Jedna etnička skupina je višak.

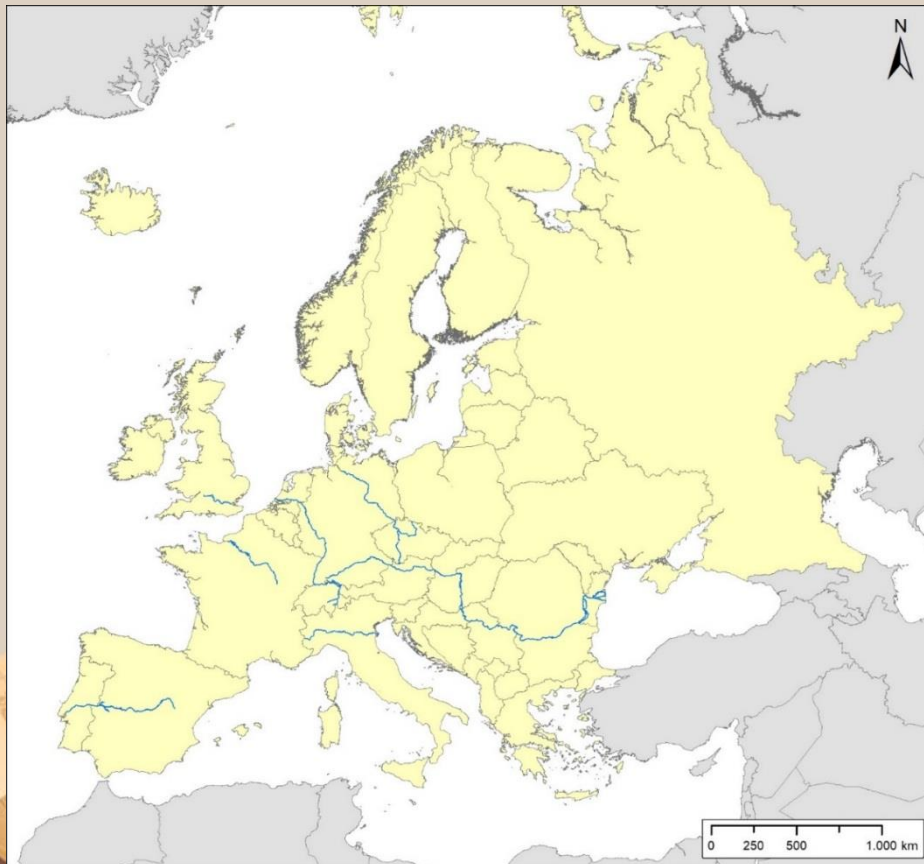


- 1 Afroamerikanci
- 2 Meksikanci
- 3 Talijani
- 4 Nijemci
- 5 Englezi

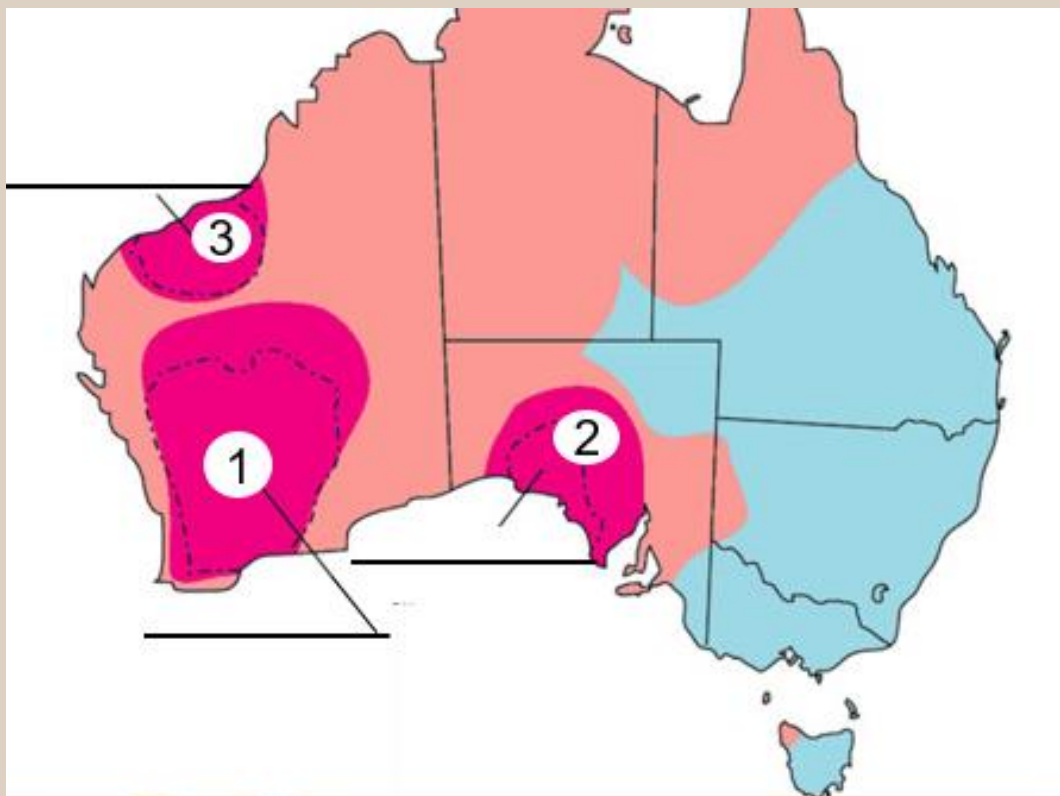
6. (2) Na karti Afrike žutom bojom su označene odabrane afričke države i teritoriji. U žuto obojeni **nepriznati** teritorij upiši broj 1. U teritorij žuto obojene države koja je stekla neovisnost 1990. upiši broj 2.



7. (4) Na karti podebljaj rijeke koje teku ispod mostova prikazanih na fotografijama. U pravokutnik uz svaku fotografiju upiši ime rijeke koja teče ispod mosta prikazanog na fotografiji. Koji most na fotografijama ima kraljevo ime? gornji / srednji / donji (zaokruži točan pojam)



8. (3) Na karti Australije prikazana su tri kratona. Na crte upiši njihova imena koja su ponuđena u plavom pravokutniku ispod karte, a broj kratona na karti pridruži pripadajućoj fotografiji australskog krajolika upisivanjem u kružić na fotografiji.



Gawler, Yilgarn, Pilbara



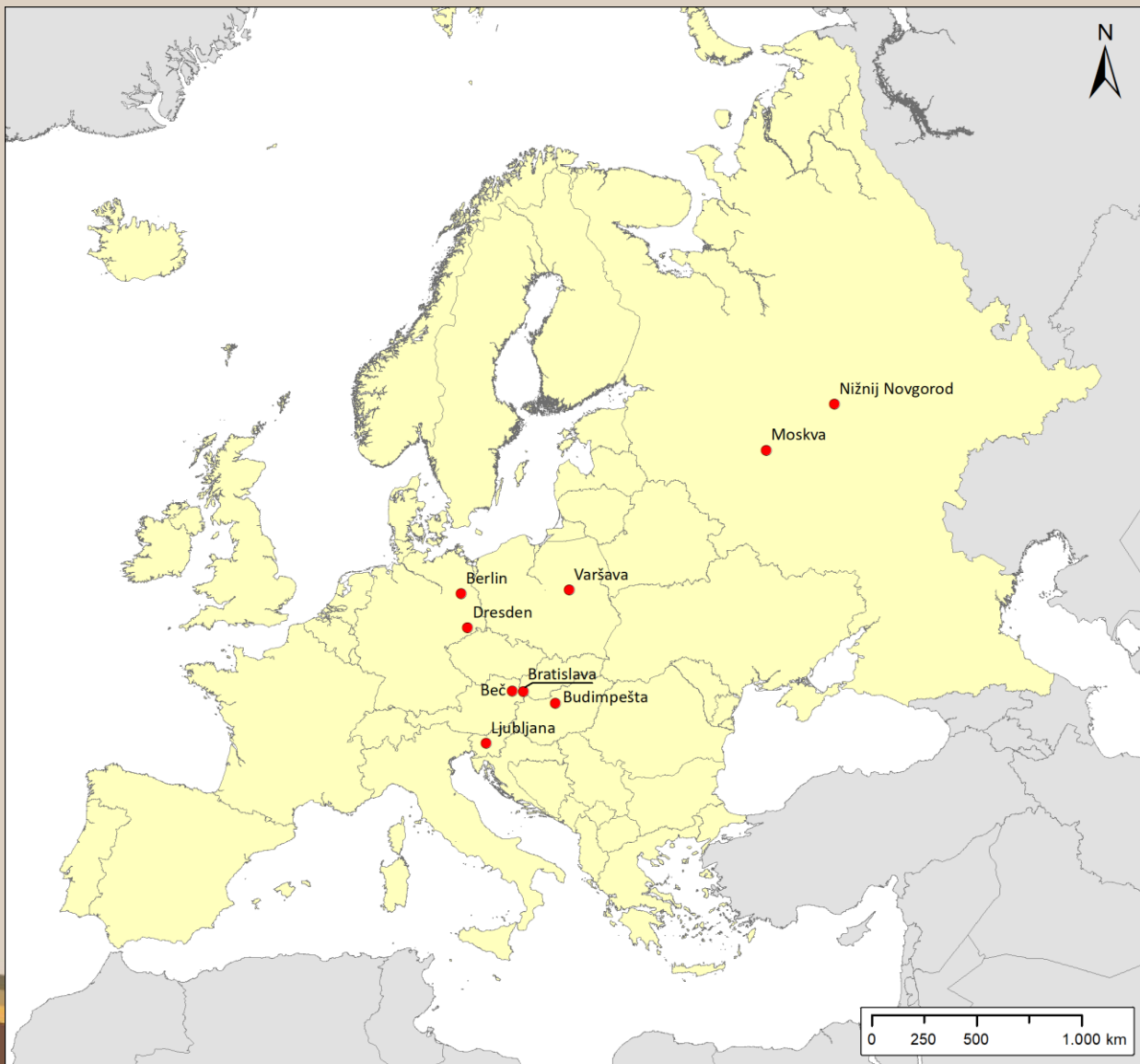
9. (2) Na fotografijama su prikazana dva grada. Jedan od njih ima slabije razvijenu industriju, dok se drugi razvio kao veliko industrijsko središte. Zaokruži slovo ispred odgovora koji predstavlja glavni razlog zašto se grad sa slabije razvijenom industrijom nije razvio u veliko industrijsko središte. Na crtu upiši ime tog grada.

- a) prevelik broj turista
 - b) ograničena mogućnost širenja grada
 - c) raslojeno društvo
 - d) problem vlasništva zemljišta
-



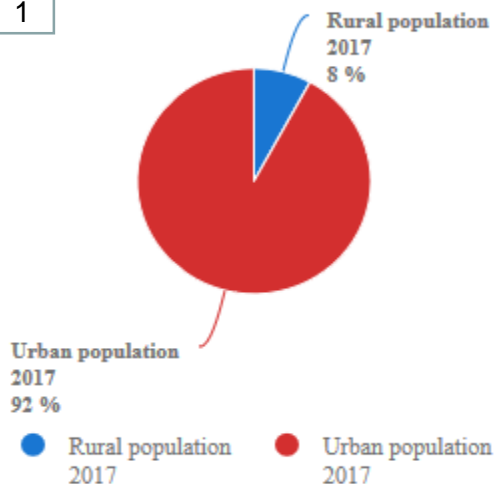
10. (4) Na karti linijom poveži gradove koji se nalaze na Paneuropskom prometnom koridoru II.

Tri najglobaliziranije zemlje svijeta 2018. s indeksom globalizacije većim od 90 na karti označi oznakom X.

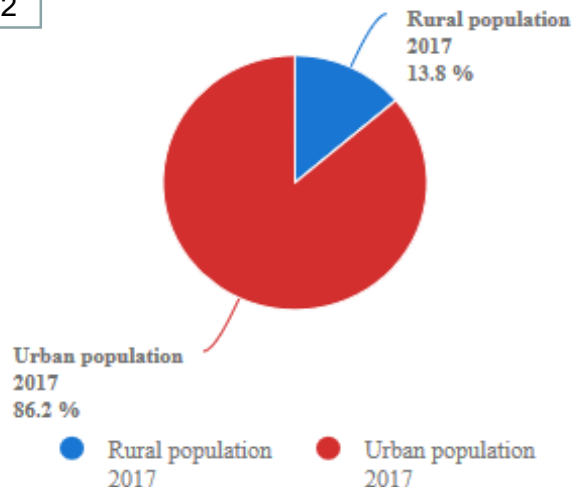


11. (4) Na priloženim dijagramima je prikazan udio urbane i ruralne populacije 2017. godine po državama. Na crtu ispod dijagrama upiši imena ponuđenih država na koje se dijagram odnosi. Jedna država je višak.

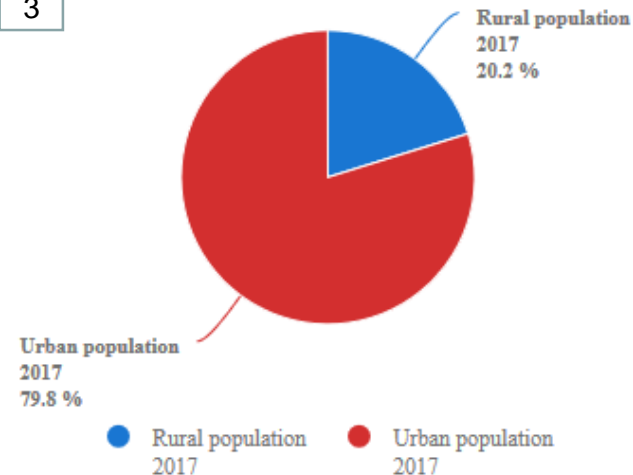
1



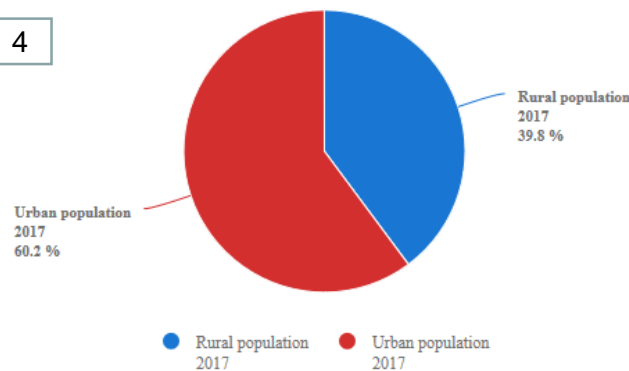
2



3



4



Argentina

Brazil

Meksiko

Paragvaj

Bolivija

12. (2) Na temelju prikazanih logotipova europskih kompanija pronađi i prekriži jednom crtom slova u križaljci koja daju odgovor za vrstu industrije kojoj pripadaju. Na crtu upiši broj logotipa najveće svjetske kompanije u navedenoj vrsti industrije.



1



2



3

K	O	Ž	N	A	S	E	A
M	E	T	A	L	N	A	O
K	O	M	I	A	L	S	K
N	E	R	I	S	I	L	E
B	I	A	R	J	C	M	O
E	O	K	N	R	S	N	I
G	R	A	F	I	Č	K	A
E	C	B	D	R	V	N	A



4



5

13. (3) Na crtu ispod satelitskog snimka upiši ime otoka. Upiši broj 1 na crte samo ispred pojmova i slika vezanih uz otok na satelitskoj snimci.



___ Cosa Nostra

___ Capo Peloro

___ rijeka Salso



___ proizvodnja pamuka



14. (4) Na temelju priložene karte i klimatskog dijagrama na idućem slajdu odgovori na pitanja.



14. (4) U pravokutnike na karti i u klimatskim dijagramima upiši ponuđena imena gradova u Meksiku. U plave kružice na klimatskim dijagramima upiši slovne oznake klimatskih razreda kojima pripadaju tipovi klime pojedinih gradova prikazanih na karti i na klimatskim dijagramima.

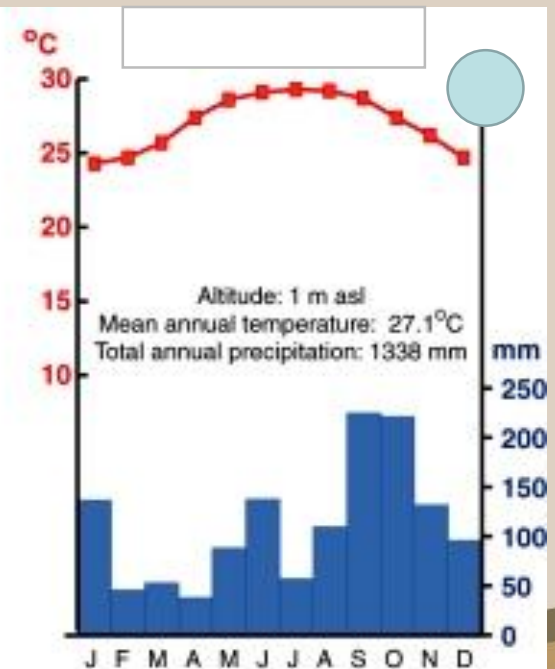
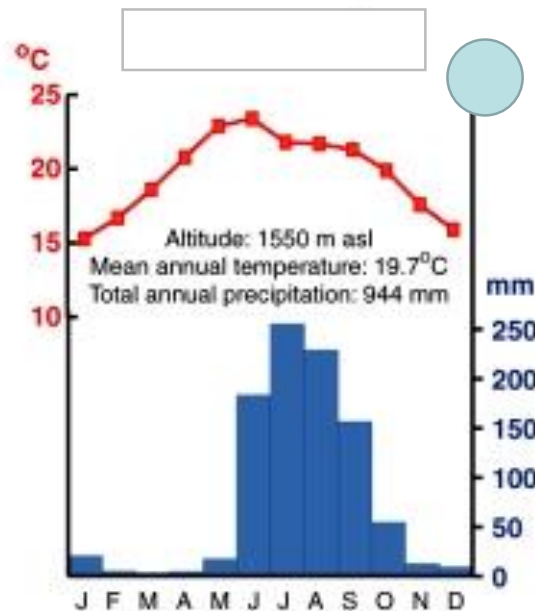
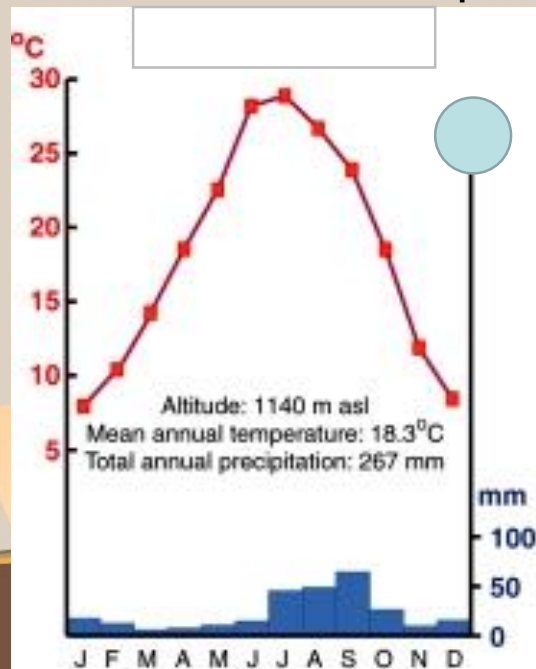
Kroz Meksiko prolazi: a) Rakova obratnica

b) Jarčeva obratnica

c) ekvator

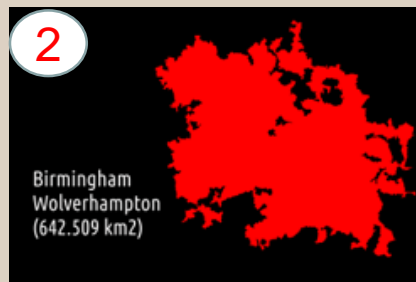
d) arktički krug

Zakruži slovo ispred točnog odgovora.



15. (3) Na temelju priloženih slika konurbacija Ujedinjenog Kraljevstva odgovori na pitanja upisivanjem točnog broja slike uz ponuđenu tvrdnju. Dvije slike ne mogu se povezati s ponuđenim tvrdnjama.

- a) Konurbacija u kojoj se nalazi grad koji nosi epitet “grad 1001 aktivnosti” prikazana je na slici broj _____.
- b) Konurbacija u kojoj se nalazi grad koji nosi epitet “pomorsko-trgovački grad” upisana na popis ugroženih mjesta svjetske baštine prikazana je na slici broj _____.
- c) Konurbacija u kojoj se nalazi grad koji je u prošlosti bio središte proizvodnje vunениh tkanina prikazana je na slici broj _____.



16. (4) Dopuni rečenice

- a) Ime najsjevernijeg stalno naseljenog mjesta na Zemlji je _____, a nalazi se u kanadskoj provinciji čije je ime _____.
- b) Ime zaljeva s najvećim rasponom plima na svijetu je _____, a nalazi se u kanadskoj provinciji čije je ime _____.
- c) Ime najveće kanadske luke na Pacifiku je _____, a nalazi se u kanadskoj provinciji čije je ime _____.
- d) Središte anglofone Kanade je u gradu čije je ime _____, a središte frankofone Kanade je u gradu čije je ime _____.



17. (3) Na temelju satelitske snimke estuarija dopuni rečenice.

Ime estuarija na satelitskoj snimci je _____, nastaje spajanjem
ušća rijeka čija su imena _____ i _____ u Atlantski
ocean i njime prolazi granica između država čija su imena _____
i _____.



18. (1) Na crtu upiši ime grada koji je u Francuskoj poznat kao grad parfema, a na karti stavi oznaku X u regiju u kojoj se nalazi taj grad.



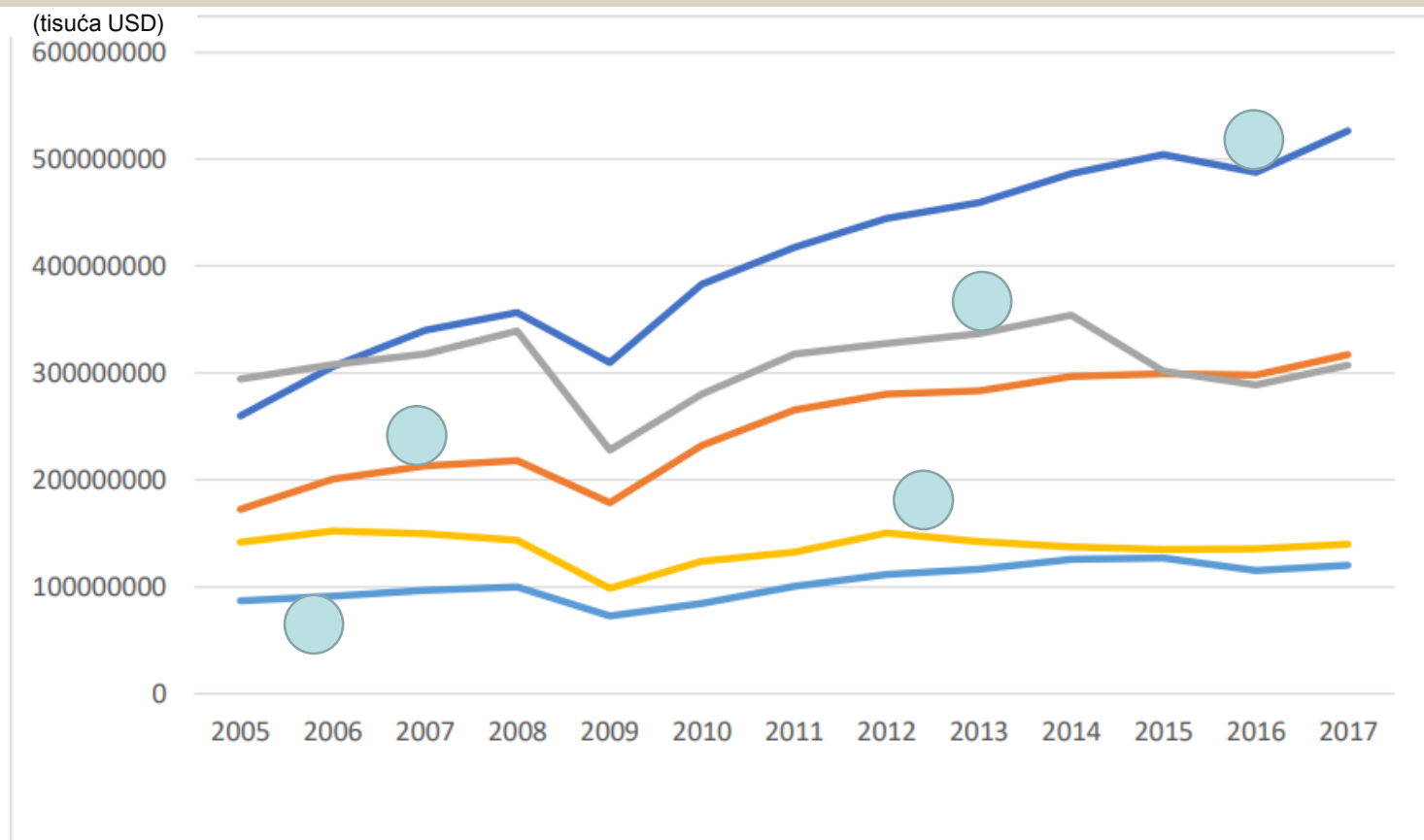
19. (2) Odgovori na pitanja uz pomoć karte regija Argentine.

- a) Regija čije je bogatstvo drvo kvebračo označena je brojem ____.
- b) Regija u kojoj se nalazi najveća luka za izvoz kukuruza na svijetu označena je brojem ____.



20. (5) Na dijagramu su linijama prikazane države najvažniji vanjskotroviniski partneri SAD-a u uvozu SAD-a u razdoblju od 2005. do 2017. U kružiće upiši broj države na koju se linija odnosi.

- 1 Kina
- 2 Njemačka
- 3 Meksiko
- 4 Kanada
- 5 Japan

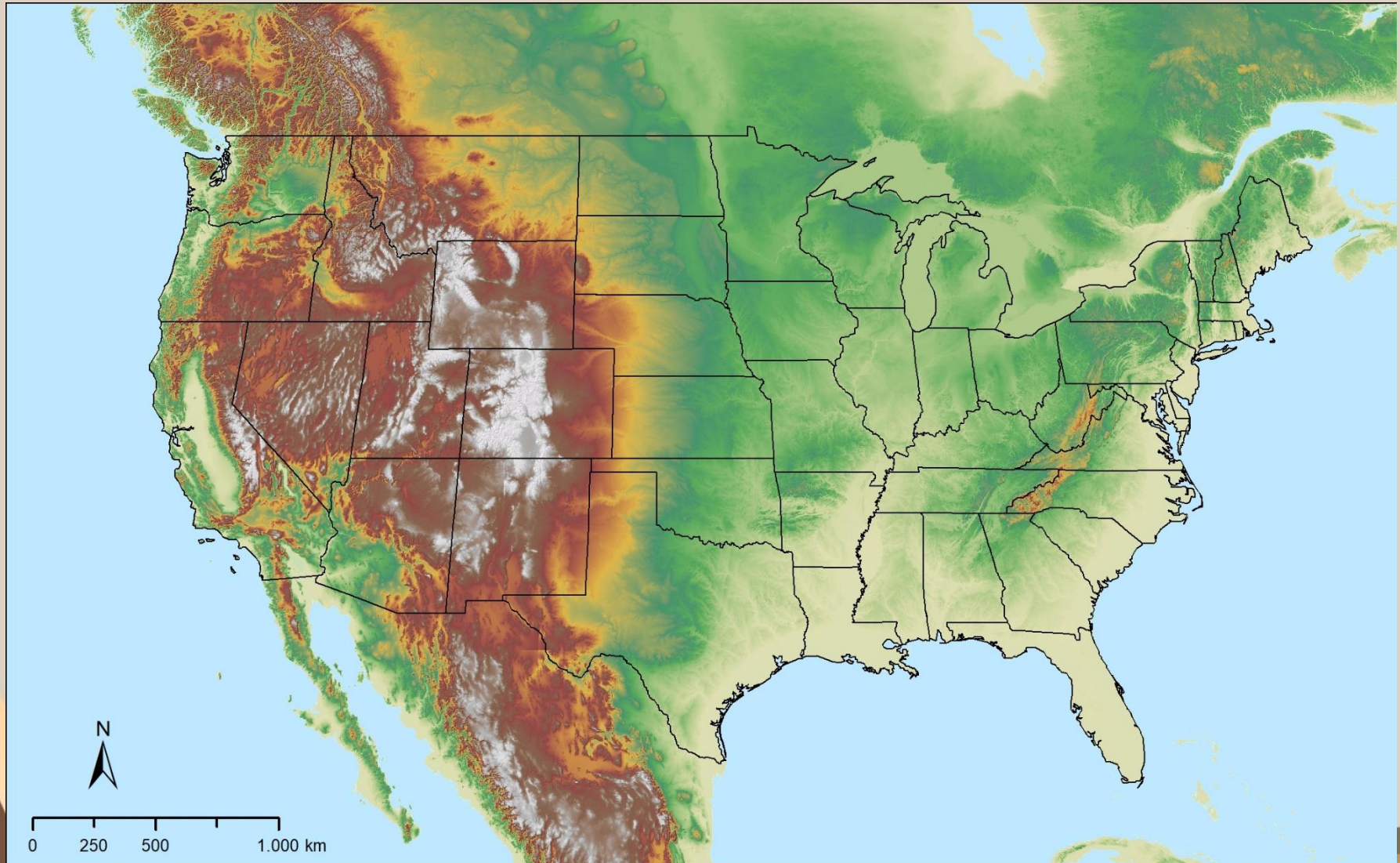


Izvor: International Trade Centre, <http://www.intracen.org/>,

21. (1) Na priloženoj karti upiši oznaku Δ u regiju Italije u kojoj žive potomci Hrvata koji su pred Turcima izbjegli na Apeninski poluotok. Na crtu upiši ime te regije.



22. (1) Zaokruži na reljefnoj karti SAD-a gorje čiji je geološki nastavak ravnjak Ozark.



23. (4) Dopuni rečenice jednim ponuđenim odgovorom u zagradi.

- a) Tvrtka Bombardier najveći je proizvođač _____ opreme na svijetu (**vojne, željezničke, automobilske**).
- b) Uprava američkog predsjednika Donalda Trumpa je od 1. 6. 2018. nametnula carinu od 25 % na uvoz _____ (**čelika, cinka, bakra**).
- c) Kanadska regija Alberta najbogatija je _____ (**naftom, ugljenom, zlatom**).
- d) Površinom najveći nacionalni park na svijetu do 1974. godine bio je _____ (**Banff, Wood Buffalo, Yosemite**)

