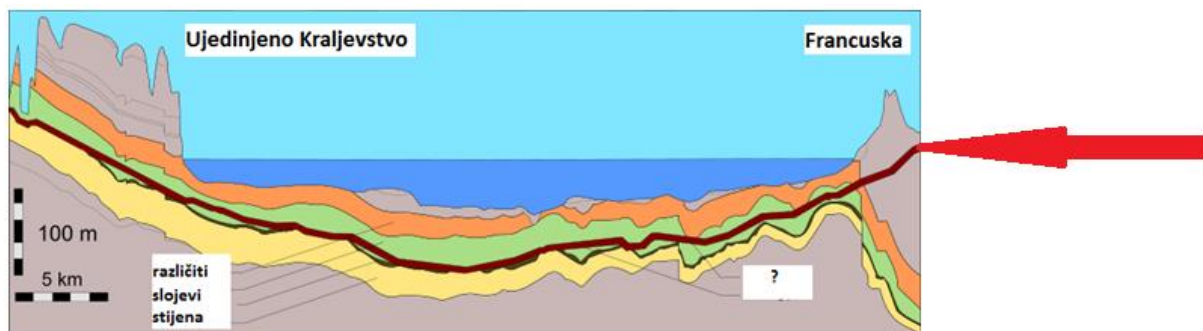


ŽUPANIJSKO NATJECANJE IZ GEOGRAFIJE 2021. GODINE

7. razred

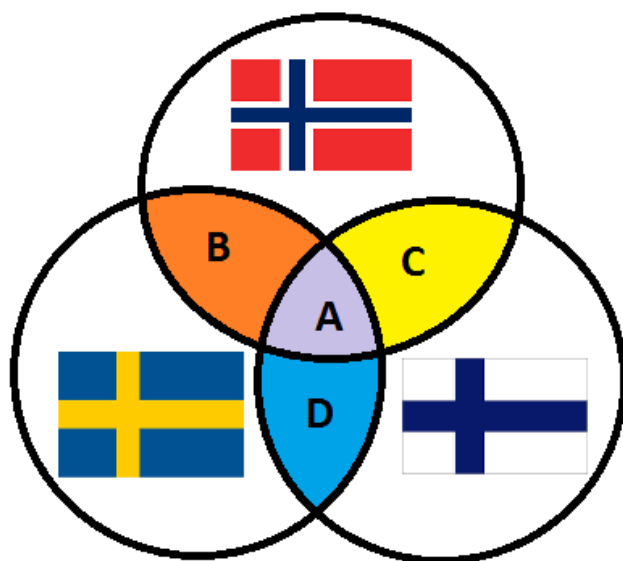
Većina zadataka rješava se pomoću grafičkih priloga. Pozorno prouči grafičke priloge prije rješavanja tih zadataka. U svakom zadatku jedan je odgovor točan. Na listu za odgovore zaokruži slovo točnog odgovora.

- 1 ☐ 1. Koja među navedenim državama ima kopnenu granicu samo s jednom državom?
a) Lihtenštajn b) Luksemburg c) Nizozemska d) Norveška e) Ujedinjeno Kraljevstvo
- 1 ☐ 2. Kroz koji od navedenih gradova **ne** protječe najprometnija rijeka slijeva Sjevernog mora?
a) Basel b) Dortmund c) Köln d) Mannheim e) Strasbourg
- 1 ☐ 3. Koje je najveće industrijsko središte na sjeveroistoku Slovenije?
a) Celje b) Ljubljana c) Maribor d) Novo Mesto e) Velenje
- 1 ☐ 4. Koja se od navedenih reljefnih uzvisina počela izdizati u geološkoj eri koja prethodi eri tijekom koje je bila posljednja oledba u Europi?
a) Betijski Kordiljeri b) Kambrijsko gorje c) Rodopi d) Rudna gora e) Schwarzwald
- 1 ☐ 5. Koji se od navedenih švicarskih gradova nalazi u talijanskom govornom području?
a) Bern b) Geneve c) Lausanne d) Lugano e) Zürich
- 1 ☐ 6. Što predstavlja prikazana crvena linija označena vrhom crvene strelice?



- a) naftovod b) plinovod c) rasjed d) tunel e) vodovod

1 7. Kojim je slovom označen isječak Vennovog dijagrama koji se odnosi na Laponce?



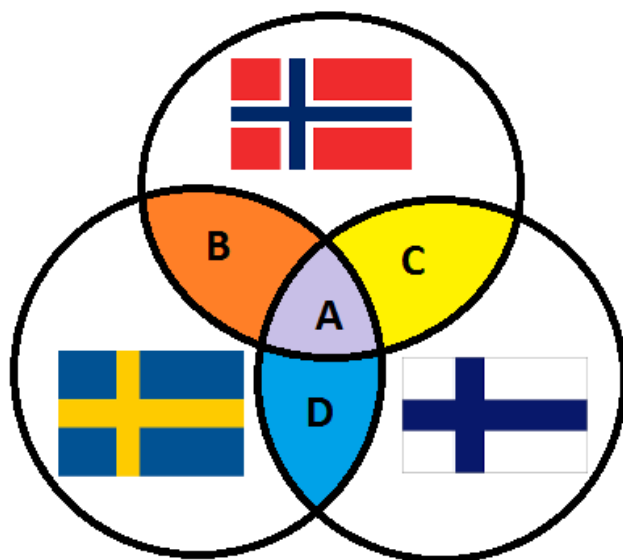
a) A

b) B

c) C

d) D

1 8. Kojim je slovom označen isječak Vennovog dijagrama koji se odnosi na pripadnost jedinog ili jednog od službenih jezika iz skupine germanskih jezika?



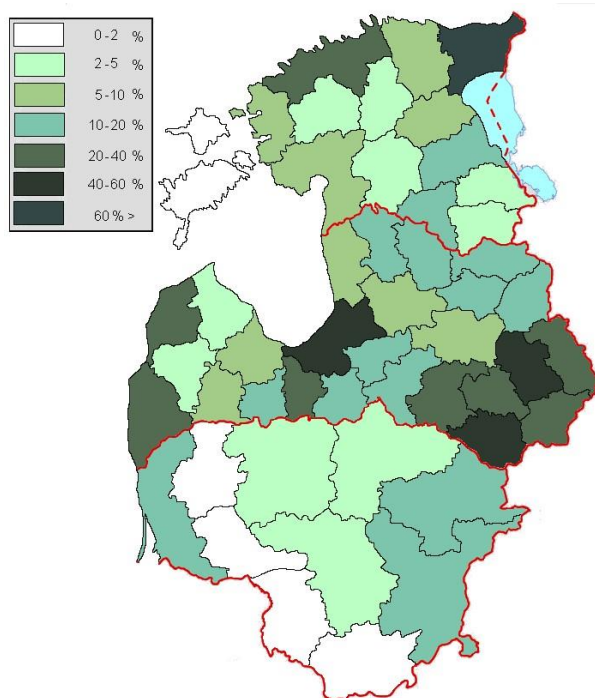
a) A

b) B

c) C


d) D

1 9. Što je prikazano na koropletnoj karti baltičkih država?




- a) udio gradskog stanovništva
- b) udio govornika ruskog jezika**
- c) udio rimokatolika
- d) udio ruralnog stanovništva
- e) udio zaposlenih u primarnom sektoru

1 10. Koje je ime države na koju se odnose prikazani podatci?



- a) Danska
- b) Francuska
- c) Lihtenštajn
- d) Luksemburg**
- e) Nizozemska

1 11. Koliko iznosi gustoća naseljenosti u prikazanoj državi (zaokruženo na cijeli broj)?



a) 76 stan./km²

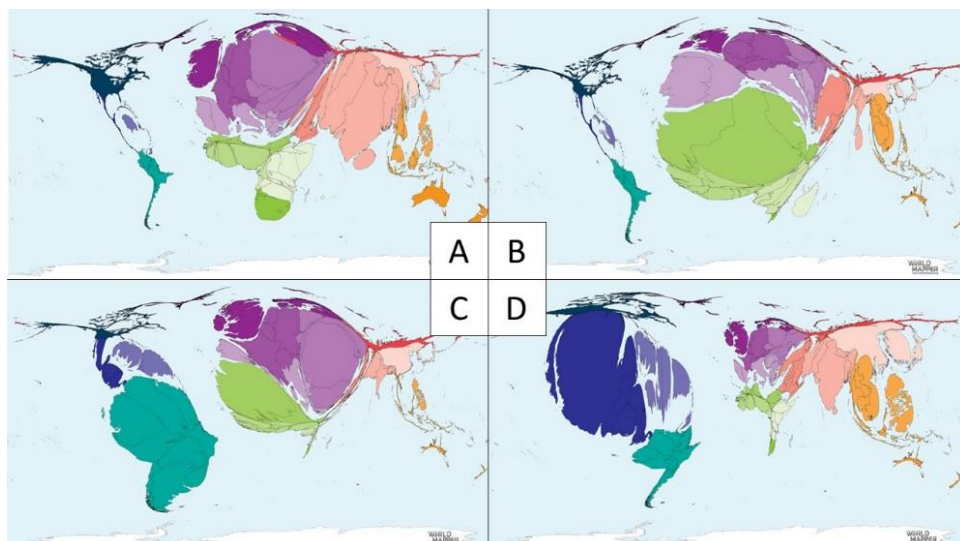
b) 139 stan./km²

c) 171 stan./km²

d) 231 stan./km²

e) 276 stan./km²

1 12. Kojim je slovom označen kartogram koji prikazuje države svijeta prema broju imigranata u Francuskoj?



a) A

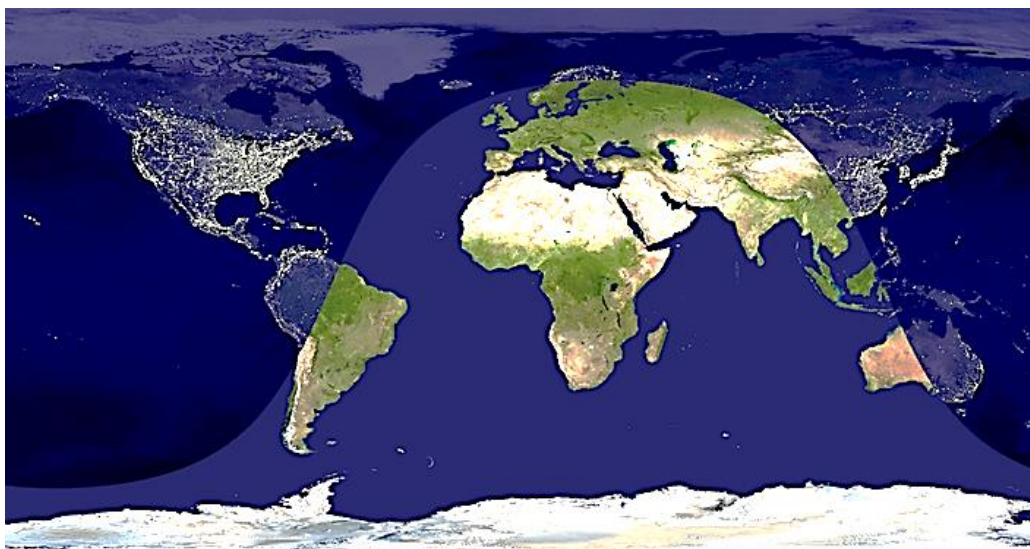
b) B

c) C

d) D

1

13. Koji je vremenski trenutak za stanovnike Belfasta predstavljen na karti?



a) ljetno jutro

b) ljetna večer

c) proljetna večer

d) zimsko jutro

e) zimska večer

1

14. Koji je otok prikazan na priloženoj slijepoj karti?



a) Irska

b) Island

c) Korzika

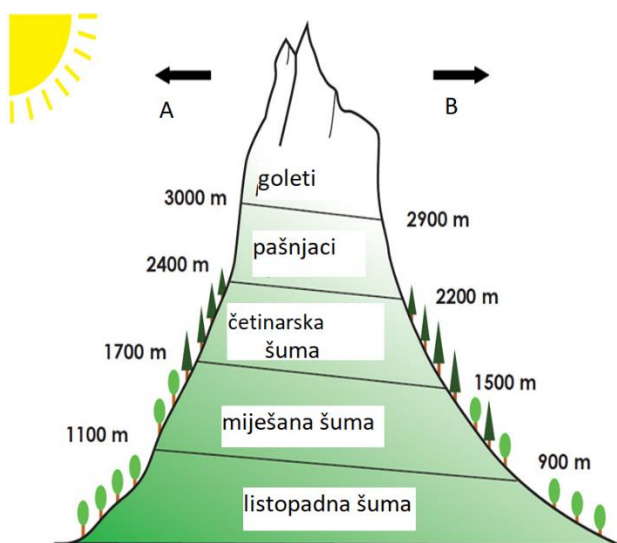
d) Sardinija

e) Sicilija

1 **15.** Što je imalo presudan utjecaj na današnji izgled europske obale?

- a) podizanje morske razine nakon posljednjeg ledenog doba te naknadni utjecaj mlata valova**
- b) podizanje morske razine prije posljednjeg ledenog doba te naknadni utjecaj mlata valova
- c) spuštanje morske razine nakon posljednjeg ledenog doba te naknadni utjecaj tekućica
- d) spuštanje morske razine prije posljednjeg ledenog doba te naknadni utjecaj mlata valova
- e) spuštanje morske razine prije posljednjeg ledenog doba te naknadni utjecaj tekućica

1 **16.** Prema kojim su stranama svijeta označenim slovima A i B na priloženoj skici većinom okrenute padine alpskih uzvisina u Švicarskoj?

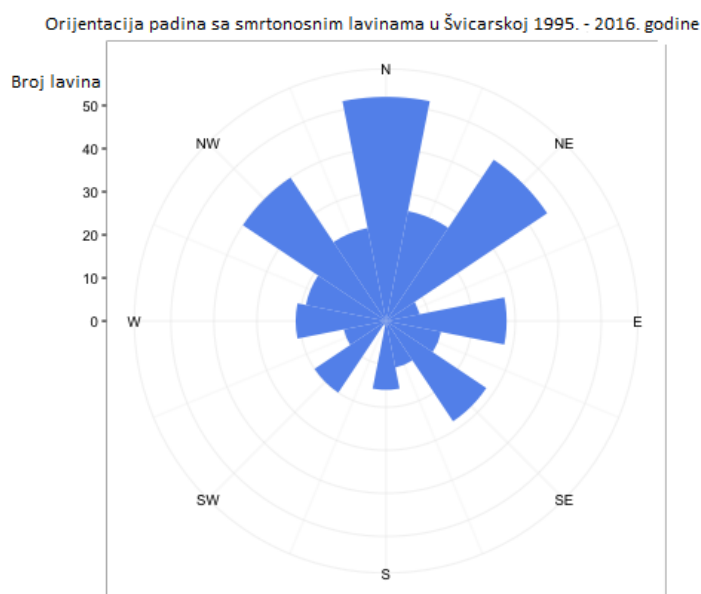


- a) prema A istoku i B zapadu
- b) prema A jugu i B sjeveru**
- c) prema A sjeveru i B jugu
- d) prema A zapadu i B istoku
- e) prema A zapadu i B jugu

1 **17.** U kojoj se od navedenih visinskih kategorija nalaze sezonska naselja alpskih stočara?

- a) četinarska šuma
- b) goleti
- c) listopadna šuma
- d) miješana šuma
- e) pašnjaci**

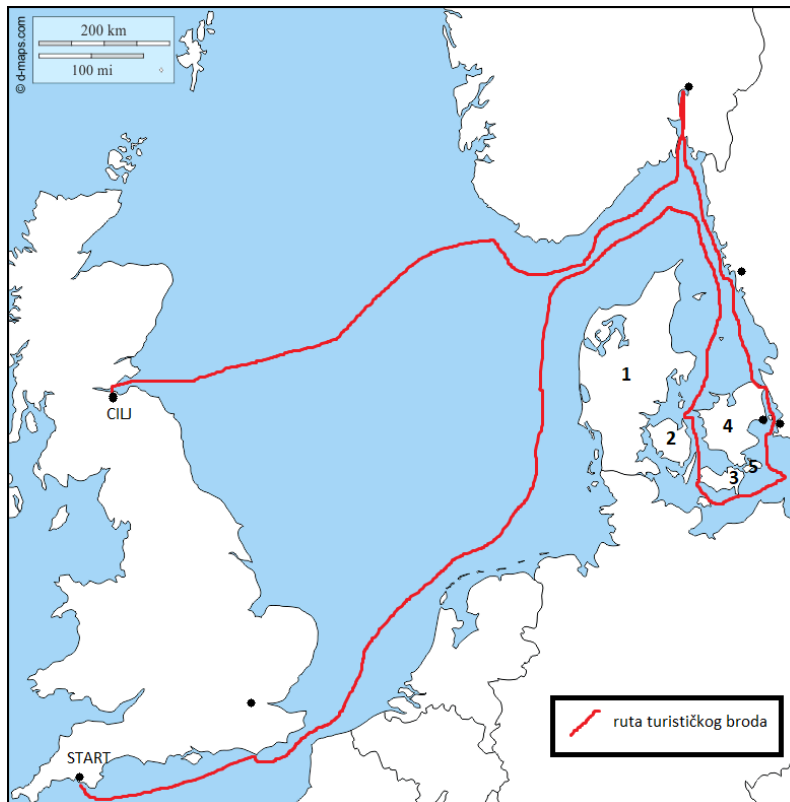
1 18. Što se od navedenog **ne može** zaključiti iz priloženog dijagrama?



- a) Južne su padine u Švicarskoj sigurnije od lavina nego sjeverne.
- b) Na jugozapadnim se padinama dogodilo manje od 30 lavina.
- c) Na južnim je padinama najmanja količina snijega.
- d) Najveći se broj smrtonosnih lavina dogodio na sjevernim padinama.
- e) Na sjeveroistočnim padinama veći je broj smrtonosnih lavina od jugoistočnih.

SLJEDEĆIH OSAM ZADATAKA RIJEŠI UZ POMOĆ PRILOŽENE GEOGRAFSKE KARTE.

1 19. Iz kojeg je engleskog grada krenuo turistički brod?



- a) Bournemouth b) Bristol **c) Plymouth** d) Portsmouth e) Southampton

1 20. Koji je točan redoslijed morskih prolaza kojima je brod prolazio od početka do kraja puta?

- a) Doverska vrata – Kattegat – Skagerrak – Veliki Belt – Öresund – Kattegat
 b) Doverska vrata – Öresund – Kattegat – Veliki Belt – Skagerrak – Öresund
 c) Doverska vrata – Skagerrak – Kattegat – Mali Belt – Veliki Belt – Öresund
d) Doverska vrata – Skagerrak – Kattegat – Veliki Belt – Öresund – Kattegat
 e) Doverska vrata – Skagerrak – Öresund – Veliki Belt – Kattegat – Skagerrak

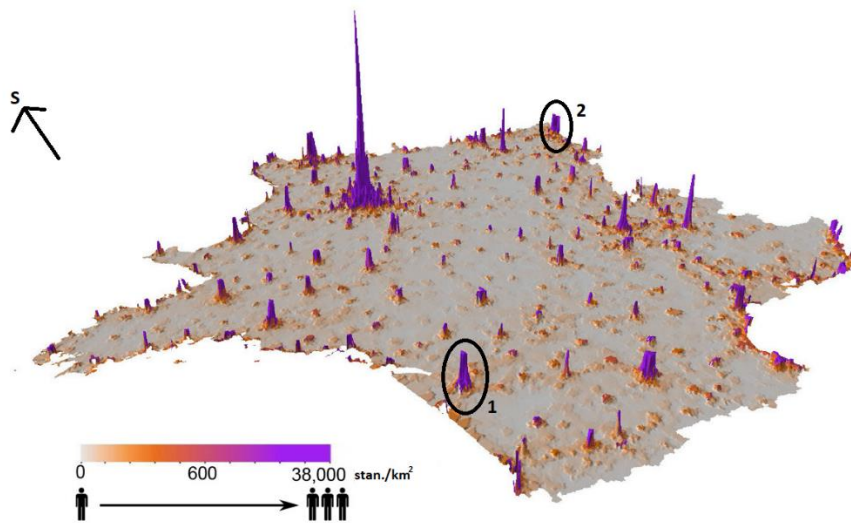
1 21. Kojim je brojem na karti označen otok/poluotok na kojem je smješten glavni grad Danske?

- a) 1 b) 2 c) 3 **d) 4** e) 5

- 1** ☐ **22.** Koje je ime otoka/poluotoka na kojem se smjestio glavni grad Danske?
a) Bornholm b) Fyn c) Jylland d) Lolland **e) Sjælland**
- 1** ☐ **23.** Koje je ime fjorda kojim je prošao turistički brod?
a) Hardangerfjord **b) Oslofjord** c) Sognefjord d) Varangerfjord e) Vestfjord
- 1** ☐ **24.** Koje je od navedenih ime švedskog grada označenog točkom na karti koji je povezan s Danskom mostom i tunelom?
a) Göteborg b) Kiruna c) Lund **d) Malmö** e) Stockholm
- 1** ☐ **25.** Koja je od navedenih tvrdnji o prikazanoj ruti turističkog broda točna?
a) Ruta prolazi jednim oceanom i jednim obalnim (rubnim) morem.
b) Ruta prolazi jednim oceanom i dvama obalnim (rubnim) morima.
c) Ruta prolazi jednim oceanom i trima obalnim (rubnim) morima.
d) Ruta prolazi jednim oceanom i četirima obalnim (rubnim) morima.
- 1** ☐ **26.** Koja je od navedenih tvrdnji o krajnjem odredištu prikazane turističke rute točna?
a) Ruta završava u najmnogoljudnijem gradu Škotske.
b) Ruta završava u gradu čije je ime Glasgow.
c) Ruta završava u gradu na obali estuarija Firth of Forth.
d) Ruta završava u gradu na ušću rijeke Tyne.
e) Ruta završava na granici Engleske i Škotske.

SLJEDEĆA TRI ZADATKA RIJEŠI UZ POMOĆ PRILOŽENE SINOPTIČKE KARTE.

1 **27.** Koji se postupak od navedenih provodi zbog stanja istaknutog na priloženoj karti?



a) decentralizacija

b) planska izgradnja apartmana i hotela

c) pronatalitetna populacijska politika

d) restrukturiranje industrije

e) smanjivanje imigracije

1 **28.** Koja rijeka protječe gradom označenim brojem 1 na priloženoj karti?

a) Durance

b) Garonne

c) Loire

d) Seine

e) Somme

1 **29.** Koji je grad označen brojem 2 na priloženoj karti?

a) Lille

b) Lyon

c) Nancy

d) Strasbourg

e) Toulouse

SLJEDEĆA TRI ZADATKA RIJEŠI UZ POMOĆ PRILOŽENE SINOPTIČKE KARTE.

1	30. Koje je godišnje doba u kojem je prikazana trenutačna sinoptička situacija na karti?
----------	---



- a) jesen b) ljeto c) proljeće **d) zima**

1 **31.** Za koji će od navedenih prostora meteorolozi na temelju prikazane karte predvidjeti stabilno vrijeme?

- a) za Bretanju** **b) za Krim** **c) za Panonsku nizinu**
d) za Peloponez **e) za Siciliju**

1 **32.** Koje je ime područja nad kojim nastaje za Europu važno područje visokog tlaka zraka prikazano na karti?

- a) Biskajski zaljev b) Genovski zaljev c) Island d) Sibir e) Sjeverno more**

SLJEDEĆA TRI ZADATKA RIJEŠI UZ POMOĆ PRILOŽENE TABLICE.

1 **33.** Koji tip klime odgovara podacima u tablici?

mjesec	S	V	O	T	S	L	S	K	R	L	S	P
temperatura zraka (°C)	-9,3	-7,7	-2,2	5,8	12,9	16,6	18,1	16,4	10,9	5,0	-1,1	-6,1
padaline (mm)	45	37	34	40	58	76	92	74	64	58	58	52

a) klima tundre b) sredozemna klima c) stepska klima

d) umjereno topla vlažna klima e) vlažna snježno-šumska klima

1 **34.** Kolika je godišnja amplituda temperature zraka za prikazanu mjernu postaju?

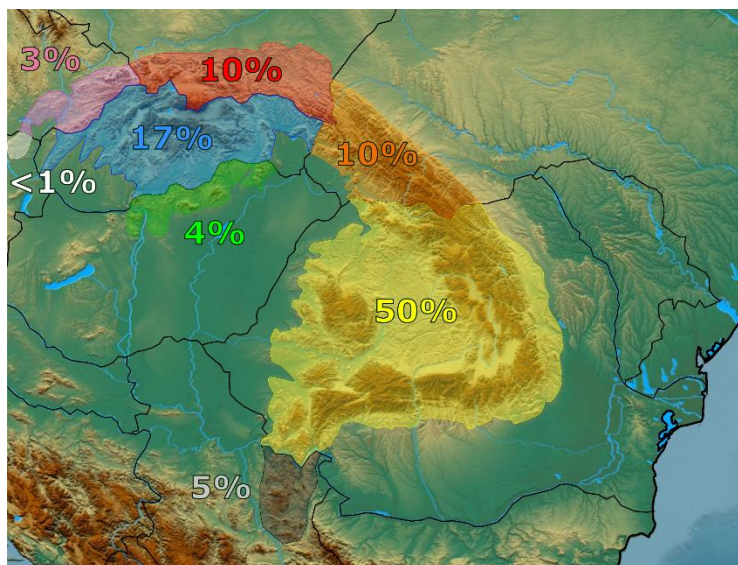
a) 7,3 °C b) 8,8 °C c) 25,9 °C d) 27,4 °C e) 30,8 °C

1 **35.** Koja je od navedenih poljoprivrednih kultura najviše zastupljena u uzgoju na otvorenom prostoru u prikazanim klimatskim uvjetima?

a) datulje b) kivi c) krumpir d) mandarine e) riža

SLJEDEĆA TRI ZADATKA RIJEŠI UZ POMOĆ PRILOŽENE GEOGRAFSKE KARTE.

1 **36.** U kojoj se državi bez izlaza na more nalazi najveći udio prikazanog planinskog lanca?



a) u Poljskoj b) u Rumunjskoj c) u Slovačkoj d) u Srbiji e) u Ukrajini

1 **37.** Za vrijeme kojeg su geološkog razdoblja oblikovani najmlađi dijelovi prikazanog planinskog lanca?

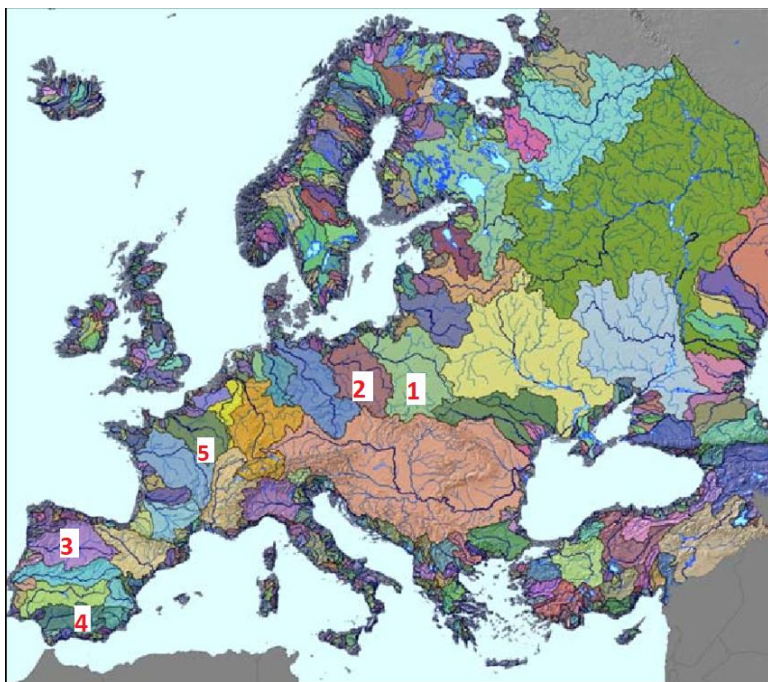
- a) u arhaiku **b) u kenozoiku** c) u mezozoiku
d) u paleozoiku e) u proterozoiku

1 **38.** Koje se među navedenim skijalištima nalazi na prostoru prikazanog planinskog lanca?

- a) Bansko b) Gstaad c) Kitzbühel d) Val-d'Isère **e) Zakopane**

SLJEDEĆA DVA ZADATKA RIJEŠI UZ POMOĆ PRILOŽENE GEOGRAFSKE KARTE.

1 **39.** Koje je ime rijeke čije je porječje označeno na karti brojem 1?



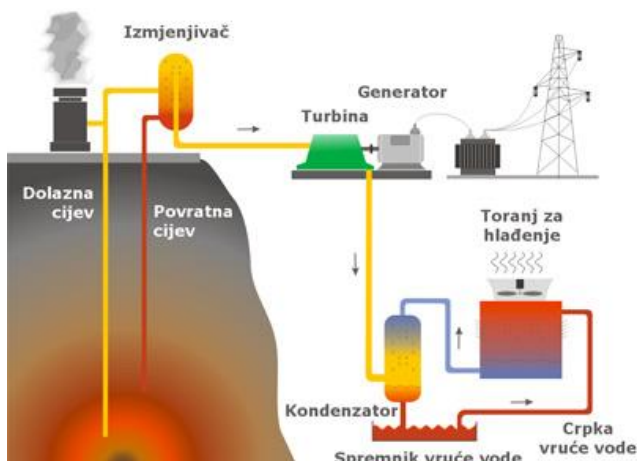
- a) Laba b) Odra c) Vltava **d) Wisla** e) Zapadna Dvina

1 **40.** Kojim je brojem označeno porječje rijeke kojemu dio razvodnice prolazi Kantabrijskim gorjem?

- a) 1 b) 2 **c) 3** d) 4 e) 5

1

41. Koja među navedenim državama dobiva najveći udio energije iz prikazane vrste elektrana?



a) Danska

b) Francuska

c) Island

d) Litva

e) Norveška

SLJEDEĆA DVA ZADATKA RIJEŠI UZ POMOĆ PRILOŽENE GEOGRAFSKE KARTE.

1

42. Koje je od imena kopnenih voda pogrešno upisano na priloženoj karti Mađarske?



a) Balaton

b) Dunav

c) Neusiedler jezero

d) Rába

e) Tisa

1

43. Koje je ime grada pogrešno upisano na priloženoj karti Mađarske?

a) Budimpešta

b) Debrecen

c) Győr

d) Pécs

e) Szeged

1 **44.** Koju od prikazanih europskih putovnica automatski stječu stanovnici najvećeg otoka Sjeverne Amerike?



a) A

b) B

c) C

d) D

1 **45.** U kojem je od navedenih gradova sjedište institucije čija je zastava na prikazu?



a) u Beču

b) u Bruxellesu


c) u Luxembourggu

d) u Parizu

e) u Zürichu

1

46. Koji je oblik turizma razvijen na prikazanoj lokaciji?



a) agroturizam

b) lječilišni turizam

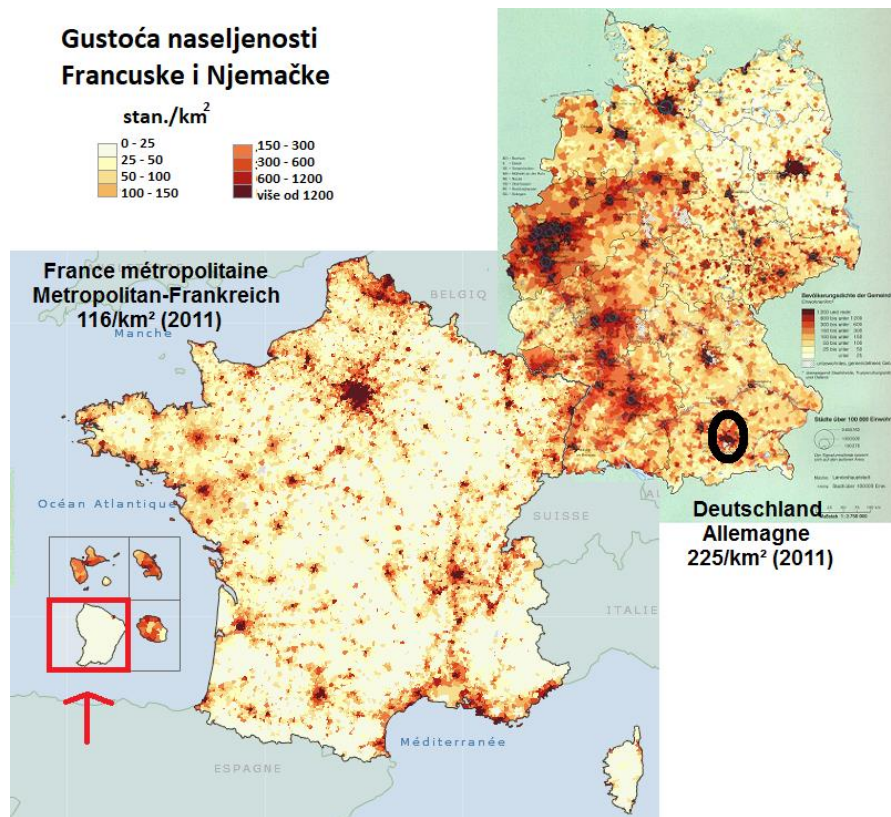
c) memorijalni turizam

d) turizam gradova

e) vjerski turizam

SLJEDEĆA TRI ZADATKA RIJEŠI UZ POMOĆ PRILOŽENE GEOGRAFSKE KARTE.

1 47. Koja je tvrdnja o gustoći naseljenosti Francuske i Njemačke točna?



- a) Azurna je obala rijetko naseljen prostor.
- b) Pogranično područje Francuske i Njemačke rijetko je naseljeno.
- c) Prostor uz rijeku Odru gusto je naseljen.
- d) Razmještaj stanovništva Njemačke ravnomjerniji je od razmještaja stanovništva Francuske.**
- e) Stara rudarsko-industrijska regija uz rijeku Ruhr danas je rijetko naseljena.

1 48. Koji od navedenih proizvođača automobila ima sjedište u gradskoj regiji zaokruženoj crnom bojom?

- a) Audi
- b) BMW
- c) Mercedes-Benz**
- d) Porsche
- e) Volkswagen

1 49. U kojem je od navedenih područja smješten dio teritorija Francuske označen crvenom strelicom i crvenim pravokutnikom?

- a) u Africi
- b) u Atlantskom oceanu
- c) u Indijskom oceanu
- d) u Južnoj Americi**
- e) u Tihom oceanu

1 **50.** U kojoj se državi nalaze prikazane ploče na ulazu u naselja u kojima žive pripadnici hrvatske nacionalne manjine?



a) u Austriji **b) u Italiji** **c) u Mađarskoj** **d) u Njemačkoj** **e) u Rumunjskoj**