

ŠKOLSKO NATJECANJE IZ POVIJESTI

2. SKUPINA

ŠKOLSKA GODINA: 2019. / 2020.

UTORAK, 16. studenoga 2020.

10:00 – 11:00 sati

IME I PREZIME: \_\_\_\_\_

OIB: \_\_\_\_\_

BROJ BODOVA:

50	
----	--

POSTOTAK RIJEŠENOSTI ISPITA: \_\_\_\_\_

ČLANOVI PROSUDBENOG POVJERENSTVA:

1. \_\_\_\_\_

2. \_\_\_\_\_

3. \_\_\_\_\_

\_\_\_\_\_  
(mjesto i nadnevak)

NAPUTCI:

1. Imate 60 minuta za rješavanje ispita.
2. Odgovore u ispitu upisujete na za to predviđena mjesta. Ispred svake skupine zadataka nalazi se uputa za njihovo rješavanje. Pozorno ju pročitajte.
3. Ispit pišite plavom ili crnom kemijskom olovkom. Pišite čitko. Nečitki odgovori bodovat će se s 0 bodova.
4. Osobna imena i prezimena te geografska imena pišite izvorno prema udžbenicima odobrenim od MZOS-a u šk. g. 2014./2015.
5. Jednom napisane odgovore u ispitu nije dopušteno prepravljati već ih treba staviti u zagradu i precrtati te skraćenim potpisom (parafom) označiti i upisati ispravan odgovor.

<del>(Pipin Mali)</del>	Karlo Veliki	70
precrtan netočan odgovor u zagradi	ispravan odgovor	paraf (skraćeni potpis)

6. Možete koristiti list za koncept tijekom rješavanja ispita. List za koncept predviđen je kao pomoćni list i on se neće bodovati. U omotnici zajedno s ispitom predajete i list za koncept.
7. Želimo Vam mnogo uspjeha!

I. U zadatcima koji slijede samo je jedan odgovor točan. Zaokružite slovo ispred točnog odgovora.

1. Kako se zvao pokret u Južnom Vijetnamu nakon Drugoga svjetskog rata koji je nastao na poticaj Sjevernog Vijetnama?

1	
---	--

a) Hippy pokret

b) pokret Vijetkong

c) pokret Hamas

d) pokret Sinn Fein

2. Kako se još naziva dan početka operacije Overlord?

1	
---	--

a) Dan pobjede

b) Dan Europe

c) Dan D

d) Dan iskrcavanja

3. Kada je snimljen prvi zvučni film?

1	
---	--

a) 1925.

b) 1926.

c) 1927.

d) 1928.

4. Koja od navedenih država je nastala nakon Raspada Austro-Ugarske Monarhije, a trajala je do 1920. godine?

1	
---	--

a) Republika Slovačka

b) Država Slovenaca Hrvata i Srba

c) Republika Njemačka Austrija

d) Kraljevina Mađarska

5. Što je po struci bio član Hrvatske stranke prava i osnivač ustaškog pokreta Ante Pavelić?

1	
---	--

a) zubar

b) pravnik

c) liječnik

d) učitelj

6. U kojem mjestu je potpisan mirovni ugovor s Austrijom nakon Prvoga svjetskog rata?

a) Saint-Germain

1	
---	--

b) Neuilly

c) Trianon

d) Sevres

7. Kada je Petar I. Karađorđević bio kralj Kraljevstva SHS?

a) 1918.-1920.

1	
---	--

b) 1918.-1929.

c) 1918.-1924.

d) 1918.-1921.

8. U kojem gradu je osnovan Nezavisni poljski sindikat Solidarnost?

a) Varšavi

1	
---	--

b) Gdansku

c) Krakowu

d) Lublinu

9. Što u prijevodu označava japanski pojam kamikaza?

a) božanski vjetar

1	
---	--

b) božanski vojnik

c) božanska ptica

d) božanski grom

II. U sljedećim zadacima povežite međusobno srodne pojmove upisivanjem slova na praznu crtu iza broja. Tri ponuđena pojma nemaju svoj adekvatan par i nigdje se ne upisuju.

10. Povežite pojam i njegovo objašnjenje.

1. \_\_\_\_\_ bojkot

a) protuzakonito djelovanje protiv države i naroda

2. \_\_\_\_\_ suverenitet

b) slobodan, napredan

3	
---	--

3. \_\_\_\_\_ korpus

c) izjava, svečano proglašenje osnovnih načela

d) organizirano odbijanje suradnje

e) potpuna nezavisnost jedne države ili naroda na vlastitom teritoriju

f) velika vojna jedinica

11. Povežite osobu i njezinu djelatnost.

- |                          |                |
|--------------------------|----------------|
| 1. _____ Dražen Petrović | a) glazba      |
| 2. _____ Vladimir Prelog | b) kiparstvo   |
| 3. _____ Dušan Đamonja   | c) književnost |
|                          | d) sport       |
|                          | e) znanost     |
|                          | f) slikarstvo  |

3	
---	--

III. U sljedećim zadacima odgovorite na pitanja kratkim odgovorom.

12. Tko je 1994. godine postao prvi crni predsjednik Južnoafričke Republike? (ime i prezime)

1	
---	--

13. Kako se naziva masovno ubijanje pripadnika neke rase, nacije ili vjere kako bi ih se fizički uništilo?

1	
---	--

14. Tko je uz Savku Dabčević- Kučar bio jedan od vodećih hrvatskih političara Hrvatskog proljeća? (ime i prezime)

1	
---	--

15. Kako se naziva Demokratska Federalna Jugoslavija nakon donošenja ustava 1946. godine? (puni naziv)

1	
---	--

16. Kako se naziva osoba koja izražava nezadovoljstvo društvenim prilikama i zbog toga biva proganjana?

1	
---	--

17. Kako se zvao student koji se spalio u središtu Praga u znak protesta protiv sovjetske intervencije u Čehoslovačkoj kojom je zaustavljeno Praško proljeće? (ime i prezime)

1	
---	--

18. Kako se zvao prvi premijer novoproglašene države Izrael? (ime i prezime)

1	
---	--

19. Kako se zove dokument kojim je Država SHS promijenila ime?

1	
---	--

20. Kako se zove akcija Hrvatske vojske kojom je u rujnu 1993. godine oslobođeno područje Medaka i okolice?

1	
---	--

IV. U sljedećim zadatcima poredajte kronološki navedene sadržaje.

21. Upisivanjem rednih brojeva od 1. do 4. na praznu crtu iza slova kronološki točno poredaj navedene događaje tako da 1. označava najraniji, a 4. najkasniji događaj.

a) \_\_\_\_\_ Izvršena akcija Hrvatske vojske Skok 2.

2	
---	--

b) \_\_\_\_\_ Izvršena vojno-redarstvena akcija Bljesak.

c) \_\_\_\_\_ Izvršena akcija hrvatske vojske Ljeto '95.

d) \_\_\_\_\_ Izvršena vojno-redarstvena akcija Oluja.

22. Upisivanjem rednih brojeva od 1. do 4. na praznu crtu iza slova kronološki točno poredaj navedene događaje tako da 1. označava najraniji, a 4. najkasniji događaj.

a) \_\_\_\_\_ Izbio građanski rat između Sjeverne i Južne Koreje.

2	
---	--

b) \_\_\_\_\_ Izbio rat između Iraka i Irana.

c) \_\_\_\_\_ Izbila Kubanska kriza.

d) \_\_\_\_\_ Izbila Berlinska kriza.

23. Upisivanjem rednih brojeva od 1. do 4. na praznu crtu iza slova kronološki točno poredaj navedene događaje tako da 1. označava najraniji, a 4. najkasniji događaj.

a) \_\_\_\_\_ Osnovan Pokret nesvrstanih.

2	
---	--





b) \_\_\_\_\_ Indija ostvarila neovisnost od Velike Britanije.

c) \_\_\_\_\_ Alžir ostvario neovisnost od Francuske.

d) \_\_\_\_\_ Donesena deklaracija UN-a o davanju neovisnosti kolonijalnim zemljama.

V. Na sljedeće zadatke odgovori uz pomoć shematskog prikaza.

24. Na shemi su prikazani grbovi sa štitova krune grba Republike Hrvatske. U prazan pravokutnik upiši pripadajući naziv grba.



1	
---	--

--

grb  
Dubrovačke  
Republike

grb  
Dalmacije

grb Istre

grb  
Slavonije

25. Na shemi su prikazane glavne karakteristike zemalja parlamentarnih demokracija i socijalističkih zemalja. Koristeći suprotno obilježje u prazne pravokutnike upiši odgovarajuće karakteristike .

1	
---	--

zemlje parlamentarne demokracije	socijalističke zemlje
privatno vlasništvo	
	plansko gospodarstvo
višestranačje	jednostranačje komunističke partije
građanske slobode	političke slobode

VI. Sljedeće zadatke riješite uz pomoć izvornog povijesnog teksta ili fotografije.

26. Proučite ulomak izvornoga povijesnog teksta i odgovorite na postavljena pitanja.

„...Načelo nacionalnog suvereniteta i potpune ravnopravnosti obuhvaća i pravo svakoga od naših naroda da čuva sve atribute svoga nacionalnog postojanja i da maksimalno razvija ne samo svoju privrednu, nego i kulturnu djelatnost. Među tim atributima odsudno važnu ulogu ima vlastito nacionalno ime jezika kojim se hrvatski narod služi, jer je neotuđivo pravo svakoga naroda da svoj jezik naziva vlastitim imenom, bez obzira radi li se o filološkom fenomenu koji u obliku zasebne jezične varijante ili čak u cijelosti pripada i nekom drugom narodu...”

a) Kako se naziva dokument iz kojeg je izvučen ovaj citat?

\_\_\_\_\_

1	
---	--

b) Kako se zovu novine u kojima je objavljen dokument i kada je objavljen dokument o kojemu se govori u izvoru? (naziv novina /dan, mjesec i godina)

\_\_\_\_\_

1	
---	--

c) Kako se zove institucija koja je bila organizator, nosioc i glavni potpisnik ovog dokumenta ?

\_\_\_\_\_

1	
---	--

27. Proučite ulomak povijesnog teksta i odgovorite na postavljena pitanja:

Na poziv jugoslavenske vlade, ministarska »trojka« Evropske zajednice razgovarala je 7. srpnja 1991. na Brijunima s predstavnicima svih strana koje su izravno uključene u jugoslavensku krizu. Cilj misije ministarske trojke bio je da stvori odgovarajuće uvjete za mirne pregovore između svih strana. Sve strane primile su k znanju Deklaraciju Evropske zajednice i njenih država članica od 5. srpnja 1991. i potvrdile svoju obavezu da će se prijedlozi Evropske zajednice od 30. lipnja 1991. u potpunosti ispuniti, kako bi se osigurao prekid vatre i omogućili pregovori o budućnosti Jugoslavije. U vezi s tim prijedlozima daljnji su modaliteti dogovoreni u Aneksu I. Sve strane složile su se da doslovno moraju biti poštovana sljedeća načela, da bi se osiguralo mirno rješenje:

- Narodi Jugoslavije jedini mogu odlučiti o vlastitoj budućnosti,
- U Jugoslaviji je došlo do razvoja nove situacije, koja zahtijeva pažljivo nadgledanje i pregovore između različitih strana,
- Pregovori moraju početi hitno, ne kasnije od 1. kolovoza 1991, o svim aspektima budućnosti Jugoslavije, bez ikakvih preduvjeta i na osnovi principa sadržanih u Završnom dokumentu iz Helsinkija i u Pariškoj povelji o novoj Evropi (ovo se odnosi osobito na ljudska prava, uključujući pravo naroda na samoopredjeljenje, u skladu s Poveljom Ujedinjenih naroda i odgovarajućim normama međunarodnog prava, što znači i onima koje se odnose na teritorijalni integritet država),
- Kolektivno Predsjedništvo mora imati potpuna ovlaštenja i igrati svoju političku i ustavnu ulogu, u pogledu saveznih oružanih snaga,
- Sve strane uzdržat će se od bilo kakvih jednostranih koraka, a osobito od svih nasilnih postupaka.

a) Kako se naziva dokument opisan u povijesnom tekstu?

---

1	
---	--

b) Kada je donesen ovaj dokument? (upiši dan, mjesec i godinu)

---

1	
---	--

c) Što je glavni zaključak ovog dokumenta?

---

1	
---	--

28. Proučite izvornu povijesnu fotografiju i odgovorite na pitanja.



a) Što u Republici Hrvatskoj simboliziraju ovakvi spomenici?

1	
---	--

---

b) U kojem mjestu u Hrvatskoj je uz Vukovar 18. studenog 1991. godine počinjen strašan ratni zločin nad civilnim stanovništvom?

1	
---	--

---

c) Napiši ime mjesta u kojem se dogodio najveći zločin bosanskohercegovačkog rata, a u kojem je u srpnju 1995. godine masakrirano više od 8000 muslimana?

1	
---	--

---



29. Proučite izvornu povijesnu fotografiju i odgovorite na pitanja.



a) U kojem gradu je snimljena ova fotografija?

1	
---	--

---

b) Što će se dogoditi tom gradu nakon završetka Drugoga svjetskog rata?

1	
---	--

---

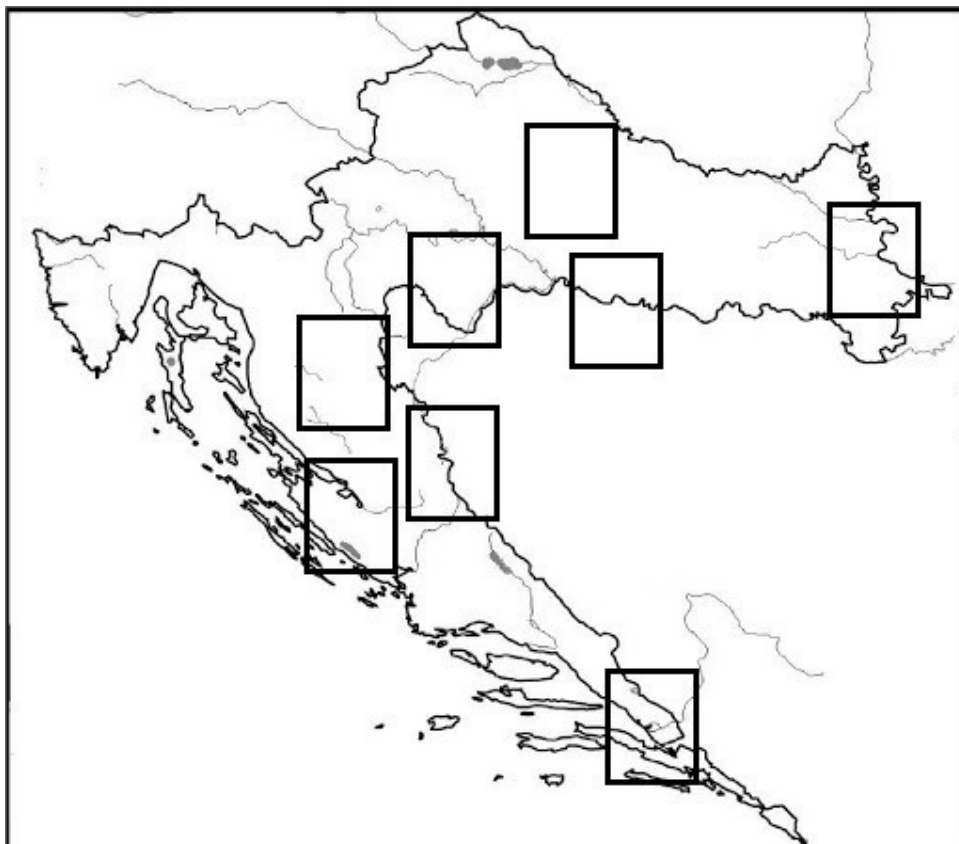
c) Kako su naziva grad pored grada sa slike u kojem je održan posljednji susret velike trojce ?

1	
---	--

---

VII. Sljedeće zadatke riješite uz pomoć povijesnog zemljovida.

30. Na zemljovidu je prikazana Republika Hrvatska. U odgovarajuće kvadratiće upiši mjesto stradanja heroja Domovinskog rata.



a) Označite brojem 1 područje gdje je poginuo heroj Domovinskog rata Damir Tomljanović Gavran.

1	
---	--

b) Označite brojem 2 područje gdje je poginuo Josip Jović, prva žrtva Domovinskog rata.

1	
---	--

c) Označite brojem 3 područje gdje je poginuo heroj Domovinskog rata Predrag Matanović.

1	
---	--

31. Na slijepom zemljovidu prikazana je Europa.



a) Označite brojem 1 državu kojom je vladao komunistički diktator Nicolae Ceausescu.

1	
---	--

b) Označite brojem 2 državu u kojoj je 1956. godine došlo do otpora socijalizmu.

1	
---	--

c) Označite brojem 3 jedinu komunističku državu koja nije potpisala Varšavski ugovor.

1	
---	--