

ŽUPANIJSKO NATJECANJE IZ POVIJESTI

1. SKUPINA VIII. RAZRED

ŠKOLSKA GODINA: 2019. / 2020.

UTORAK, 22. rujna 2020.

10: 00 sati

ZAPORKA: _____

OIB: _____

BROJ BODOVA:

50	
----	--

POSTOTAK RIJEŠENOSTI ISPITA: _____

ČLANOVI PROSUDBENOG POVJERENSTVA:

1. _____
2. _____
3. _____

(mjesto i nadnevak)

NAPUTCI:

1. Imate 60 minuta za rješavanje ispita.
2. Odgovore u ispitu upisujete na za to predviđena mjesta. Ispred svake skupine zadataka nalazi se uputa za njihovo rješavanje. Pozorno ju pročitajte.
3. Ispit pišite plavom ili crnom kemijskom olovkom. Pišite čitko. Nečitki odgovori bodovat će se s 0 bodova.
4. Osobna imena i prezimena te geografska imena pišite izvorno prema udžbenicima odobrenim od MZOS-a u šk. g. 2019./2020.
5. Jednom napisane odgovore u ispitu nije dopušteno prepravljati već ih treba staviti u zagradu i precrtati te skraćenim potpisom (paraform) označiti i upisati ispravni odgovor.

—(Pipin Mali)—	Karlo Veliki	№
precrtan netočan odgovor u zagradi ispravan odgovor paraform (skraćeni potpis)		

6. Možete koristiti list za koncept tijekom rješavanja ispita. List za koncept predviđen je kao pomoćni list i on se neće bodovati. U omotnici zajedno s ispitom predajete i list za koncept.
7. Želimo Vam mnogo uspjeha!
 - I. U zadacima koji slijede samo je jedan odgovor točan. Pažljivo pročitajte pitanje i zaokružite slovo ispred točnog odgovora.

1. Koje je godine u promet bio pušten Panamski kanal?

a) 1911.

1	
---	--

b) 1912.

c) 1913.

d) 1914.

2. Koje je godine prvi puta organizirana utrka *Tour de France*?

a) 1902.

1	
---	--

b) 1903.

c) 1904.

d) 1905.

3. Koji je ban Dalmacije, Hrvatske i Slavonije imenovan komesarom 1912. godine?

a) Ivan Skerlecz

1	
---	--

b) Nikola Tomašić

c) Slavko Cuvaj

d) Antun Mihalović

4. Kada je Međimurje bilo priključeno Kraljevini Mađarskoj?

a) travanj 1941.

1	
---	--

b) svibanj 1941.

c) kolovoz 1941.

d) prosinac 1941.

5. Tko je 1922. godine podržao Benita Mussolinija i imenovao ga mandatarom vlade?

a) Giovanni Giolitti

1	
---	--

b) Vittorio Emanuele Orlando

c) Luigi Facta

d) Vittorio Emanuele III.

6. U kojem se mjestu nalazila oružnička postaja napadnuta u Velebitskom (Ličkom) ustanku 1932. godine?

a) Brušane

1	
---	--

b) Gospić

c) Smiljan

d) Bilaj

7. U kojem je mjestu 1919. godine potpisan mirovni sporazum s Bugarskom?


a) Saint-Germain

1	
---	--

b) Neuilly

c) Trianon

d) Sevres



8. Tko je osoba, hrvatski znanstvenik, prikazana na fotografiji?

1	
---	--

- a) Vladimir Prelog
- b) Lavoslav Ružička
- c) Andrija Mohorovičić
- d) Andrija Štampar

9. Tko je bila predvodnica britanskih sufražetkinja?

1	
---	--

- a) Lucy Burns
- b) Alice Paul
- c) Emmeline Pankhurst
- d) Kate Shepard

10. Tko je bio začetnik geološke teorije tektonike ploča?

1	
---	--

- a) John Logie Baird
- b) Lisa Meitner
- c) Alfred Wegener
- d) Georges Lemaitre

II. U sljedećim zadacima povežite međusobno srodne pojmove upisivanjem slova na praznu crtu iza broja. Tri od ponuđenih pojmova nemaju svoj adekvatan par i nigdje se ne pripisuju.

11. Povežite vojskovođe i događaje iz Drugoga svjetskog rata

3	
---	--

1. ____ Isoroku Yamamoto

2. ____ Bernard Montgomery

3. ____ Friedrich von Paulus

- a) bitka za Iwo Jimu
- b) operacija Torch (Baklja)
- c) bitka kod Staljingrada
- d) bitka kod Midwaya
- e) napad na Pearl Harbor
- f) bitka kod El Alameina

12. Povežite hrvatske povijesne osobe i godine njihove smrti.

3	
---	--

1. ____ Matko Laginja, pravnik i političar

2. ____ Frano Supilo, novinar i političar


3. ____ Milan Šufflay, povjesničar i političar

- a) 1915.
- b) 1917.
- c) 1918.
- d) 1930.
- e) 1931.
- f) 1932

III. U sljedećim zadatcima odgovorite na pitanja tako da na praznu crtu upišete odgovor.

13. Kako se zvao, prikazan na fotografiji, ruski političar i prvi predsjednik ruske Privremene vlade?

1	
---	--



14. Gdje je utemeljeno Zemaljsko antifašističko vijeće narodnog oslobođenja Hrvatske (ZAVNOH)?

1	
---	--

15. Tko je trebao postati hrvatskim kraljem i biti okrunjen kao Tomislav II.?

1	
---	--

16. Kako se zvala mlada zagrebačka glumica, poznata i kao „hrvatska Shirley Temple“, preminula u stočnom vagonu na putu u koncentracijski logor Auschwitz?

1	
---	--

17. Koje je dužnosti obnašao Josip Broz Tito u zajedničkoj vladi Demokratske Federativne Jugoslavije 1945. godine?

1	
---	--


18. Kada je bio potpisan Viški sporazum, poznat i kao sporazum Tito – Šubašić? (mjesec i godina)

1	
---	--

19. Tko je osnovao pokret „Slobodna Francuska“ i pozvao Francuze na otpor okupatoru?

1	
---	--

20. Koji je francuski političar i maršal iz razdoblja Drugoga svjetskog rata prikazan na fotografiji (puno ime i prezime)?



1	
---	--

1	
---	--

21. Navedi naziv šume u blizini Versaillesa gdje je bilo potpisano primirje s Njemačkom 1918. godine?

1	
---	--

22. Kako se zvao norveški fašist kojega su Nijemci postavili na vlast u Norveškoj? (puno ime i prezime)

IV. U sljedećim zadacima poredajte kronološki navedene činjenice, događaje, procese ili osobe, upisivanjem rednih brojeva od 1. do 4. na praznu crtu iza slova, tako da 1. označava najstariji, a 4. najmlađi.

23. Kronološki poredaj kulturne događaje u Hrvatskoj iz prve polovice 20. stoljeća

- a) ____ objavljen roman Miroslava Krleža, *Povratak Filipa Latinovicza*
b) ____ Objavljena knjiga Ferde Šišića, *Povijest Hrvata u vrijeme narodnih vladara*
c) ____ utemeljeno filmsko društvo Croatia film
d) ____ novela Dinka Šimunovića, *Alkar*, prevedena na kineski jezik

1	
---	--

24. Kronološki poredaj događaje iz hrvatske povijesti tijekom Prvoga svjetskog rata

- a) ____ donesena Krfska deklaracija
b) ____ donesena Svibanjska deklaracija
c) ____ pobuna mornara u Boki kotorskoj
d) ____ osnovan Jugoslavenski odbor

1	
---	--

25. Kronološki poredaj događaje iz povijesti Drugoga svjetskog rata

- a) ____ bitka kod El Alameina
b) ____ potpisana Atlantska povelja
c) ____ započela operacija Torch (Baklja)
d) ____ ulazak SAD-a u rat

1	
---	--

V. Sljedeće zadatke riješite uz pomoć izvornog povijesnog teksta ili slikovnog prikaza.

26. Pozorno pročitaj povijesni izvor i odgovori na postavljena pitanja.

„(...) kao vojnik, mogu Vam reći ovo: Srbija, koja je u ovom ratu dala jedan i pol milijun žrtava za oslobođenja i ujedinjenje svoje jednokrvne braće preko Dunava, Save i Drine, ne može ni u kom slučaju dozvoliti, da se na njenim granicama formira neka nova država, koja bi u svoj sastav uzela sve njene sunarodnike (...) Srbiji – po pravu oružja, (...) pripada sljedeći teritorij: Banat (...); Bačka (...); Srijem i Slavonija do linije željezničke pruge Osijek – Đakovo – Šamac; cijela Bosna i Hercegovina i Dalmacija do rta Planka. Van tog teritorija možete se opredjeljivati po volji: da idete sa Srbijom ili da formirate zasebnu državu“

a) Navedi ime i prezime osobe kojoj se pripisuje ova izjava?

1	
---	--

b) Navedi točan datum sastanka na kojem je bila izrečena ova izjava?

1	
---	--

c) O kojoj se „novoju državi“ koja se formira na granicama Srbije govori u izvoru?

1	
---	--

27. Pozorno pročitaj povijesni izvor i odgovori na postavljena pitanja

„Na području Reicha ubrzo će uslijediti niz akcija usmjerenih protiv Židova, a posebno njihovih sinagoga. (...) Postoji plan o uhićenju 20 do 30 tisuća Židova na području Reicha. Riječ je, prije svih, o bogatim Židovima – detaljne upute slijede tijekom noći. U slučaju da Židovi pruže oružani otpor, potrebno je poduzeti najoštrije mjere.“

a) Kako se naziva događaj najavljen ovim izvorom?

1	
---	--


b) Navedi točan datum kada je taj događaj započeo?

1	
---	--

c) Kako se zvala osoba čiji je čin bio povod nacistima za organiziranje akcije najavljene u izvoru? (puno ime i prezime)

1	
---	--

28. Pozorno pogledaj prikazanu fotografiju i odgovori na postavljena pitanja



a) Koji je književnik i član HSS-a prikazan na fotografiji? (puno ime i prezime)

1	
---	--

b) Gdje je bio zatočen za vrijeme Drugoga svjetskog rata?

1	
---	--

c) Koje je godine bio pogubljen?

1	
---	--

VI. Sljedeće zadatke riješite uz pomoć slijepe karte.

29. Pozorno proučite prikazanu kartu Europe krajem 1930-ih godina i odgovorite na postavljena pitanja?



A. Kako se zvao diktator države pod brojem 9? (puno ime i prezime)

1	
---	--

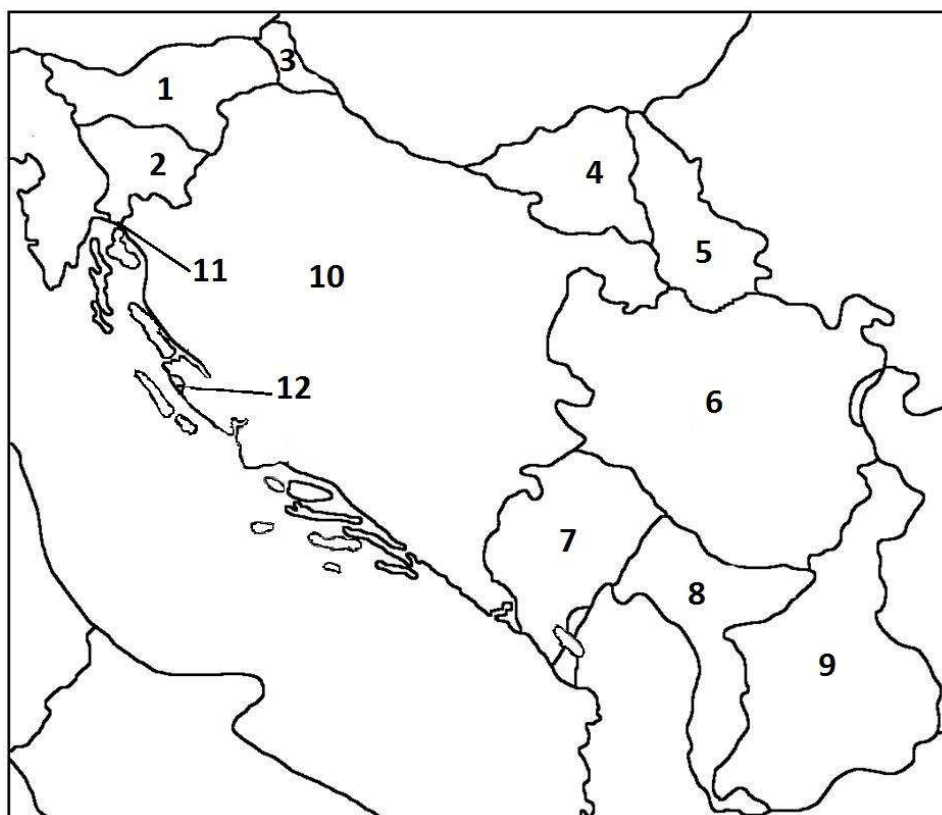
B. Kako se zvao državnik ubijen 1934. godine u državi pod brojem 1? (puno ime i prezime)

1	
---	--

C. Kojim je brojem označena država u kojoj je diktator imao titulu El Caudillo?

1	
---	--

30. Pozorno proučite prikazanu kartu bivše Kraljevine Jugoslavije početkom Drugoga svjetskog rata i odgovorite na postavljena pitanja.



A. Kojoj je državi bilo pripojeno područje pod brojem 4?

1	
---	--

B. Pod čijom je upravom bilo područje označeno brojem 5?

1	
---	--

C. Kojim su brojem označena područja pripojena Bugarskoj?

1	
---	--

31. Pozorno proučite prikazanu kartu Države Slovenaca, Hrvata i Srba i odgovorite na postavljena pitanja.



A. Temeljem kojeg je ugovora vojska države pod brojem 5 počela ulaziti na teritorij Države SHS?

1	
---	--

B. Navedi točan datum kada je područje označeno brojem 2 bilo priključeno Srbiji?

1	
---	--

C. Tko je, krajem 1918. godine, bio na čelu države označene brojem 7? (puno ime i prezime)

1	
---	--
